





















Aumento o Disminución de Porcientos (J)

Nombre: _____

Fecha: _____

Calcule el aumento o disminución de los porcientos.

	Cantidad Original		Nueva Cantidad	Aumento o Disminución	Cambio del porcentaje
1.	\$620	→	\$651	 	
2.	\$600	→	\$300	 	
3.	\$820	→	\$533	 	
4.	\$145	→	\$174	 	
5.	\$485	→	\$97	 	
6.	\$980	→	\$1617	 	
7.	\$240	→	\$204	 	
8.	\$790	→	\$1106	 	
9.	\$120	→	\$222	 	
10.	\$560	→	\$28	 	

Aumento o Disminución de Porcientos (J) Respuestas

Nombre: _____

Fecha: _____

Calcule el aumento o disminución de los porcientos.

	Cantidad Original		Nueva Cantidad	Aumento o Disminución	Cambio del porcentaje
1.	\$620	→	\$651	↑ ↓	$\frac{651-620}{620} = 5\%$
<hr style="border-top: 1px dashed black;"/>					
2.	\$600	→	\$300	↑ ↓	$\frac{300-600}{600} = -50\%$
<hr style="border-top: 1px dashed black;"/>					
3.	\$820	→	\$533	↑ ↓	$\frac{533-820}{820} = -35\%$
<hr style="border-top: 1px dashed black;"/>					
4.	\$145	→	\$174	↑ ↓	$\frac{174-145}{145} = 20\%$
<hr style="border-top: 1px dashed black;"/>					
5.	\$485	→	\$97	↑ ↓	$\frac{97-485}{485} = -80\%$
<hr style="border-top: 1px dashed black;"/>					
6.	\$980	→	\$1617	↑ ↓	$\frac{1617-980}{980} = 65\%$
<hr style="border-top: 1px dashed black;"/>					
7.	\$240	→	\$204	↑ ↓	$\frac{204-240}{240} = -15\%$
<hr style="border-top: 1px dashed black;"/>					
8.	\$790	→	\$1106	↑ ↓	$\frac{1106-790}{790} = 40\%$
<hr style="border-top: 1px dashed black;"/>					
9.	\$120	→	\$222	↑ ↓	$\frac{222-120}{120} = 85\%$
<hr style="border-top: 1px dashed black;"/>					
10.	\$560	→	\$28	↑ ↓	$\frac{28-560}{560} = -95\%$
<hr style="border-top: 1px dashed black;"/>					