





















Aumento o Disminución de Porcientos (D)

Nombre: _____

Fecha: _____

Calcule el aumento o disminución de los porcientos.

	Cantidad Original		Nueva Cantidad	Aumento o Disminución	Cambio del porcentaje
1.	825	→	759	 	
2.	350	→	364	 	
3.	250	→	220	 	
4.	975	→	1131	 	
5.	900	→	837	 	
6.	700	→	679	 	
7.	420	→	441	 	
8.	630	→	504	 	
9.	700	→	763	 	
10.	450	→	531	 	

Aumento o Disminución de Porcientos (D) Respuestas

Nombre: _____

Fecha: _____

Calcule el aumento o disminución de los porcientos.

	Cantidad Original		Nueva Cantidad	Aumento o Disminución	Cambio del porcentaje
1.	825	→	759	↑ ↓	$\frac{759-825}{825} = -8\%$
<hr style="border-top: 1px dashed #000;"/>					
2.	350	→	364	↑ ↓	$\frac{364-350}{350} = 4\%$
<hr style="border-top: 1px dashed #000;"/>					
3.	250	→	220	↑ ↓	$\frac{220-250}{250} = -12\%$
<hr style="border-top: 1px dashed #000;"/>					
4.	975	→	1131	↑ ↓	$\frac{1131-975}{975} = 16\%$
<hr style="border-top: 1px dashed #000;"/>					
5.	900	→	837	↑ ↓	$\frac{837-900}{900} = -7\%$
<hr style="border-top: 1px dashed #000;"/>					
6.	700	→	679	↑ ↓	$\frac{679-700}{700} = -3\%$
<hr style="border-top: 1px dashed #000;"/>					
7.	420	→	441	↑ ↓	$\frac{441-420}{420} = 5\%$
<hr style="border-top: 1px dashed #000;"/>					
8.	630	→	504	↑ ↓	$\frac{504-630}{630} = -20\%$
<hr style="border-top: 1px dashed #000;"/>					
9.	700	→	763	↑ ↓	$\frac{763-700}{700} = 9\%$
<hr style="border-top: 1px dashed #000;"/>					
10.	450	→	531	↑ ↓	$\frac{531-450}{450} = 18\%$