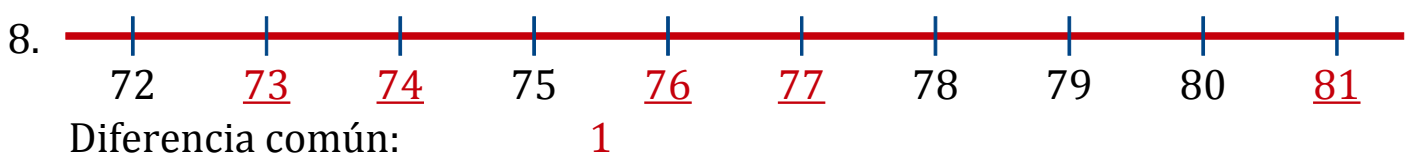
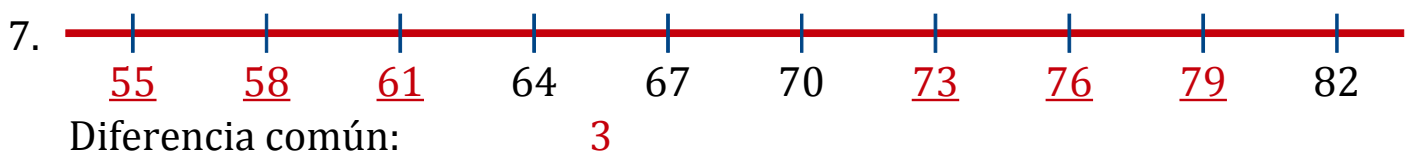
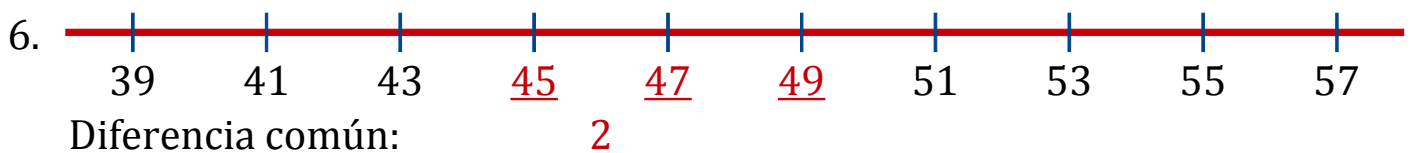
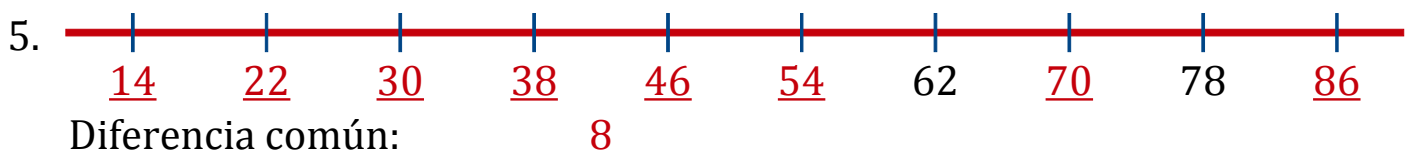
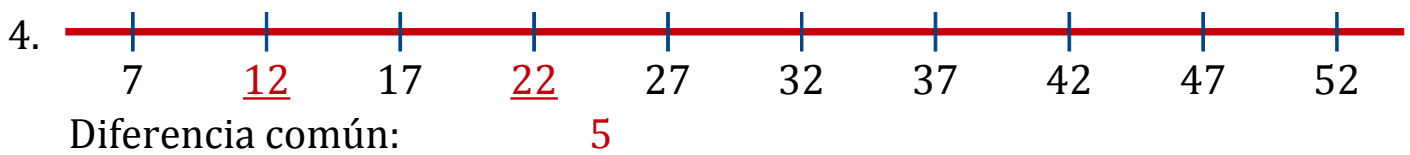
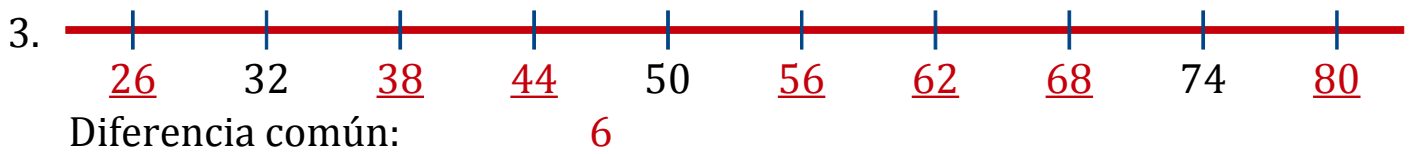
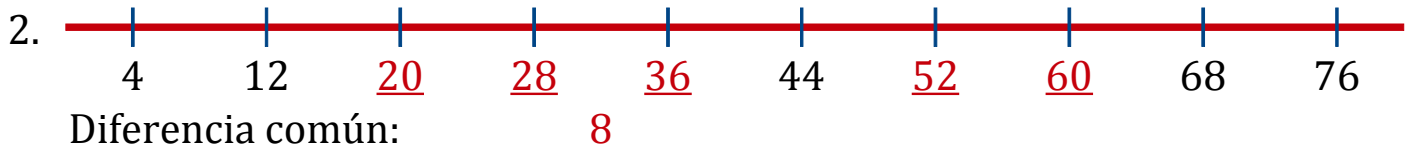
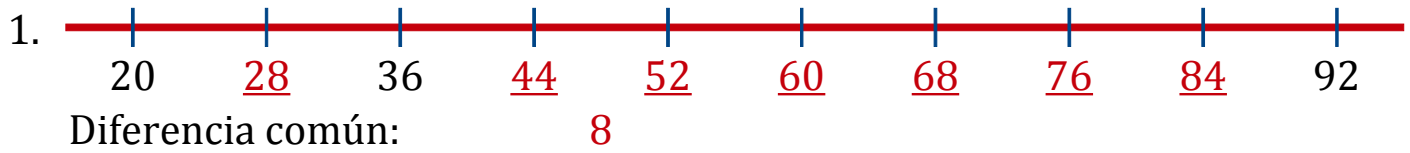




# Secuencias en Rectas Numéricas (A) Respuestas

Rellene los espacios en cada recta numérica.

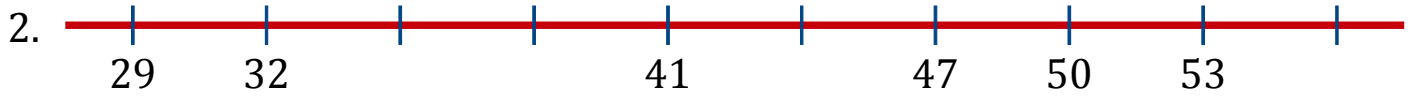


# Secuencias en Rectas Numéricas (B)

Rellene los espacios en cada recta numérica.



Diferencia común: \_\_\_\_\_



Diferencia común: \_\_\_\_\_



Diferencia común: \_\_\_\_\_



Diferencia común: \_\_\_\_\_



Diferencia común: \_\_\_\_\_



Diferencia común: \_\_\_\_\_



Diferencia común: \_\_\_\_\_



Diferencia común: \_\_\_\_\_

# Secuencias en Rectas Numéricas (B) Respuestas

Rellene los espacios en cada recta numérica.



Diferencia común: 4



Diferencia común: 3



Diferencia común: 2



Diferencia común: 5



Diferencia común: 3



Diferencia común: 1



Diferencia común: 7



Diferencia común: 6

# Secuencias en Rectas Numéricas (C)


Rellene los espacios en cada recta numérica.



Diferencia común: \_\_\_\_\_



Diferencia común: \_\_\_\_\_



Diferencia común: \_\_\_\_\_



Diferencia común: \_\_\_\_\_



Diferencia común: \_\_\_\_\_



Diferencia común: \_\_\_\_\_



Diferencia común: \_\_\_\_\_



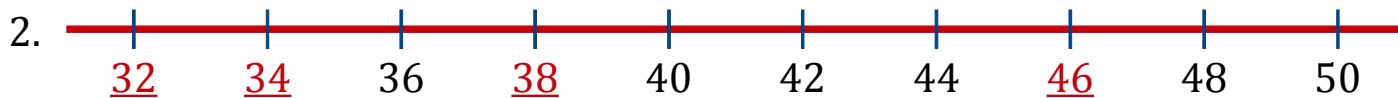
Diferencia común: \_\_\_\_\_

# Secuencias en Rectas Numéricas (C) Respuestas

Rellene los espacios en cada recta numérica.



Diferencia común: 9



Diferencia común: 2



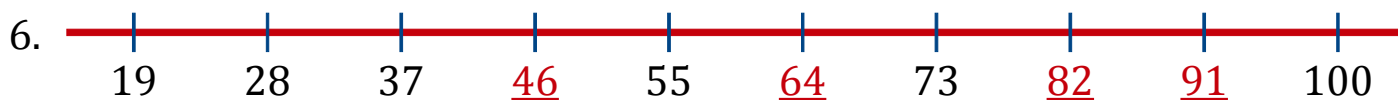
Diferencia común: 8



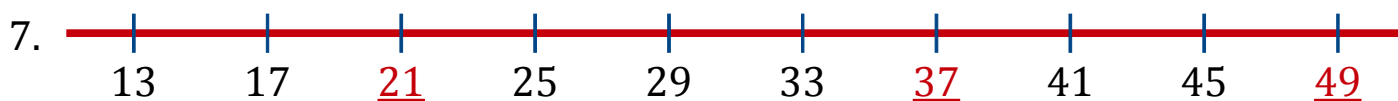
Diferencia común: 6



Diferencia común: 2



Diferencia común: 9



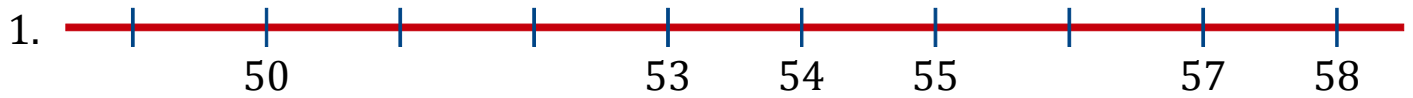
Diferencia común: 4




Diferencia común: 6

# Secuencias en Rectas Numéricas (D)

Rellene los espacios en cada recta numérica.



Diferencia común: \_\_\_\_\_



Diferencia común: \_\_\_\_\_



Diferencia común: \_\_\_\_\_



Diferencia común: \_\_\_\_\_



Diferencia común: \_\_\_\_\_



Diferencia común: \_\_\_\_\_



Diferencia común: \_\_\_\_\_



Diferencia común: \_\_\_\_\_

# Secuencias en Rectas Numéricas (D) Respuestas

Rellene los espacios en cada recta numérica.



Diferencia común: 1



Diferencia común: 7



Diferencia común: 1



Diferencia común: 2



Diferencia común: 4



Diferencia común: 6



Diferencia común: 1



Diferencia común: 5



# Secuencias en Rectas Numéricas (E)


Rellene los espacios en cada recta numérica.



Diferencia común: \_\_\_\_\_



Diferencia común: \_\_\_\_\_



Diferencia común: \_\_\_\_\_



Diferencia común: \_\_\_\_\_



Diferencia común: \_\_\_\_\_



Diferencia común: \_\_\_\_\_



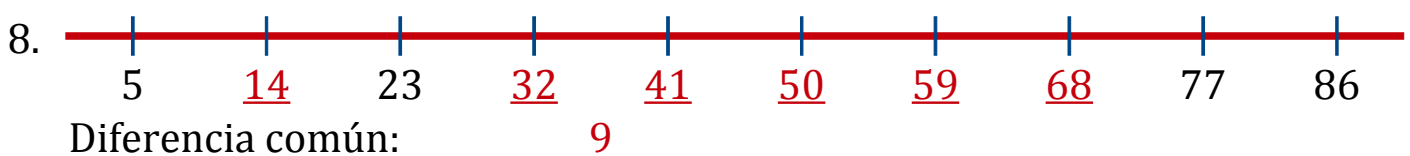
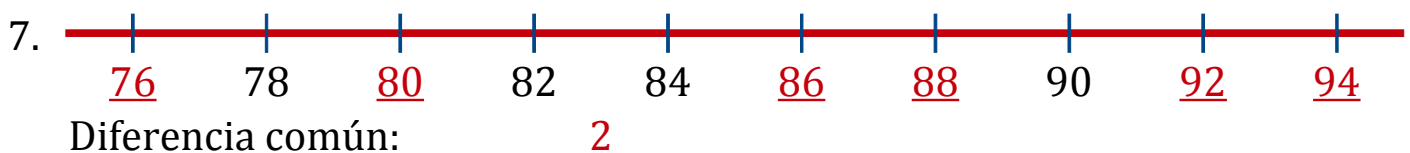
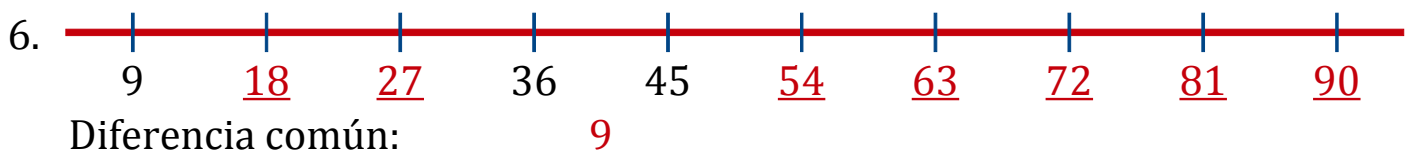
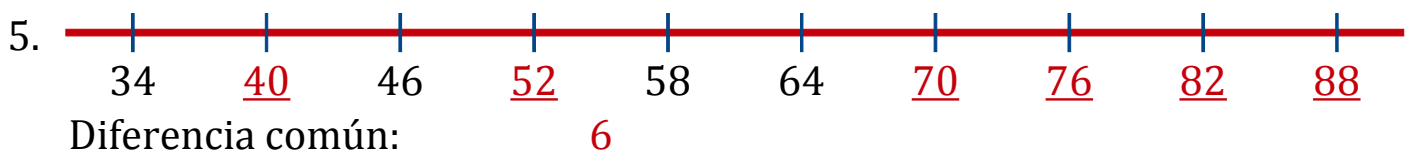
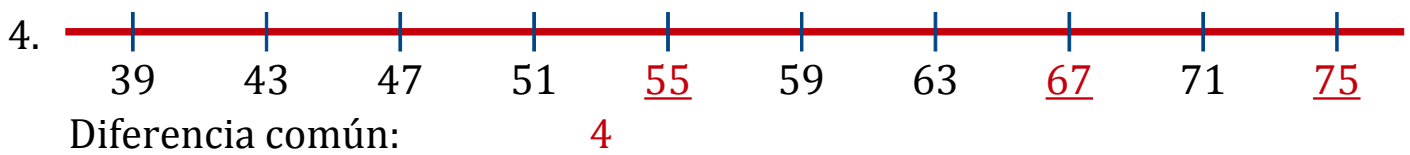
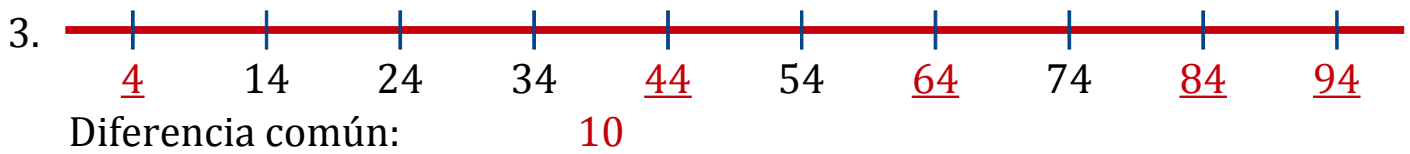
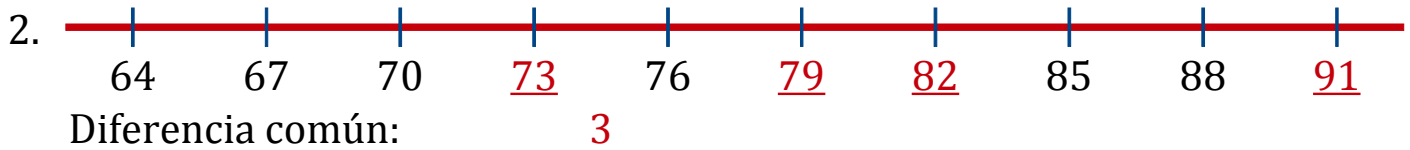
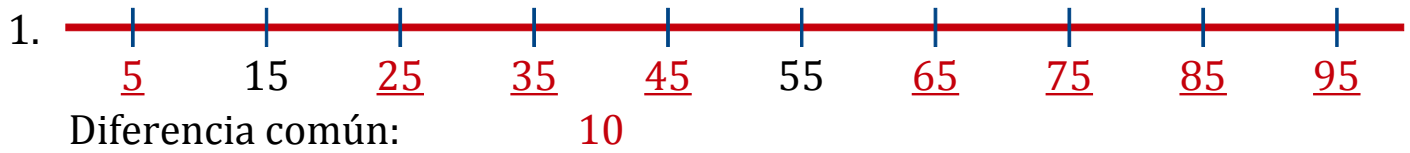
Diferencia común: \_\_\_\_\_



Diferencia común: \_\_\_\_\_

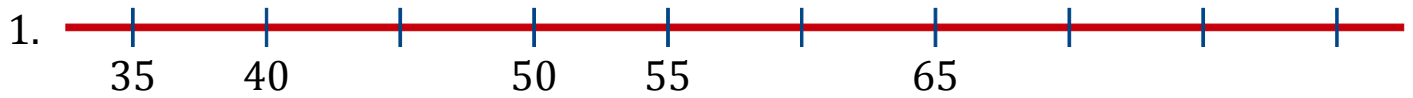
# Secuencias en Rectas Numéricas (E) Respuestas

Rellene los espacios en cada recta numérica.



# Secuencias en Rectas Numéricas (F)

Rellene los espacios en cada recta numérica.



Diferencia común: \_\_\_\_\_



Diferencia común: \_\_\_\_\_



Diferencia común: \_\_\_\_\_



Diferencia común: \_\_\_\_\_



Diferencia común: \_\_\_\_\_



Diferencia común: \_\_\_\_\_



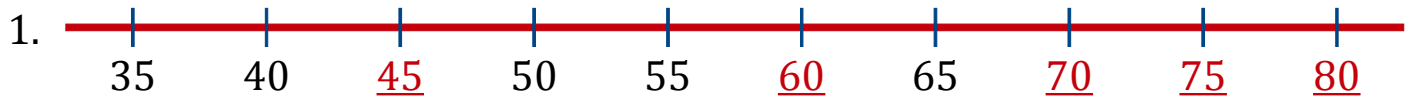
Diferencia común: \_\_\_\_\_



Diferencia común: \_\_\_\_\_

# Secuencias en Rectas Numéricas (F) Respuestas

Rellene los espacios en cada recta numérica.



Diferencia común: 5



Diferencia común: 6



Diferencia común: 6



Diferencia común: 1



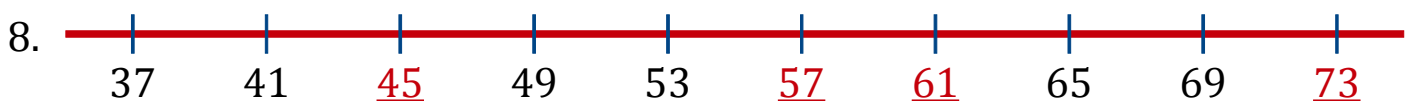
Diferencia común: 1



Diferencia común: 5



Diferencia común: 1



Diferencia común: 4

# Secuencias en Rectas Numéricas (G)

Rellene los espacios en cada recta numérica.



Diferencia común: \_\_\_\_\_



Diferencia común: \_\_\_\_\_



Diferencia común: \_\_\_\_\_



Diferencia común: \_\_\_\_\_



Diferencia común: \_\_\_\_\_



Diferencia común: \_\_\_\_\_



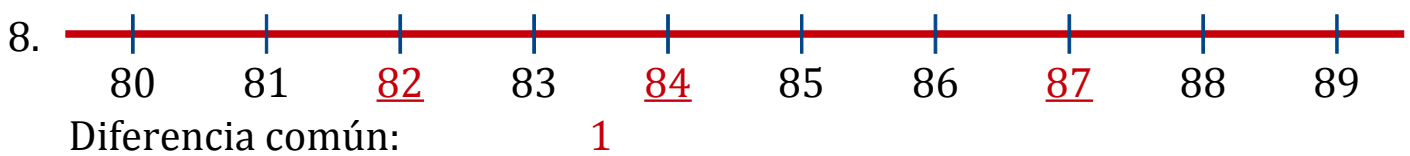
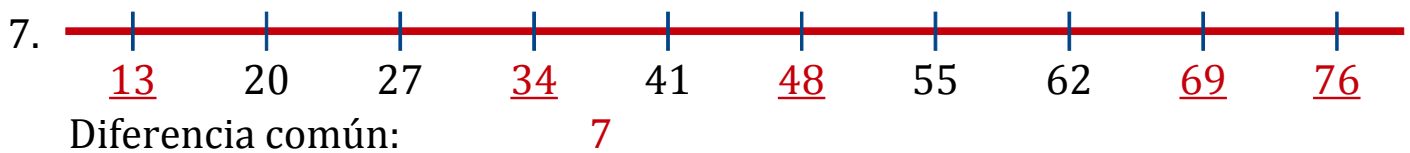
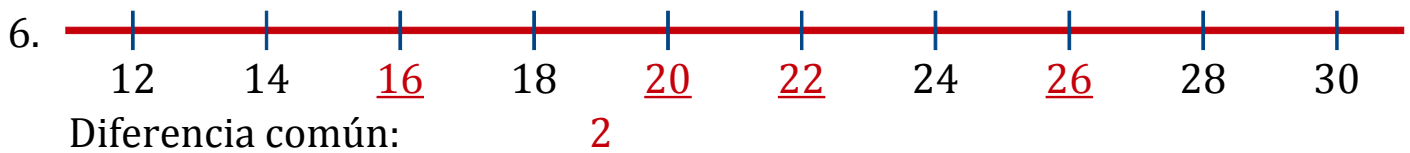
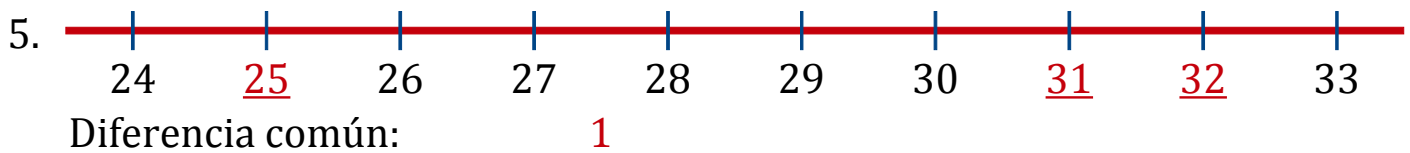
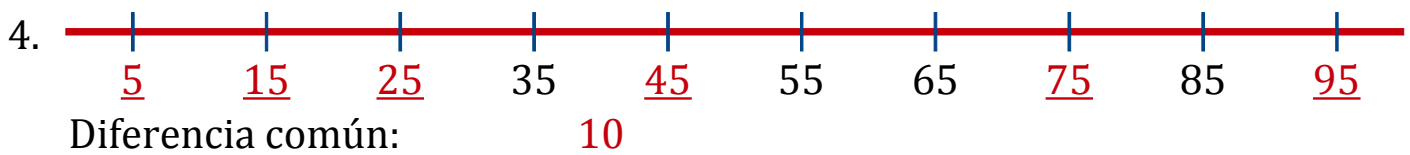
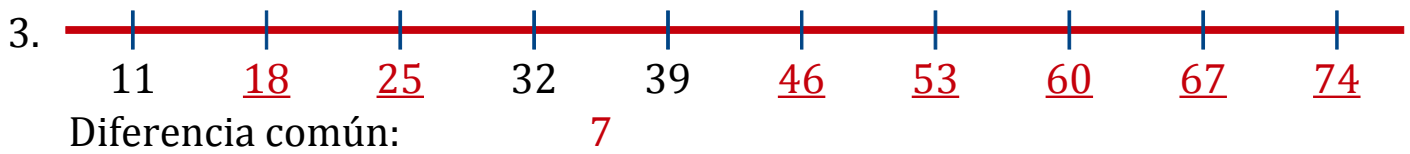
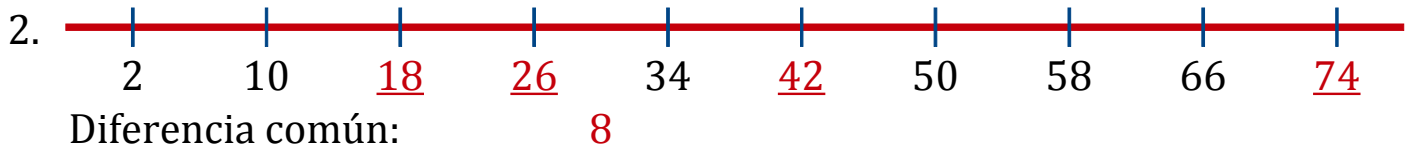
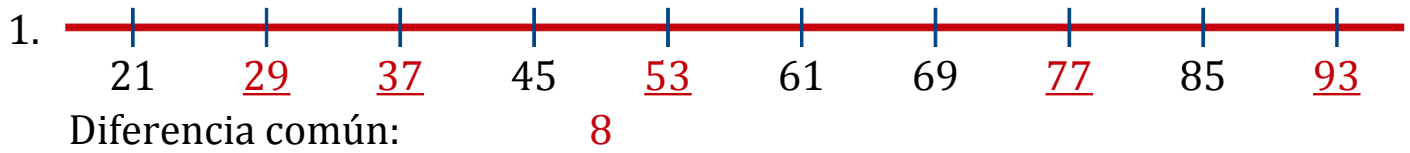
Diferencia común: \_\_\_\_\_



Diferencia común: \_\_\_\_\_

# Secuencias en Rectas Numéricas (G) Respuestas

Rellene los espacios en cada recta numérica.



# Secuencias en Rectas Numéricas (H)

Rellene los espacios en cada recta numérica.



Diferencia común: \_\_\_\_\_



Diferencia común: \_\_\_\_\_



Diferencia común: \_\_\_\_\_



Diferencia común: \_\_\_\_\_



Diferencia común: \_\_\_\_\_



Diferencia común: \_\_\_\_\_



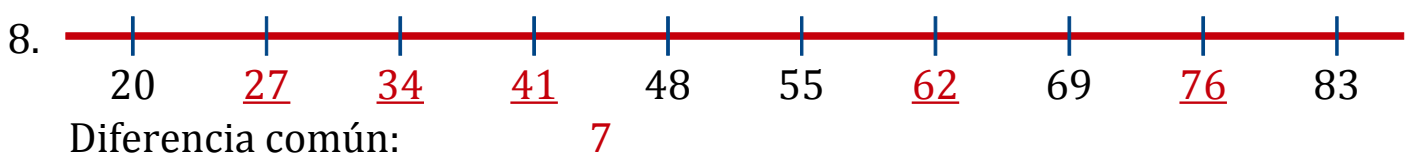
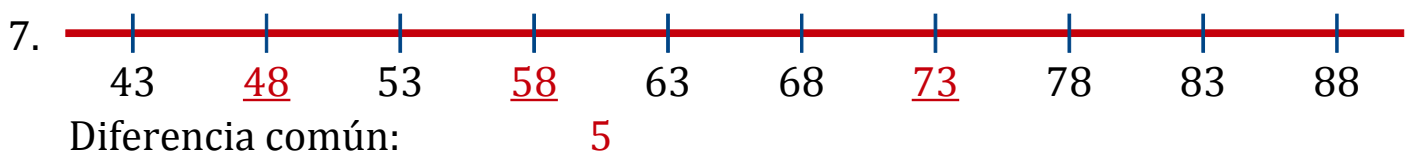
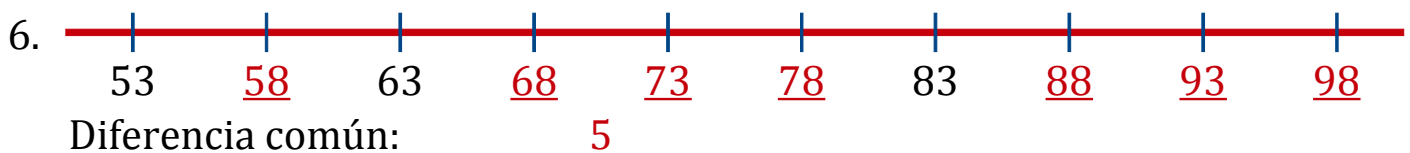
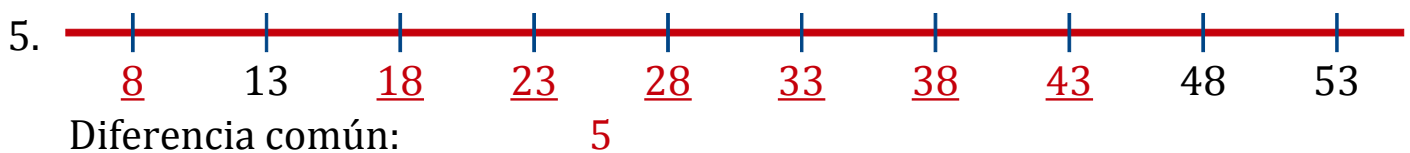
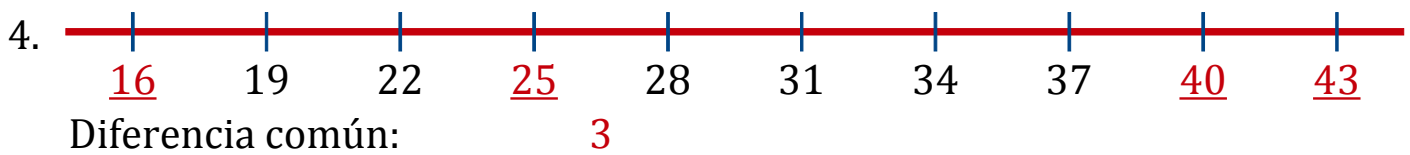
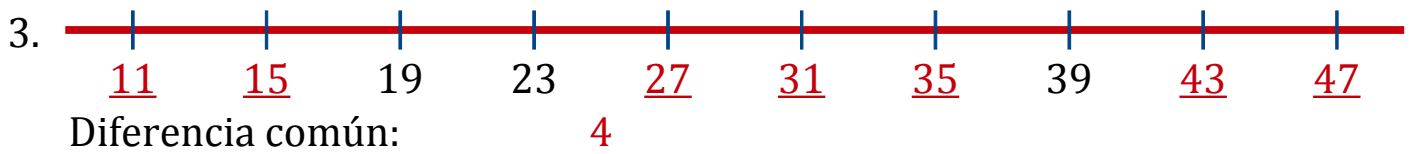
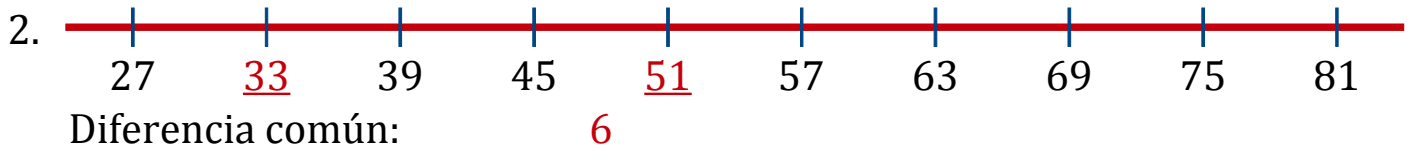
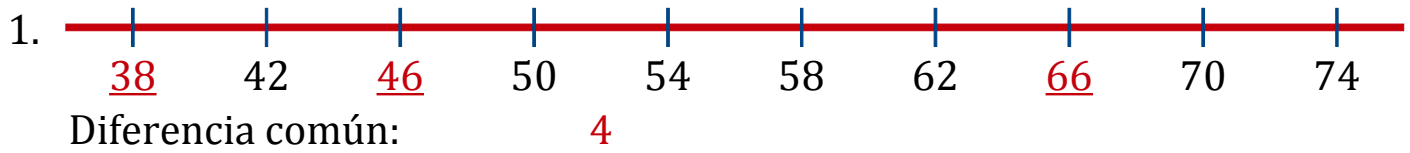
Diferencia común: \_\_\_\_\_



Diferencia común: \_\_\_\_\_

# Secuencias en Rectas Numéricas (H) Respuestas

Rellene los espacios en cada recta numérica.



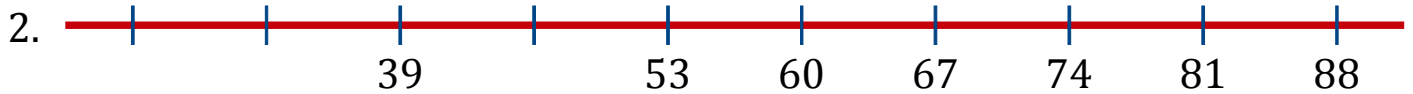


# Secuencias en Rectas Numéricas (I)

Rellene los espacios en cada recta numérica.



Diferencia común: \_\_\_\_\_



Diferencia común: \_\_\_\_\_



Diferencia común: \_\_\_\_\_



Diferencia común: \_\_\_\_\_



Diferencia común: \_\_\_\_\_



Diferencia común: \_\_\_\_\_



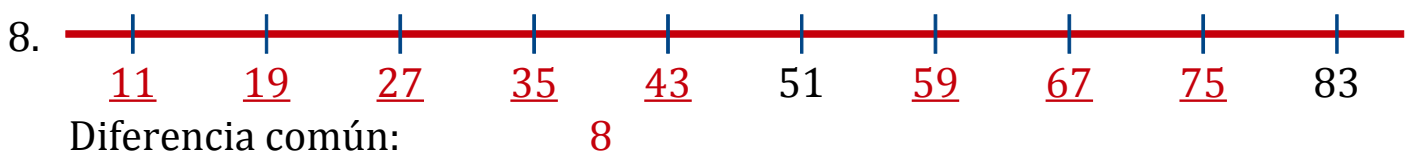
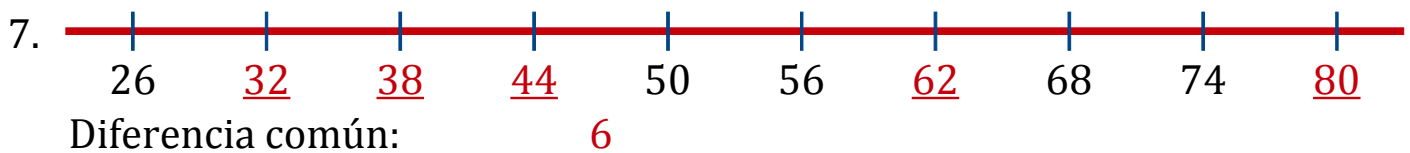
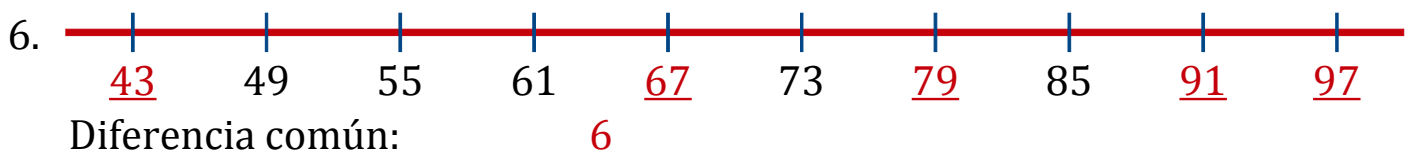
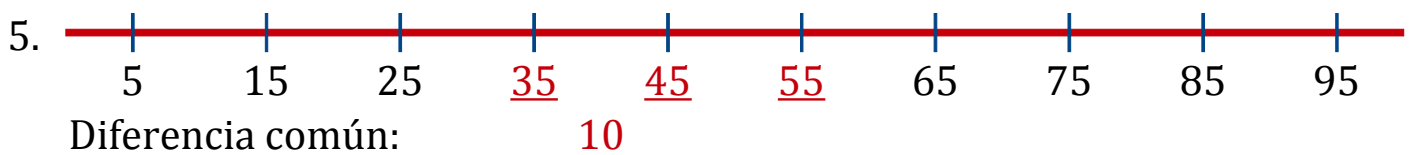
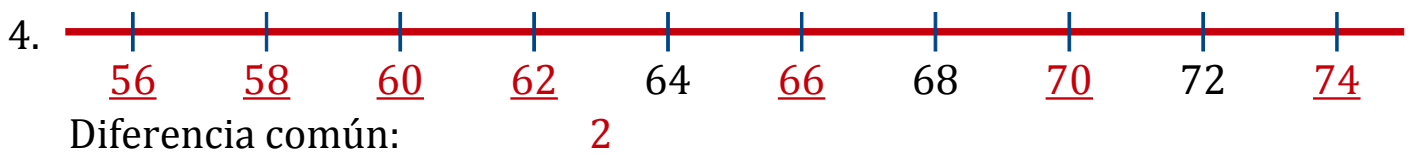
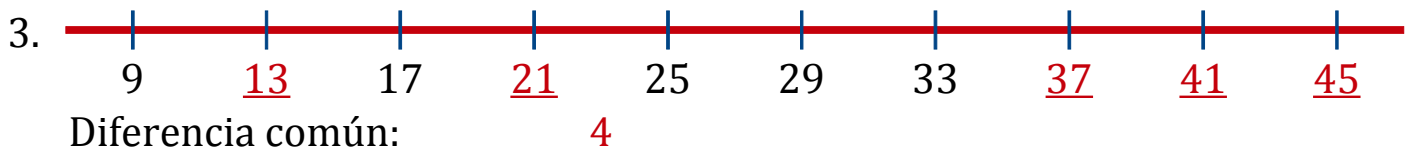
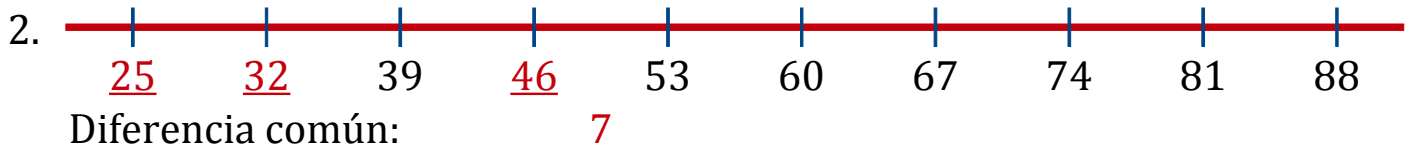
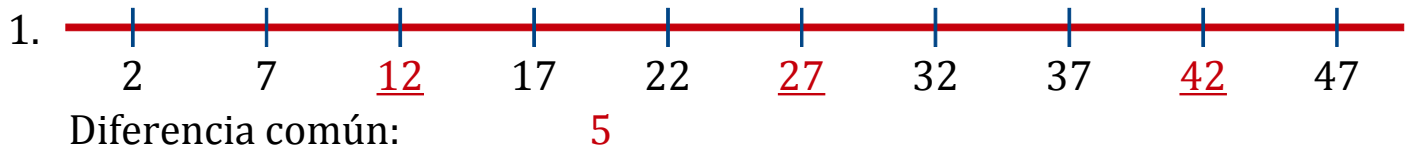
Diferencia común: \_\_\_\_\_



Diferencia común: \_\_\_\_\_

# Secuencias en Rectas Numéricas (I) Respuestas

Rellene los espacios en cada recta numérica.



# Secuencias en Rectas Numéricas (J)

Rellene los espacios en cada recta numérica.



Diferencia común: \_\_\_\_\_



Diferencia común: \_\_\_\_\_



Diferencia común: \_\_\_\_\_



Diferencia común: \_\_\_\_\_



Diferencia común: \_\_\_\_\_



Diferencia común: \_\_\_\_\_



Diferencia común: \_\_\_\_\_



Diferencia común: \_\_\_\_\_

# Secuencias en Rectas Numéricas (J) Respuestas

Rellene los espacios en cada recta numérica.

