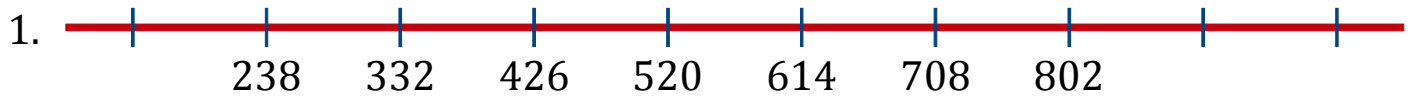
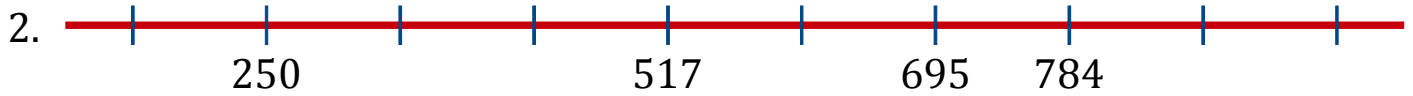


# Secuencias en Rectas Numéricas (G)

Rellene los espacios en cada recta numérica.



Diferencia común: \_\_\_\_\_



Diferencia común: \_\_\_\_\_



Diferencia común: \_\_\_\_\_



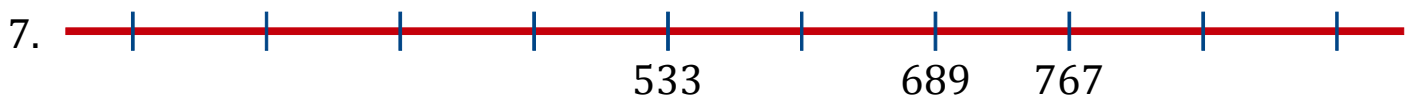
Diferencia común: \_\_\_\_\_



Diferencia común: \_\_\_\_\_



Diferencia común: \_\_\_\_\_



Diferencia común: \_\_\_\_\_



Diferencia común: \_\_\_\_\_

# Secuencias en Rectas Numéricas (G) Respuestas

Rellene los espacios en cada recta numérica.

