

Secuencias en Rectas Numéricas (G)


Rellene los espacios en cada recta numérica.



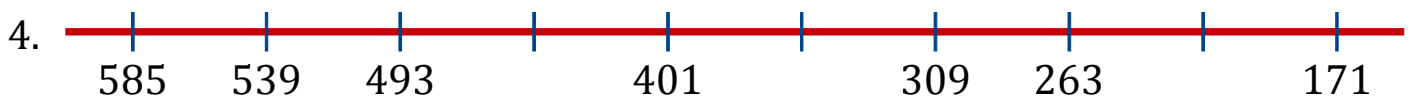
Diferencia común: _____




Diferencia común: _____



Diferencia común: _____



Diferencia común: _____



Diferencia común: _____



Diferencia común: _____



Diferencia común: _____



Diferencia común: _____

Secuencias en Rectas Numéricas (G) Respuestas

Rellene los espacios en cada recta numérica.

