


Secuencias en Rectas Numéricas (J)

Rellene los espacios en cada recta numérica.



Diferencia común: _____



Diferencia común: _____



Diferencia común: _____



Diferencia común: _____



Diferencia común: _____



Diferencia común: _____



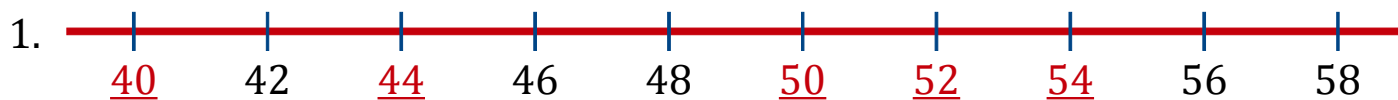
Diferencia común: _____



Diferencia común: _____

Secuencias en Rectas Numéricas (J) Respuestas

Rellene los espacios en cada recta numérica.



Diferencia común: 2



Diferencia común: 7



Diferencia común: 5



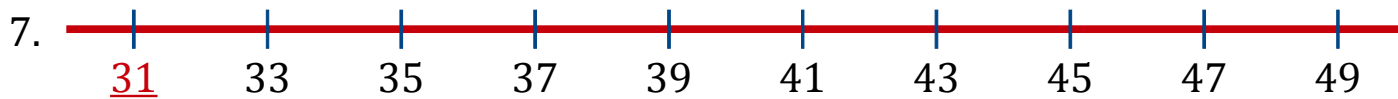
Diferencia común: 3



Diferencia común: 1



Diferencia común: -9



Diferencia común: 2



Diferencia común: -8