

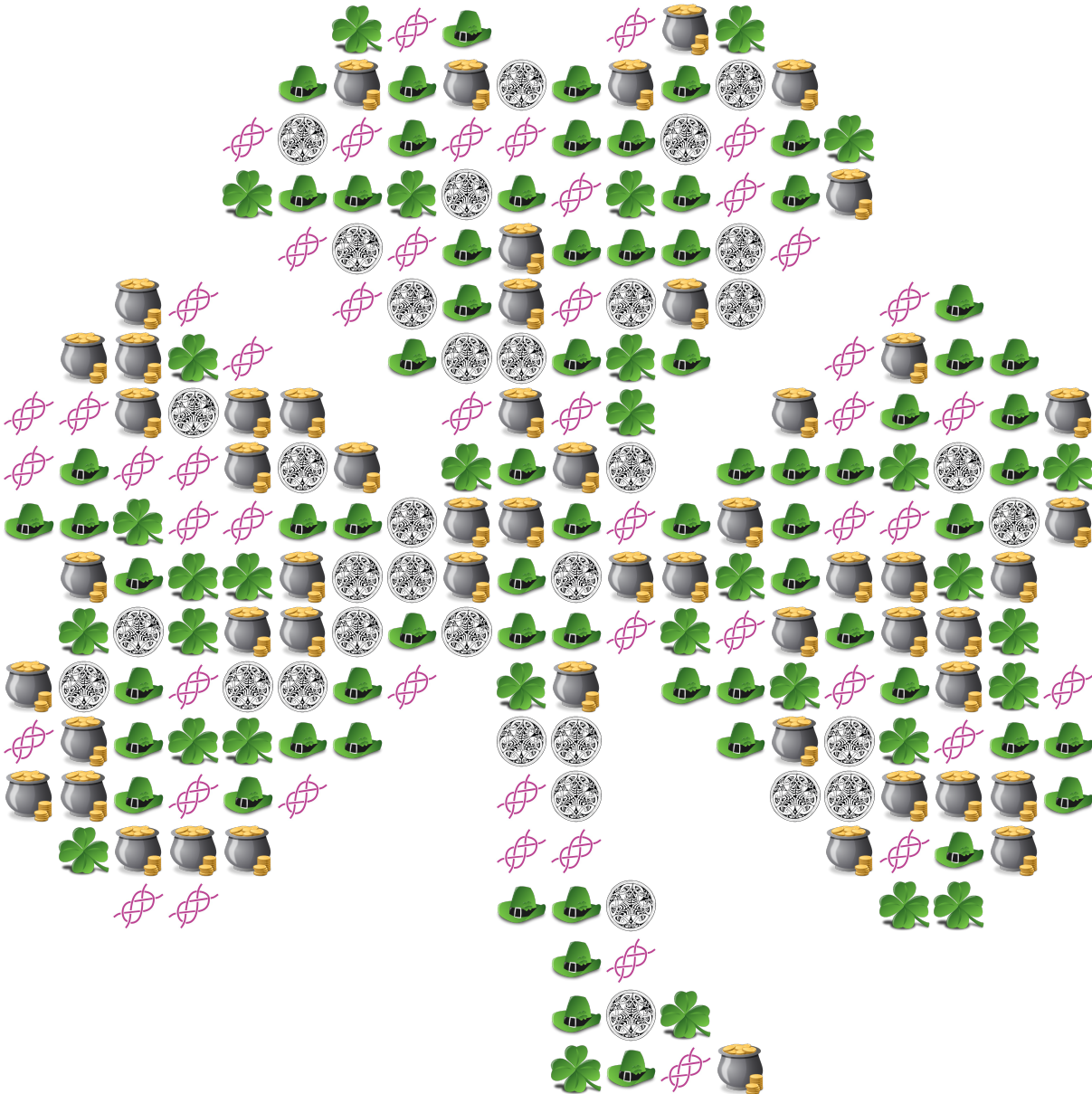
Frecuencias del Día de San Patricio (A)

Nombre: _____

Fecha: _____

Puntuación: _____

Determine la frecuencia, la frecuencia relativa, y el porcentaje (hasta un lugar decimal) de cada artículo.

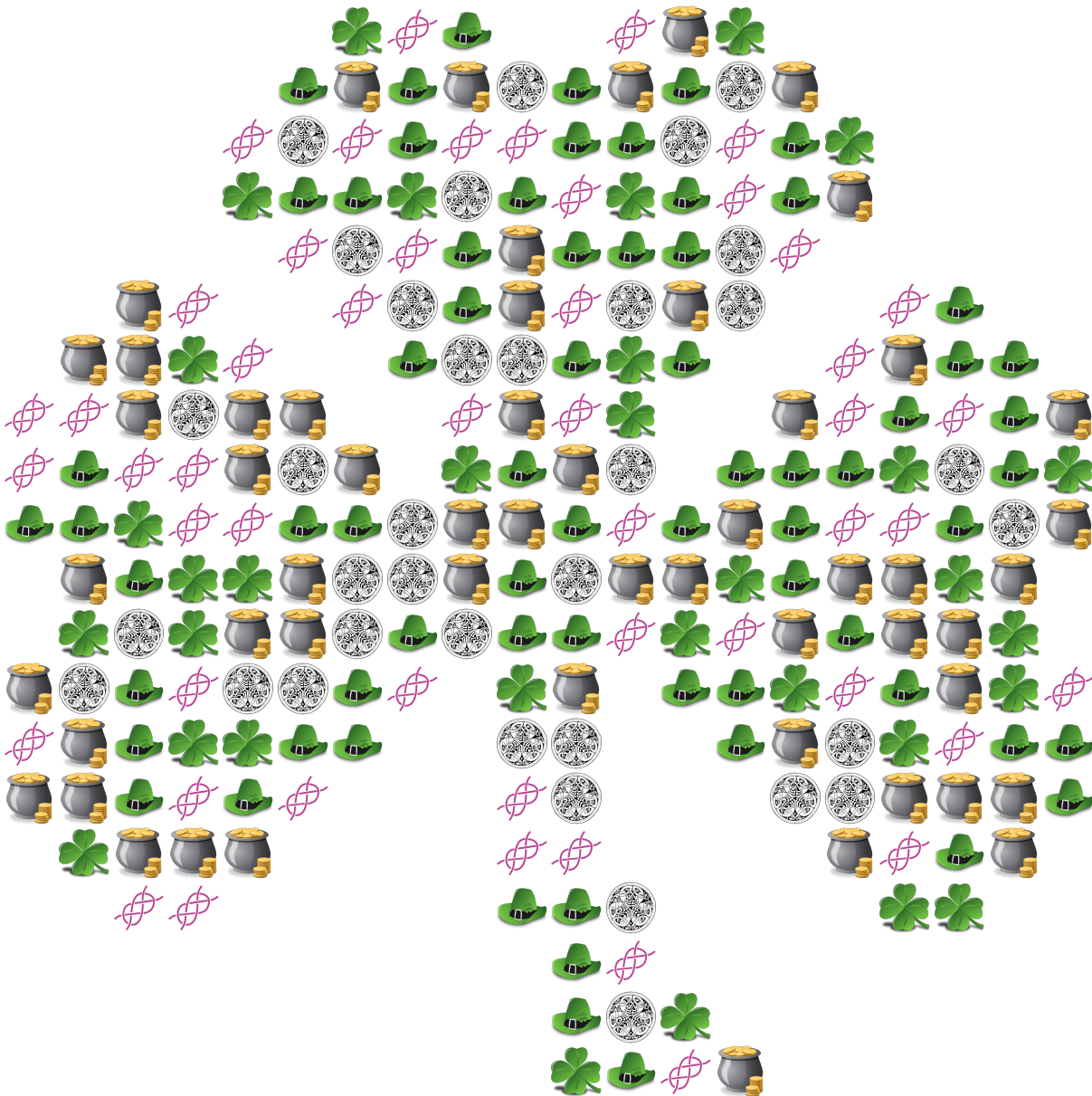


Artículo	Frecuencia	Frecuencia Relativa	Porcentaje
Trébol de Cuatro Hojas			
Cazuela de Oro			
Sombrero de Duende			
Nudo Celta			
Ornamento Celta			

Frecuencias del Día de San Patricio (A) Respuestas

Nombre: _____ Fecha: _____ Puntuación: _____

Determine la frecuencia, la frecuencia relativa, y el porcentaje (hasta un lugar decimal) de cada artículo.



Artículo	Frecuencia	Frecuencia Relativa	Porcentaje
Trébol de Cuatro Hojas	32	$32/240 = 2/15$	13.3%
Cazuela de Oro	55	$55/240 = 11/48$	22.9%
Sombrero de Duende	68	$68/240 = 17/60$	28.3%
Nudo Celta	50	$50/240 = 5/24$	20.8%
Ornamento Celta	35	$35/240 = 7/48$	14.6%

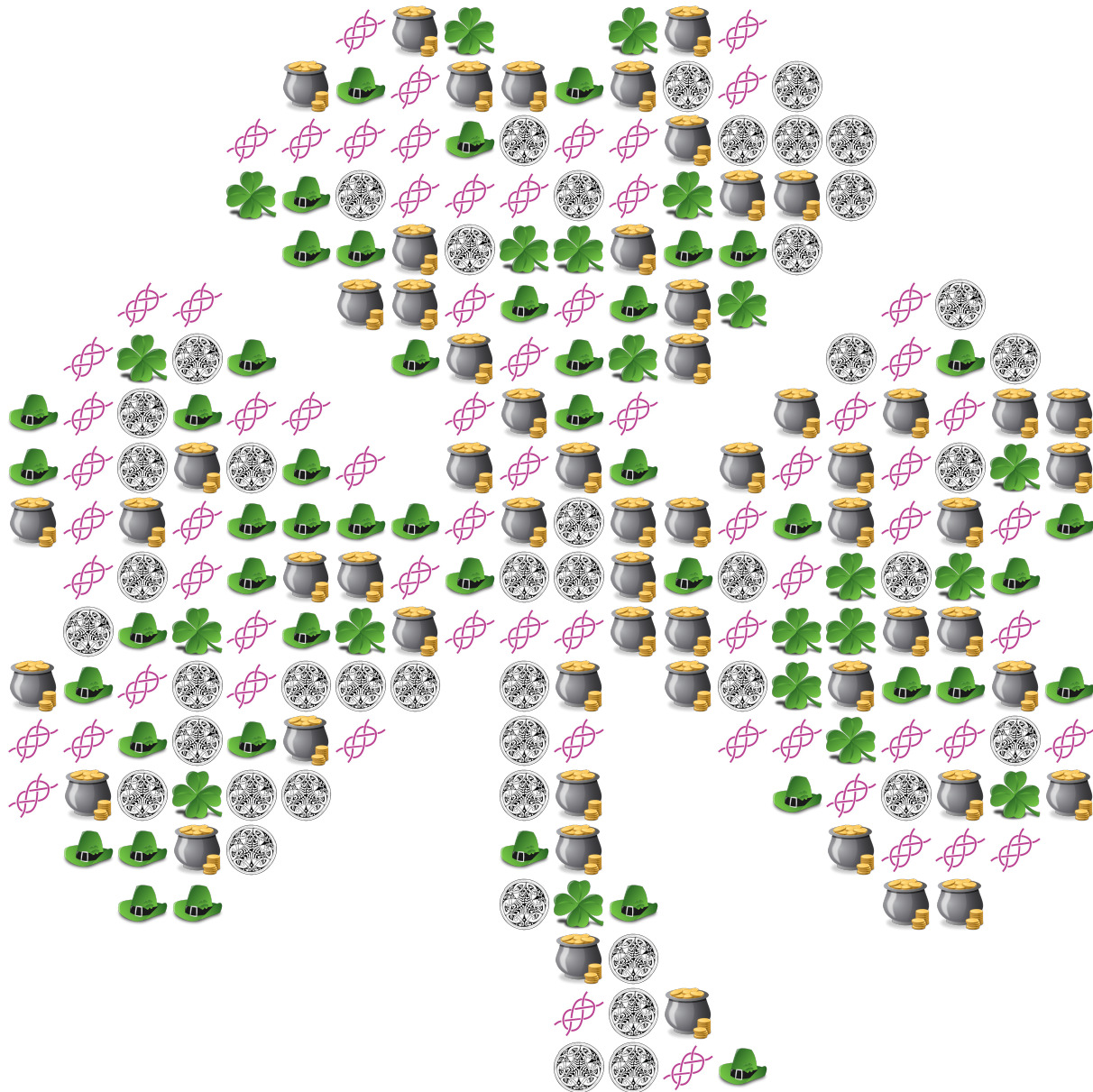
Frecuencias del Día de San Patricio (B)

Nombre: _____

Fecha: _____

Puntuación: _____

Determine la frecuencia, la frecuencia relativa, y el porcentaje (hasta un lugar decimal) de cada artículo.

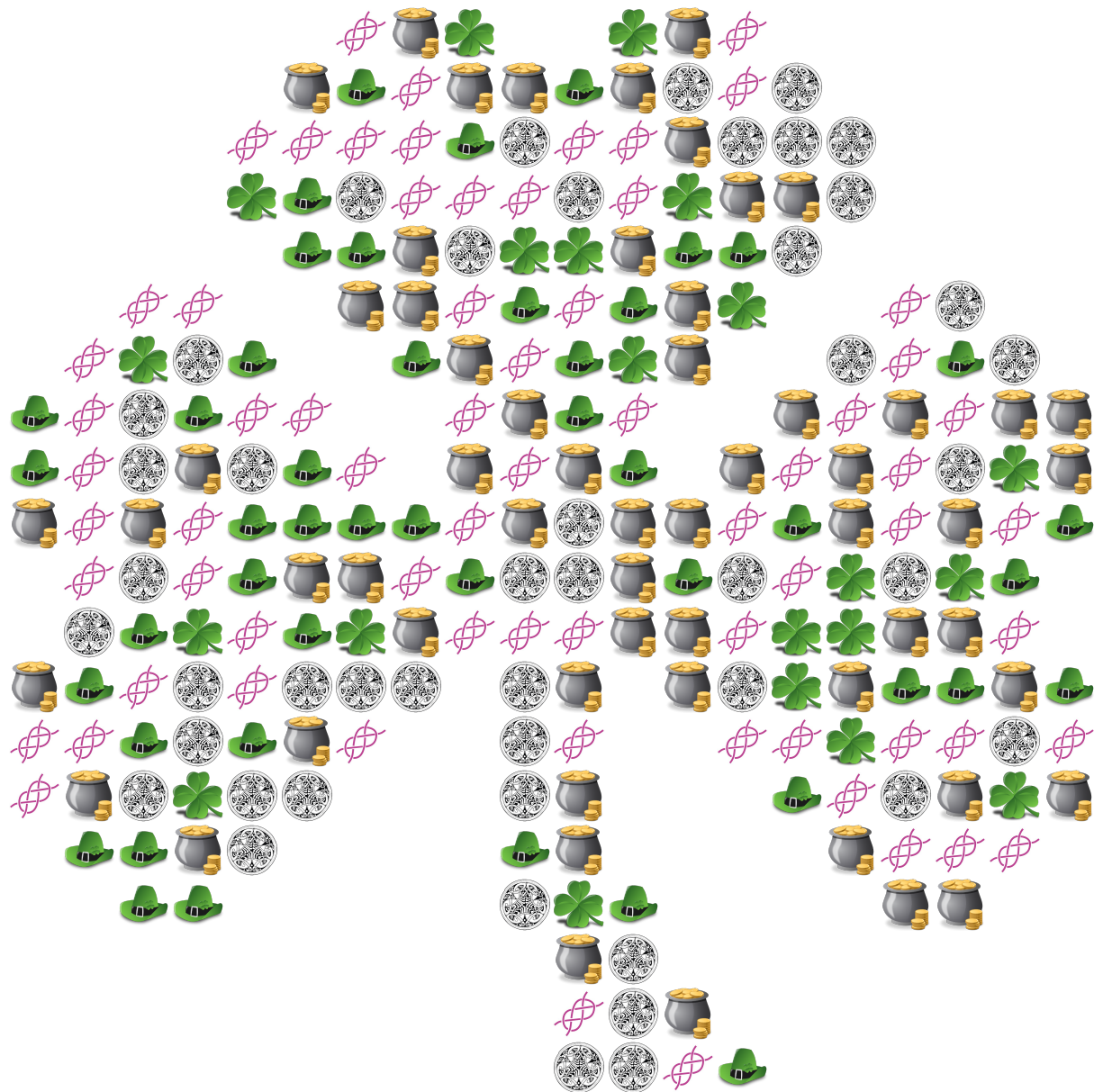


Artículo	Frecuencia	Frecuencia Relativa	Porcentaje
Trébol de Cuatro Hojas			
Cazuela de Oro			
Sombrero de Duende			
Nudo Celta			
Ornamento Celta			

Frecuencias del Día de San Patricio (B) Respuestas

Nombre: _____ Fecha: _____ Puntuación: _____

Determine la frecuencia, la frecuencia relativa, y el porcentaje (hasta un lugar decimal) de cada artículo.

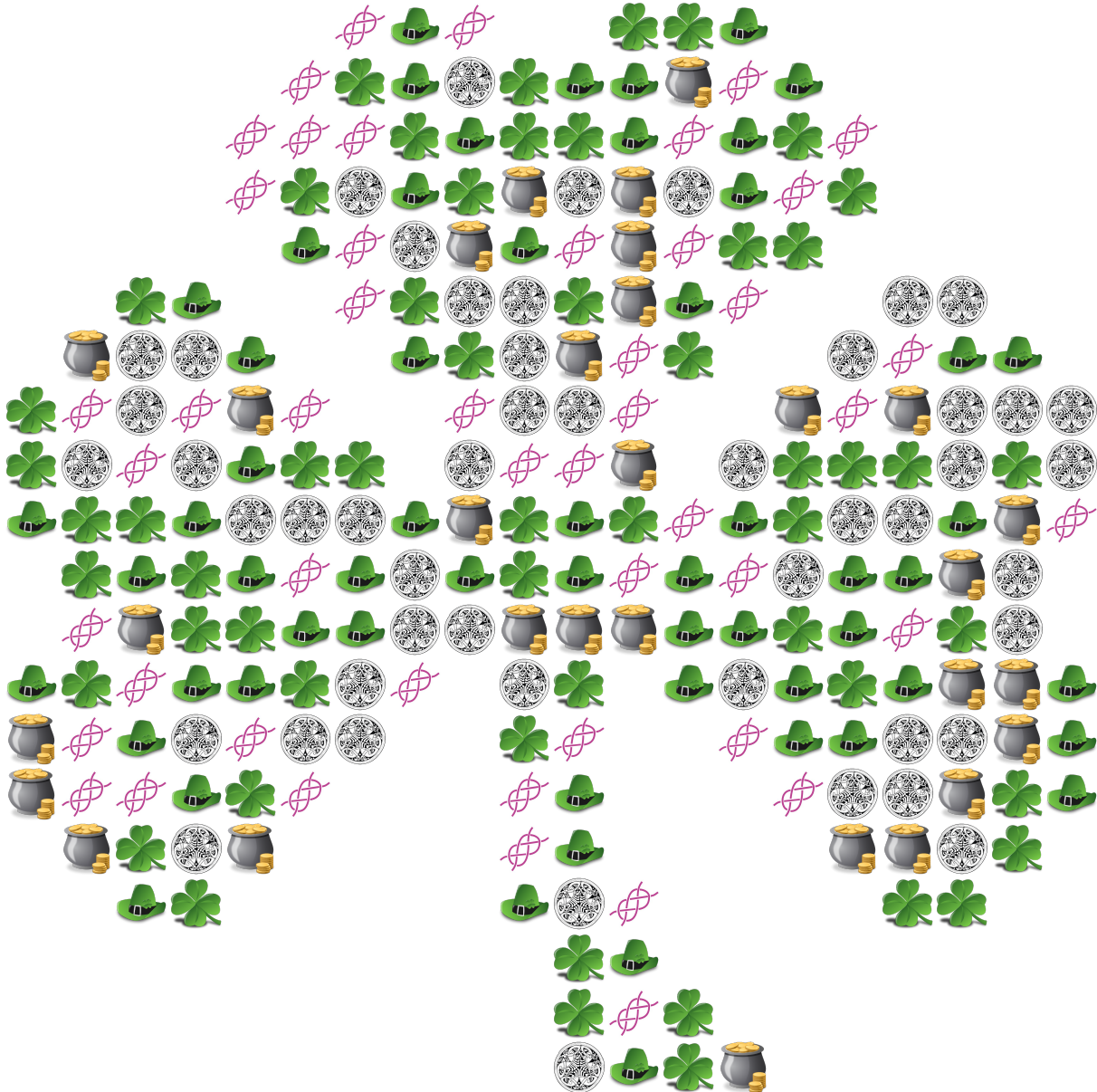


Artículo	Frecuencia	Frecuencia Relativa	Porcentaje
Trébol de Cuatro Hojas	21	$\frac{21}{240} = \frac{7}{80}$	8.8%
Cazuela de Oro	59	$\frac{59}{240}$	24.6%
Sombrero de Duende	46	$\frac{46}{240} = \frac{23}{120}$	19.2%
Nudo Celta	68	$\frac{68}{240} = \frac{17}{60}$	28.3%
Ornamento Celta	46	$\frac{46}{240} = \frac{23}{120}$	19.2%

Frecuencias del Día de San Patricio (C)

Nombre: _____ Fecha: _____ Puntuación: _____

Determine la frecuencia, la frecuencia relativa, y el porcentaje (hasta un lugar decimal) de cada artículo.

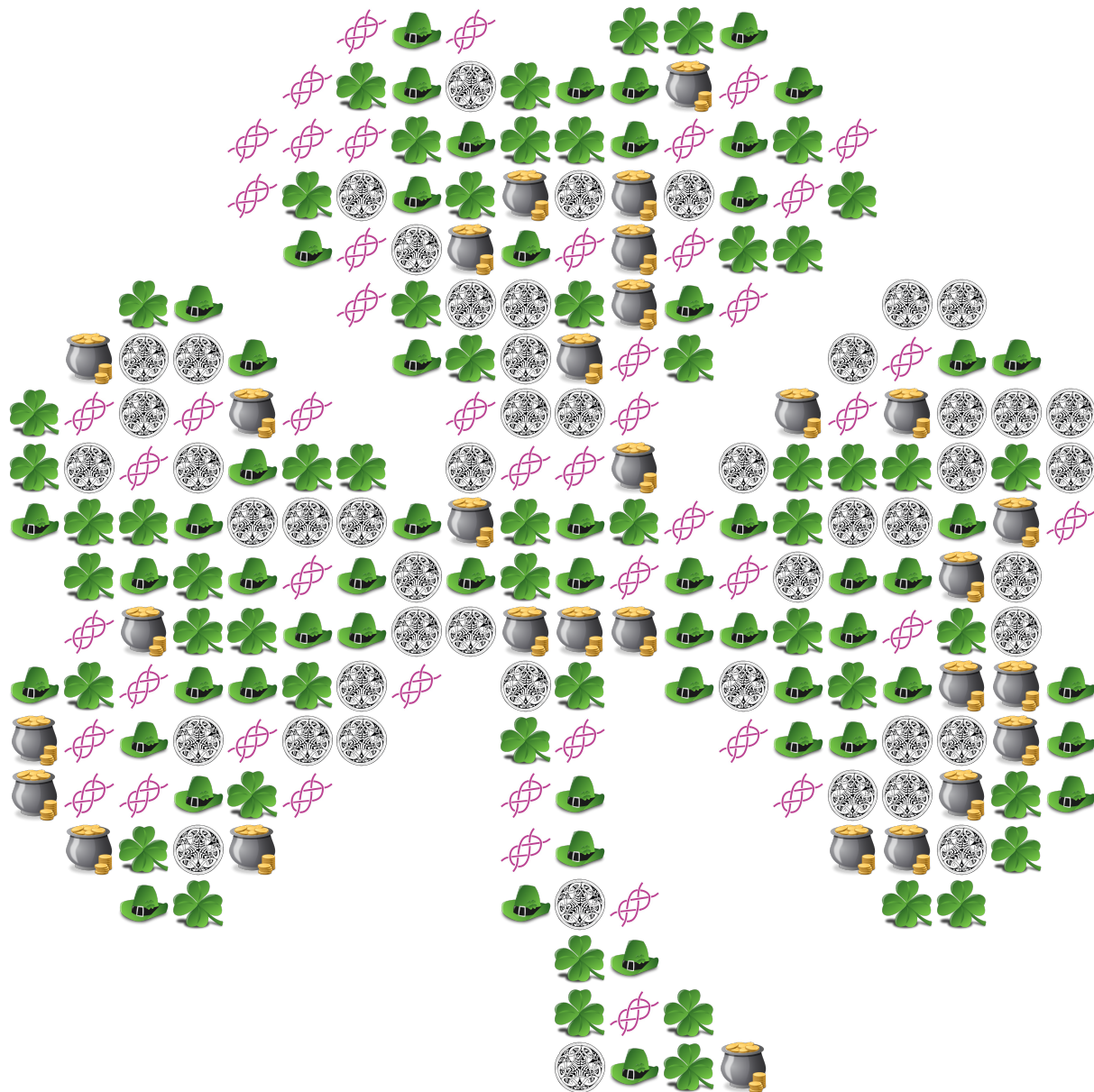


Artículo	Frecuencia	Frecuencia Relativa	Porcentaje
Trébol de Cuatro Hojas			
Cazuela de Oro			
Sombrero de Duende			
Nudo Celta			
Ornamento Celta			

Frecuencias del Día de San Patricio (C) Respuestas

Nombre: _____ Fecha: _____ Puntuación: _____

Determine la frecuencia, la frecuencia relativa, y el porcentaje (hasta un lugar decimal) de cada artículo.

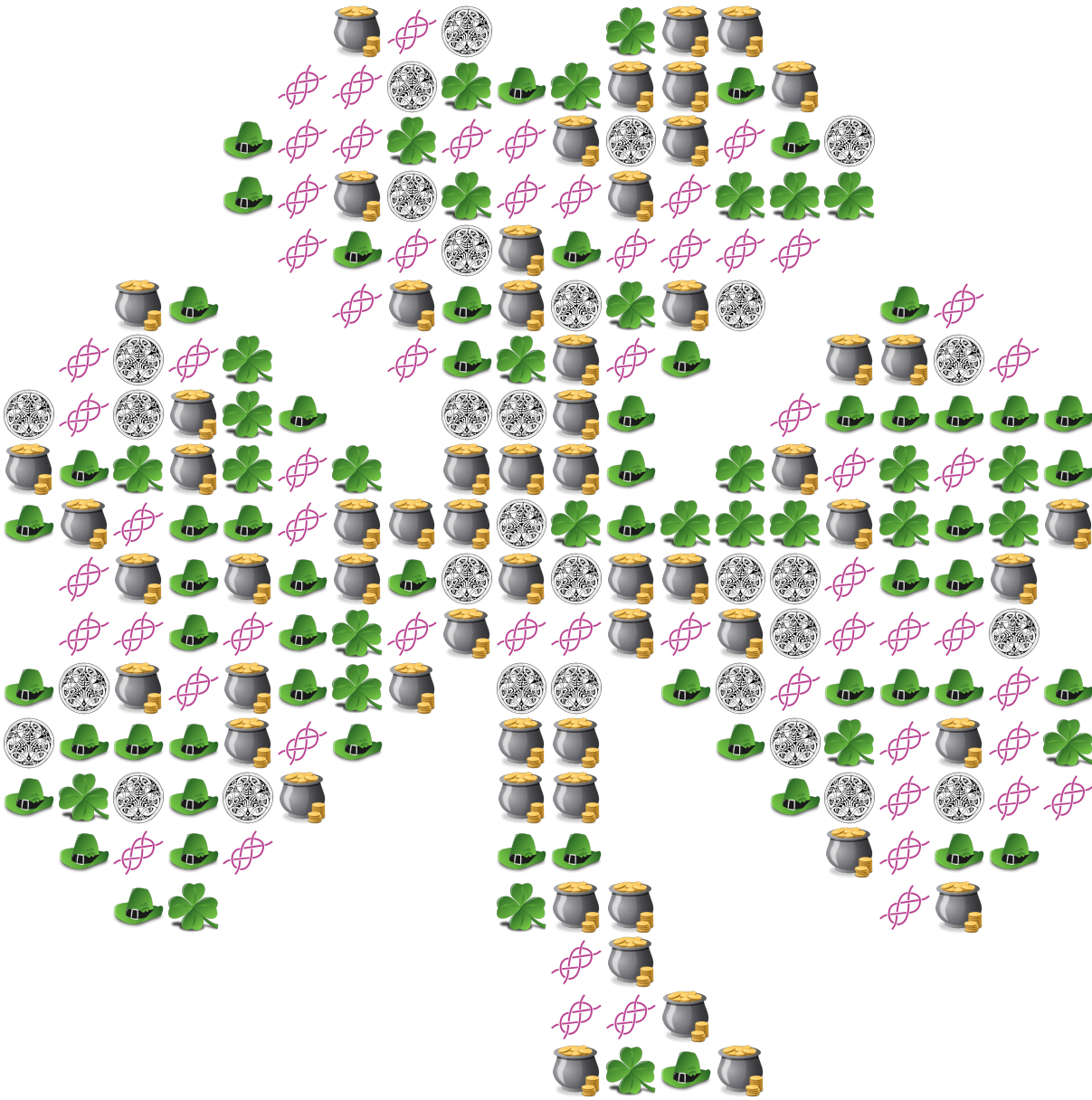


Artículo	Frecuencia	Frecuencia Relativa	Porcentaje
Trébol de Cuatro Hojas	54	$\frac{54}{240} = \frac{9}{40}$	22.5%
Cazuela de Oro	30	$\frac{30}{240} = \frac{1}{8}$	12.5%
Sombrero de Duende	58	$\frac{58}{240} = \frac{29}{120}$	24.2%
Nudo Celta	48	$\frac{48}{240} = \frac{1}{5}$	20%
Ornamento Celta	50	$\frac{50}{240} = \frac{5}{24}$	20.8%

Frecuencias del Día de San Patricio (D)

Nombre: _____ Fecha: _____ Puntuación: _____

Determine la frecuencia, la frecuencia relativa, y el porcentaje (hasta un lugar decimal) de cada artículo.

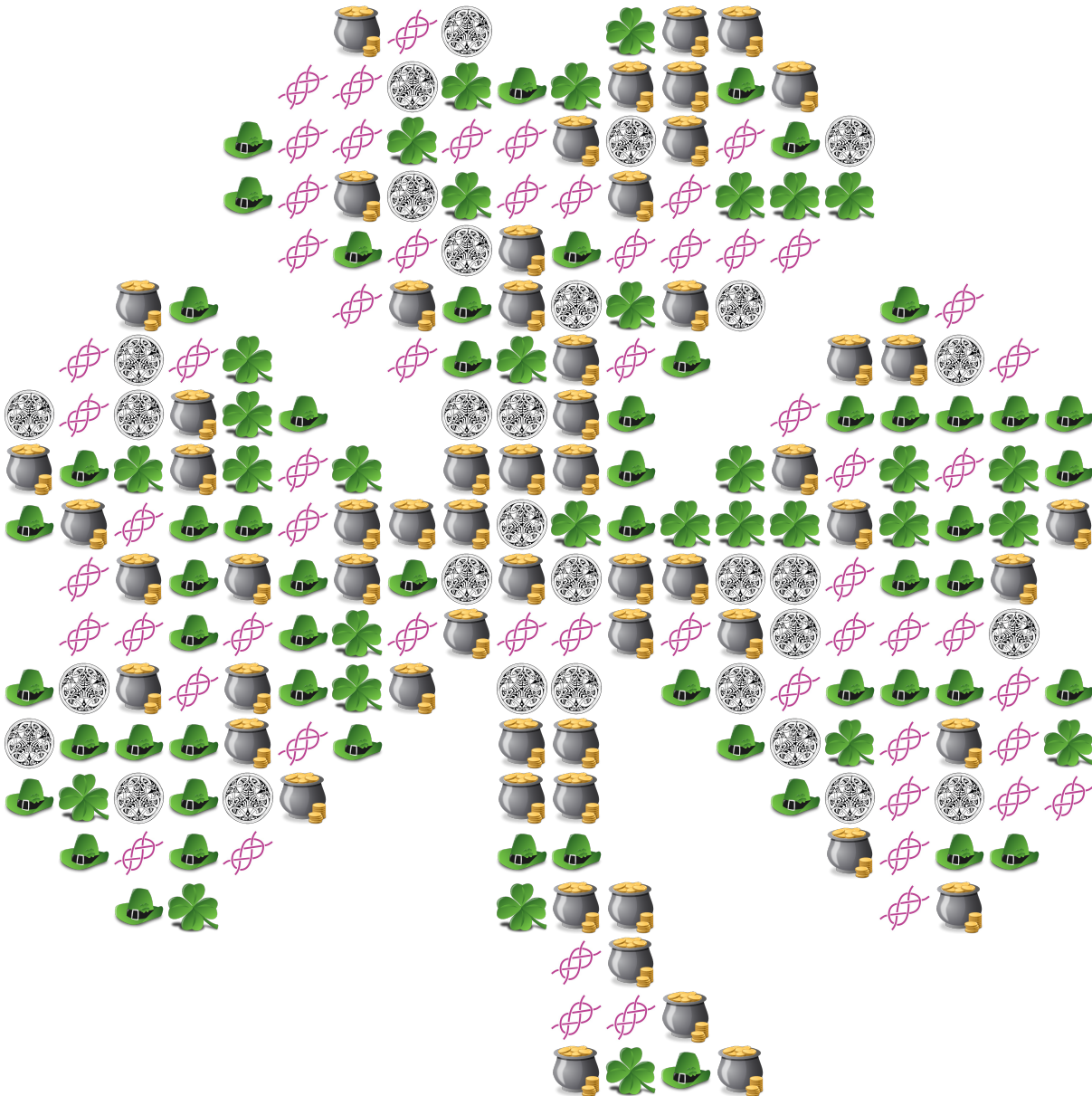


Artículo	Frecuencia	Frecuencia Relativa	Porcentaje
Trébol de Cuatro Hojas			
Cazuela de Oro			
Sombrero de Duende			
Nudo Celta			
Ornamento Celta			

Frecuencias del Día de San Patricio (D) Respuestas

Nombre: _____ Fecha: _____ Puntuación: _____

Determine la frecuencia, la frecuencia relativa, y el porcentaje (hasta un lugar decimal) de cada artículo.



Artículo	Frecuencia	Frecuencia Relativa	Porcentaje
Trébol de Cuatro Hojas	32	$\frac{32}{240} = \frac{2}{15}$	13.3%
Cazuela de Oro	60	$\frac{60}{240} = \frac{1}{4}$	25%
Sombrero de Duende	57	$\frac{57}{240} = \frac{19}{80}$	23.8%
Nudo Celta	60	$\frac{60}{240} = \frac{1}{4}$	25%
Ornamento Celta	31	$\frac{31}{240}$	12.9%

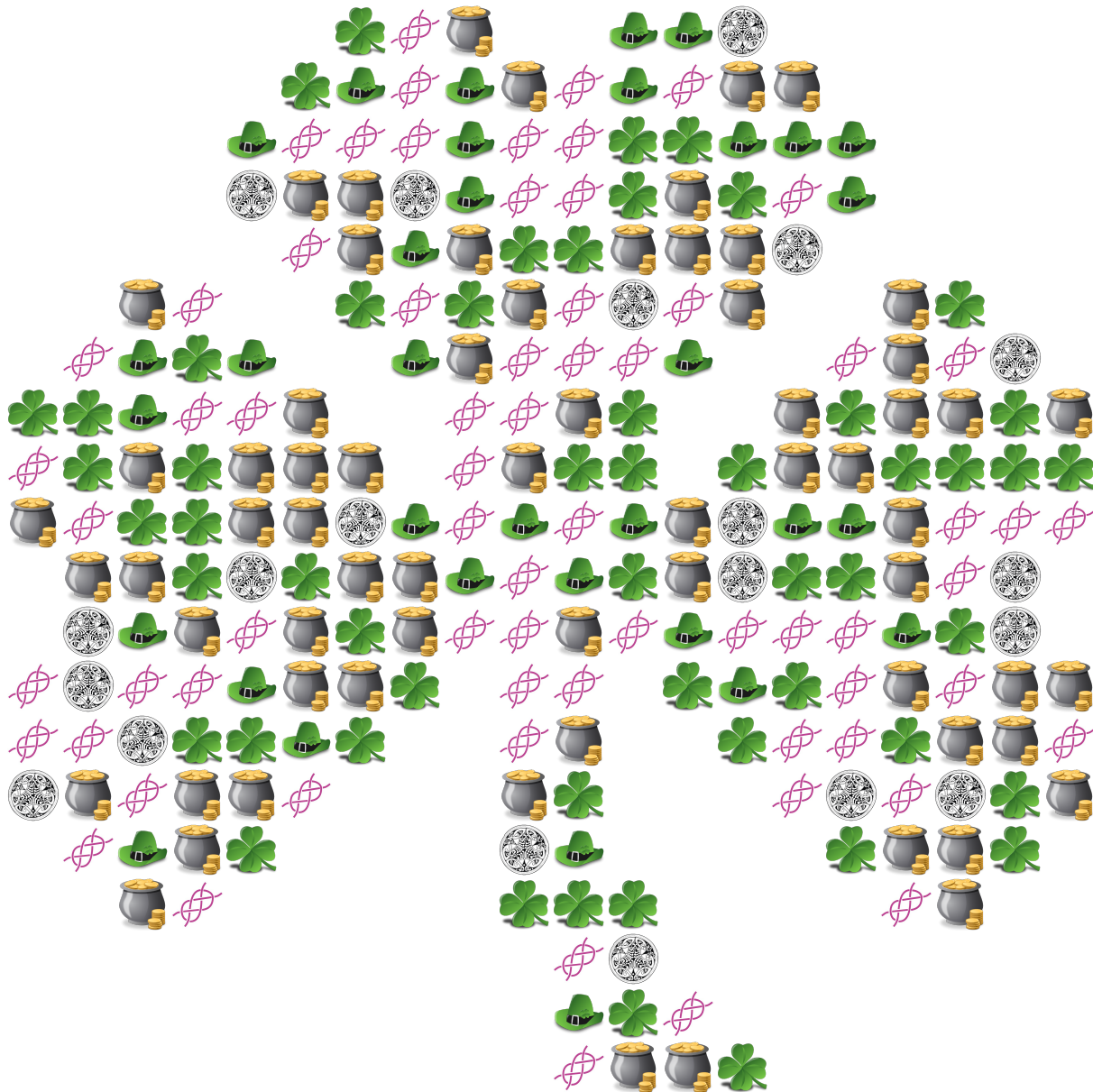
Frecuencias del Día de San Patricio (E)

Nombre: _____

Fecha: _____

Puntuación: _____

Determine la frecuencia, la frecuencia relativa, y el porcentaje (hasta un lugar decimal) de cada artículo.

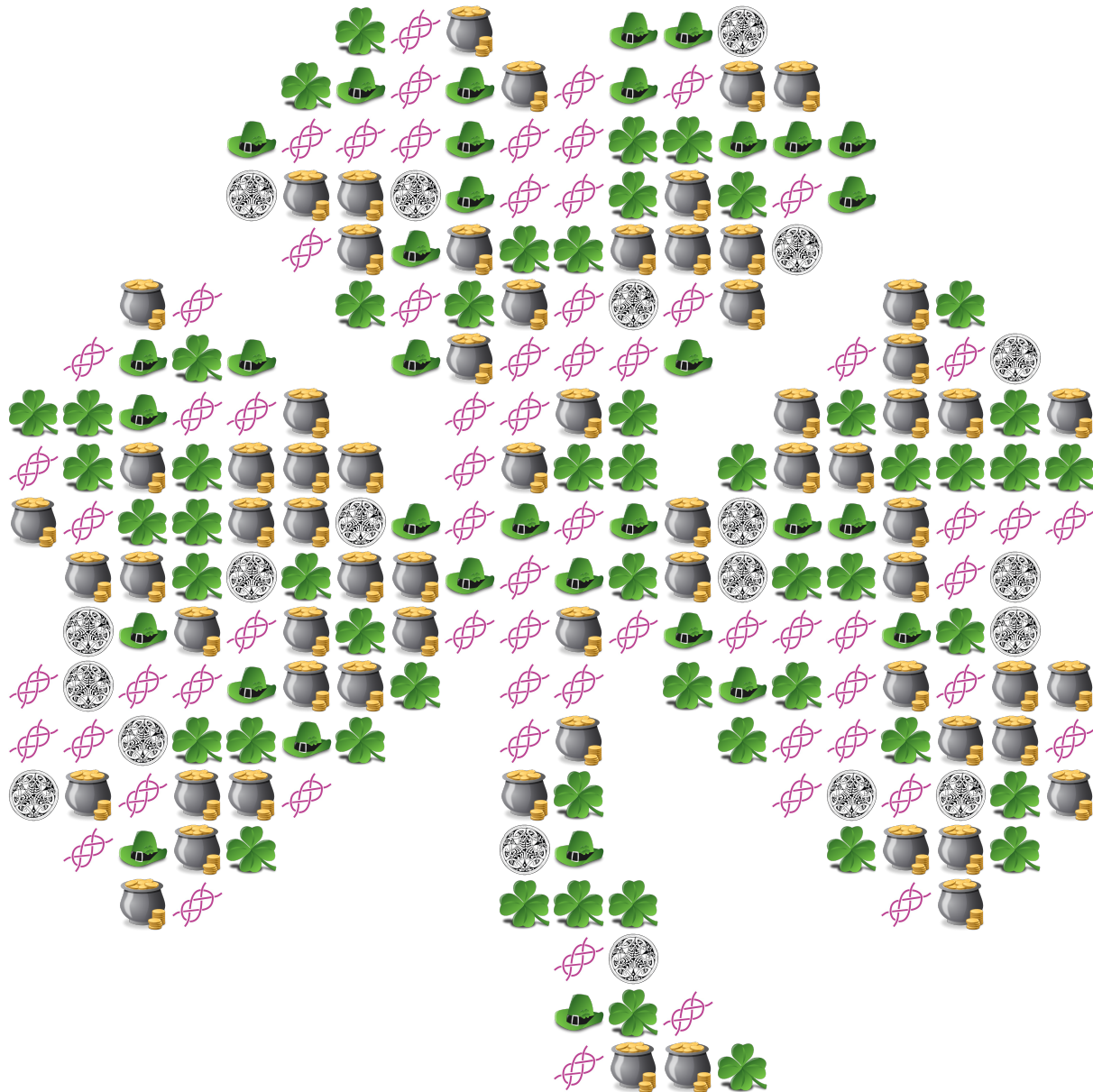


Artículo	Frecuencia	Frecuencia Relativa	Porcentaje
Trébol de Cuatro Hojas			
Cazuela de Oro			
Sombrero de Duende			
Nudo Celta			
Ornamento Celta			

Frecuencias del Día de San Patricio (E) Respuestas

Nombre: _____ Fecha: _____ Puntuación: _____

Determine la frecuencia, la frecuencia relativa, y el porcentaje (hasta un lugar decimal) de cada artículo.



Artículo	Frecuencia	Frecuencia Relativa	Porcentaje
Trébol de Cuatro Hojas	53	$\frac{53}{240}$	22.1%
Cazuela de Oro	66	$\frac{66}{240} = \frac{11}{40}$	27.5%
Sombrero de Duende	34	$\frac{34}{240} = \frac{17}{120}$	14.2%
Nudo Celta	67	$\frac{67}{240}$	27.9%
Ornamento Celta	20	$\frac{20}{240} = \frac{1}{12}$	8.3%

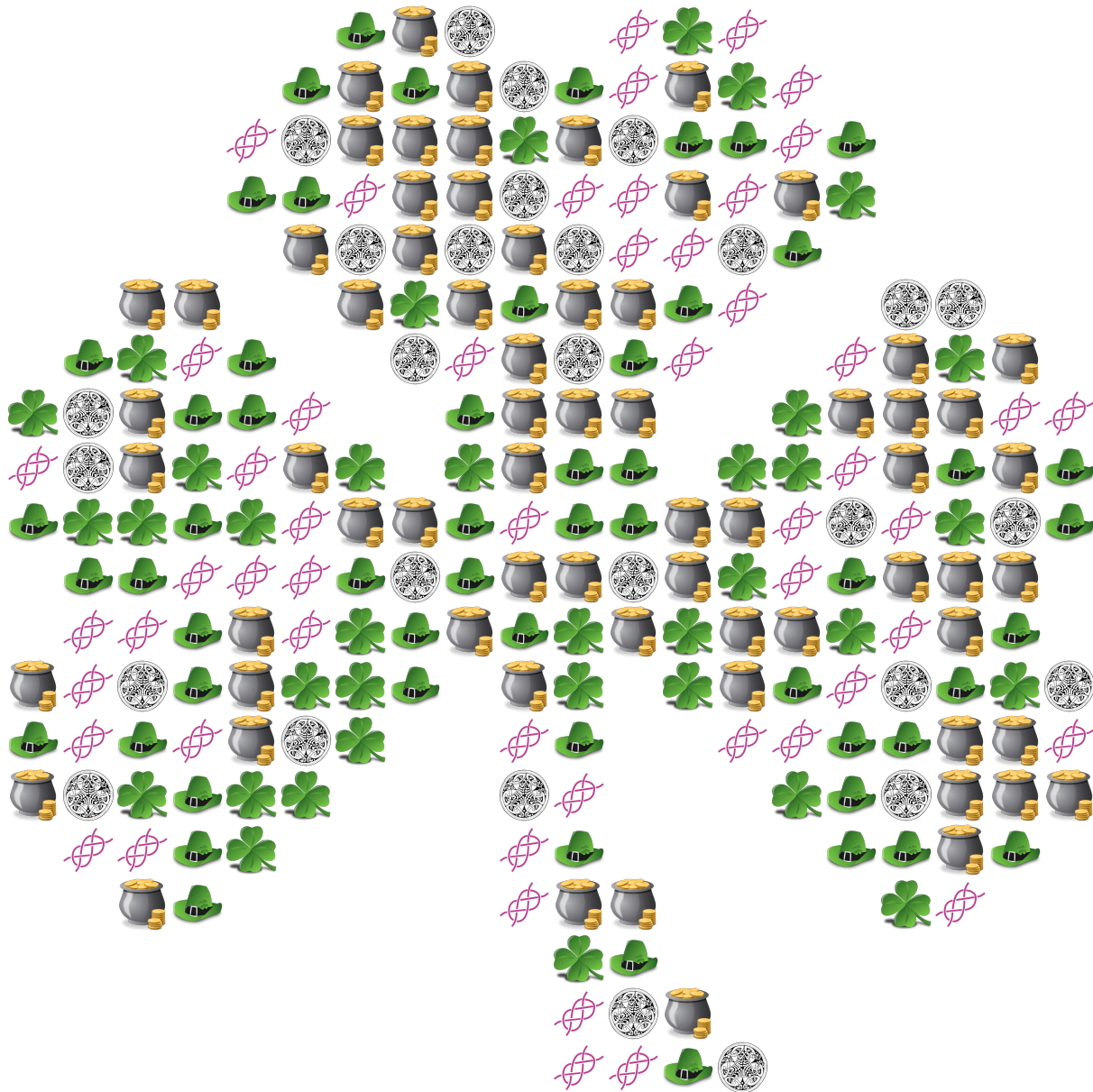
Frecuencias del Día de San Patricio (F)

Nombre: _____

Fecha: _____

Puntuación: _____

Determine la frecuencia, la frecuencia relativa, y el porcentaje (hasta un lugar decimal) de cada artículo.

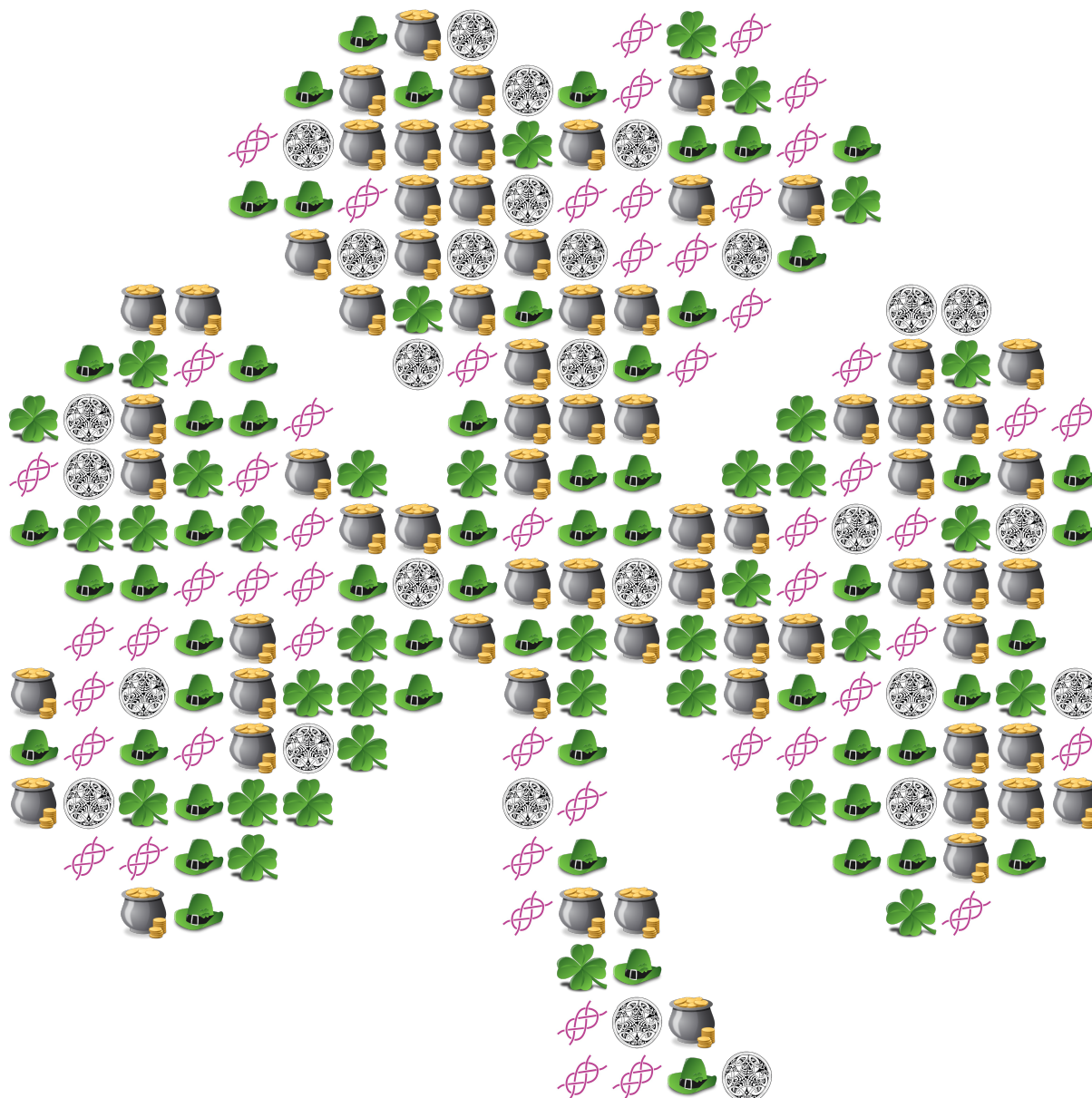


Artículo	Frecuencia	Frecuencia Relativa	Porcentaje
Trébol de Cuatro Hojas			
Cazuela de Oro			
Sombrero de Duende			
Nudo Celta			
Ornamento Celta			

Frecuencias del Día de San Patricio (F) Respuestas

Nombre: _____ Fecha: _____ Puntuación: _____

Determine la frecuencia, la frecuencia relativa, y el porcentaje (hasta un lugar decimal) de cada artículo.



Artículo	Frecuencia	Frecuencia Relativa	Porcentaje
Trébol de Cuatro Hojas	36	$\frac{36}{240} = \frac{3}{20}$	15%
Cazuela de Oro	68	$\frac{68}{240} = \frac{17}{60}$	28.3%
Sombrero de Duende	56	$\frac{56}{240} = \frac{7}{30}$	23.3%
Nudo Celta	52	$\frac{52}{240} = \frac{13}{60}$	21.7%
Ornamento Celta	28	$\frac{28}{240} = \frac{7}{60}$	11.7%

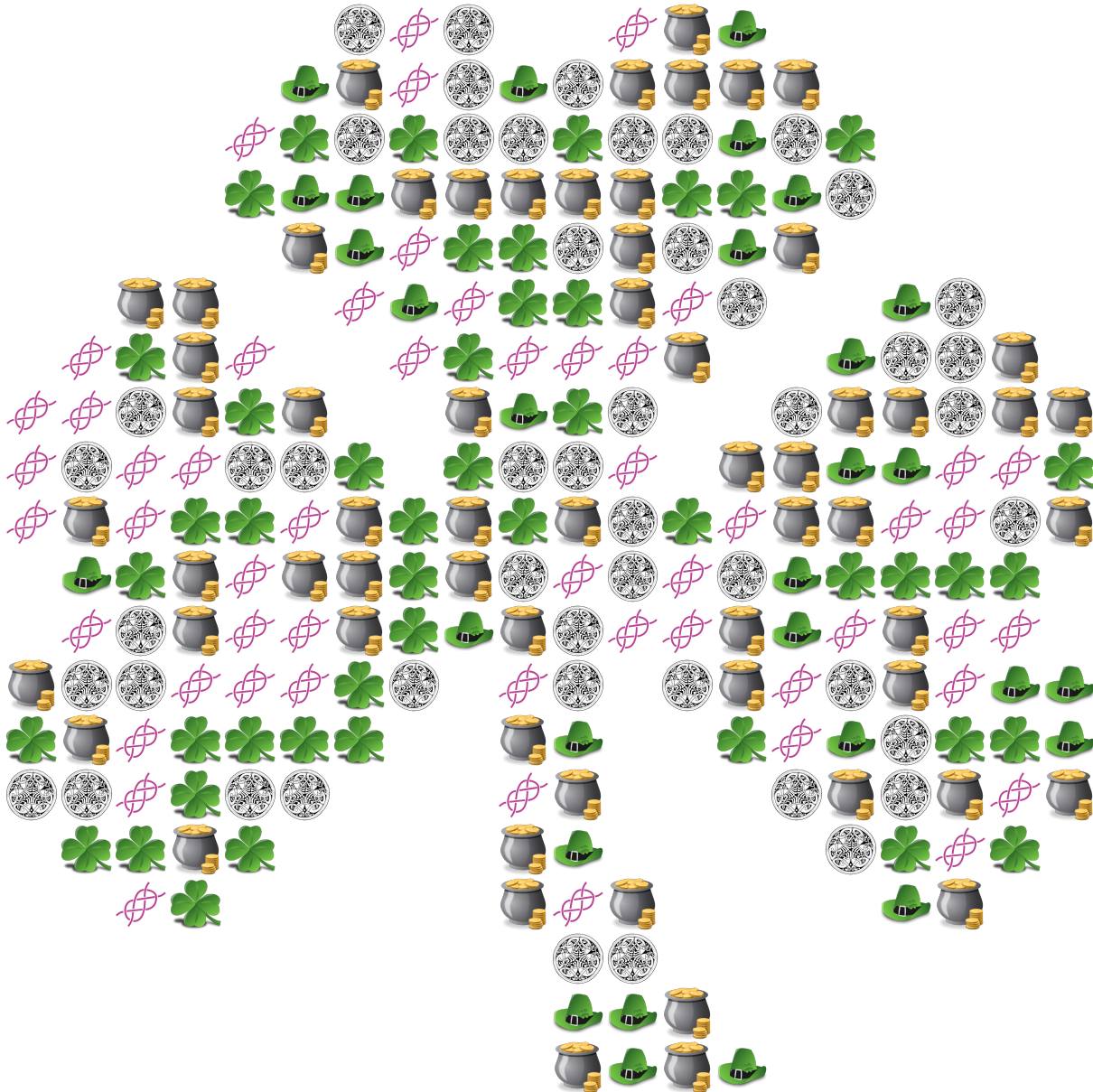
Frecuencias del Día de San Patricio (G)

Nombre: _____

Fecha: _____

Puntuación: _____

Determine la frecuencia, la frecuencia relativa, y el porcentaje (hasta un lugar decimal) de cada artículo.



Artículo	Frecuencia	Frecuencia Relativa	Porcentaje
Trébol de Cuatro Hojas			
Cazuela de Oro			
Sombrero de Duende			
Nudo Celta			
Ornamento Celta			

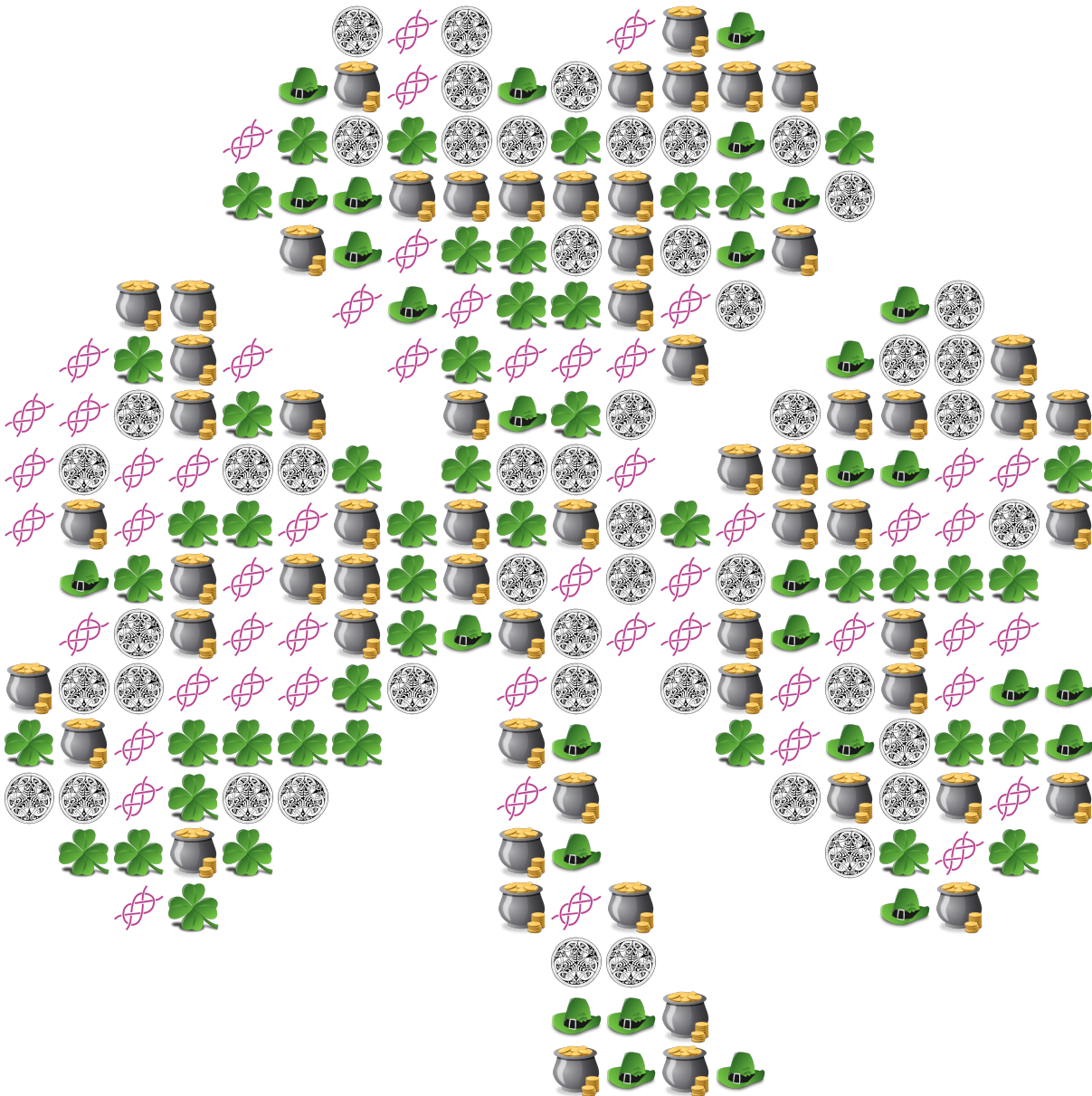
Frecuencias del Día de San Patricio (G) Respuestas

Nombre: _____

Fecha: _____

Puntuación: _____

Determine la frecuencia, la frecuencia relativa, y el porcentaje (hasta un lugar decimal) de cada artículo.



Artículo	Frecuencia	Frecuencia Relativa	Porcentaje
Trébol de Cuatro Hojas	46	$\frac{46}{240} = \frac{23}{120}$	19.2%
Cazuela de Oro	62	$\frac{62}{240} = \frac{31}{120}$	25.8%
Sombrero de Duende	30	$\frac{30}{240} = \frac{1}{8}$	12.5%
Nudo Celta	53	$\frac{53}{240}$	22.1%
Ornamento Celta	49	$\frac{49}{240}$	20.4%

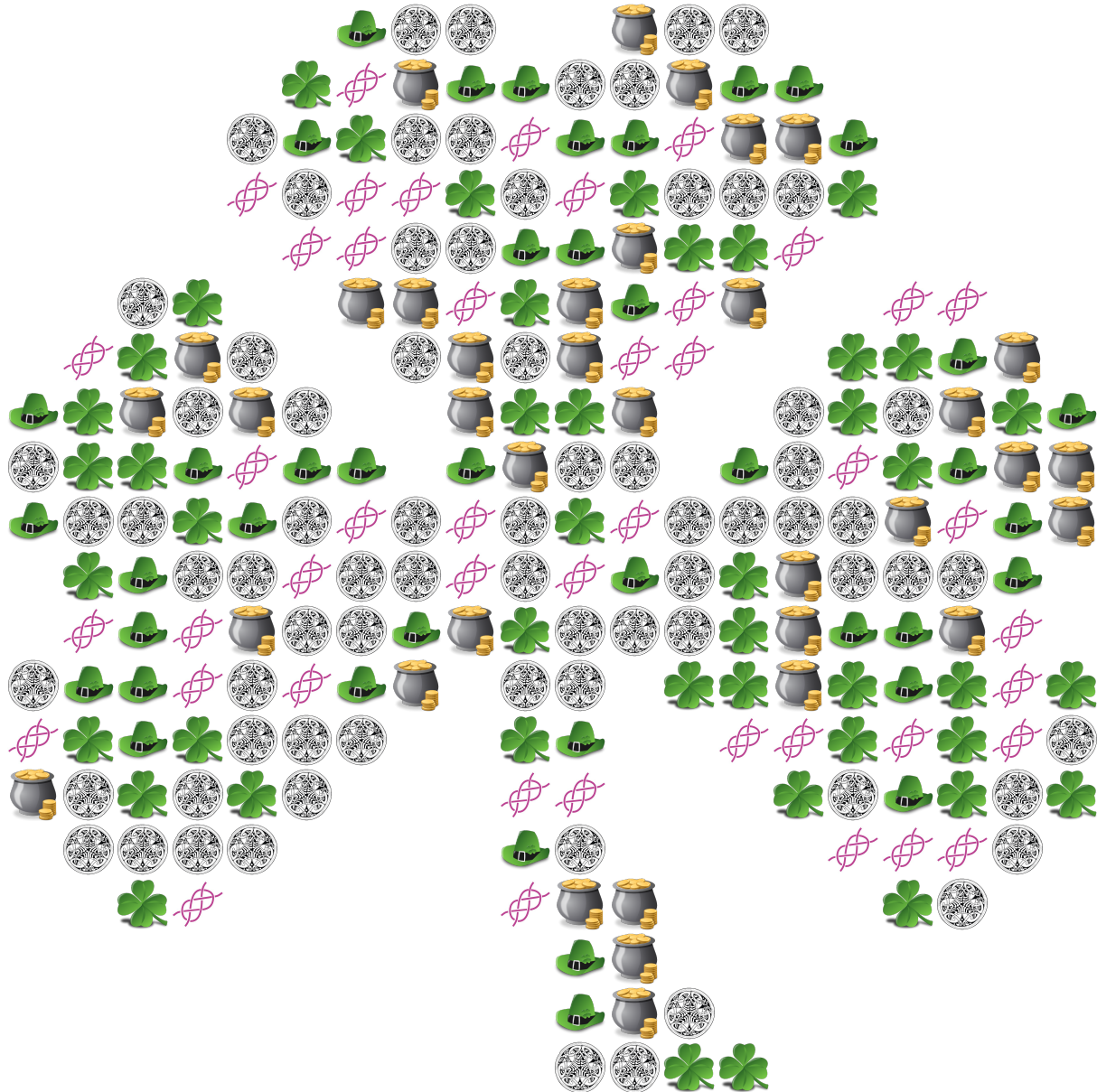
Frecuencias del Día de San Patricio (H)

Nombre: _____

Fecha: _____

Puntuación: _____

Determine la frecuencia, la frecuencia relativa, y el porcentaje (hasta un lugar decimal) de cada artículo.

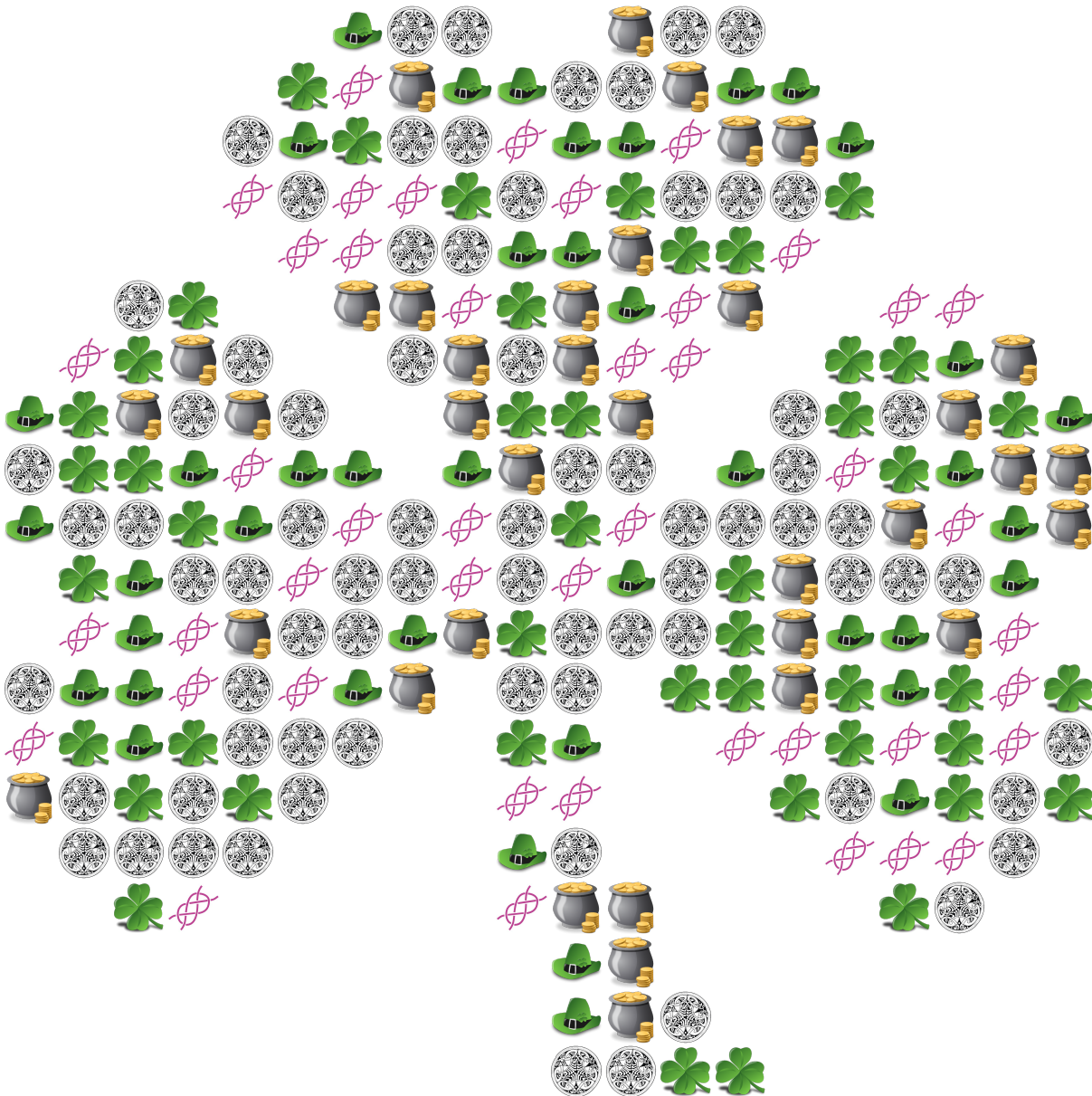


Artículo	Frecuencia	Frecuencia Relativa	Porcentaje
Trébol de Cuatro Hojas			
Cazuela de Oro			
Sombrero de Duende			
Nudo Celta			
Ornamento Celta			

Frecuencias del Día de San Patricio (H) Respuestas

Nombre: _____ Fecha: _____ Puntuación: _____

Determine la frecuencia, la frecuencia relativa, y el porcentaje (hasta un lugar decimal) de cada artículo.

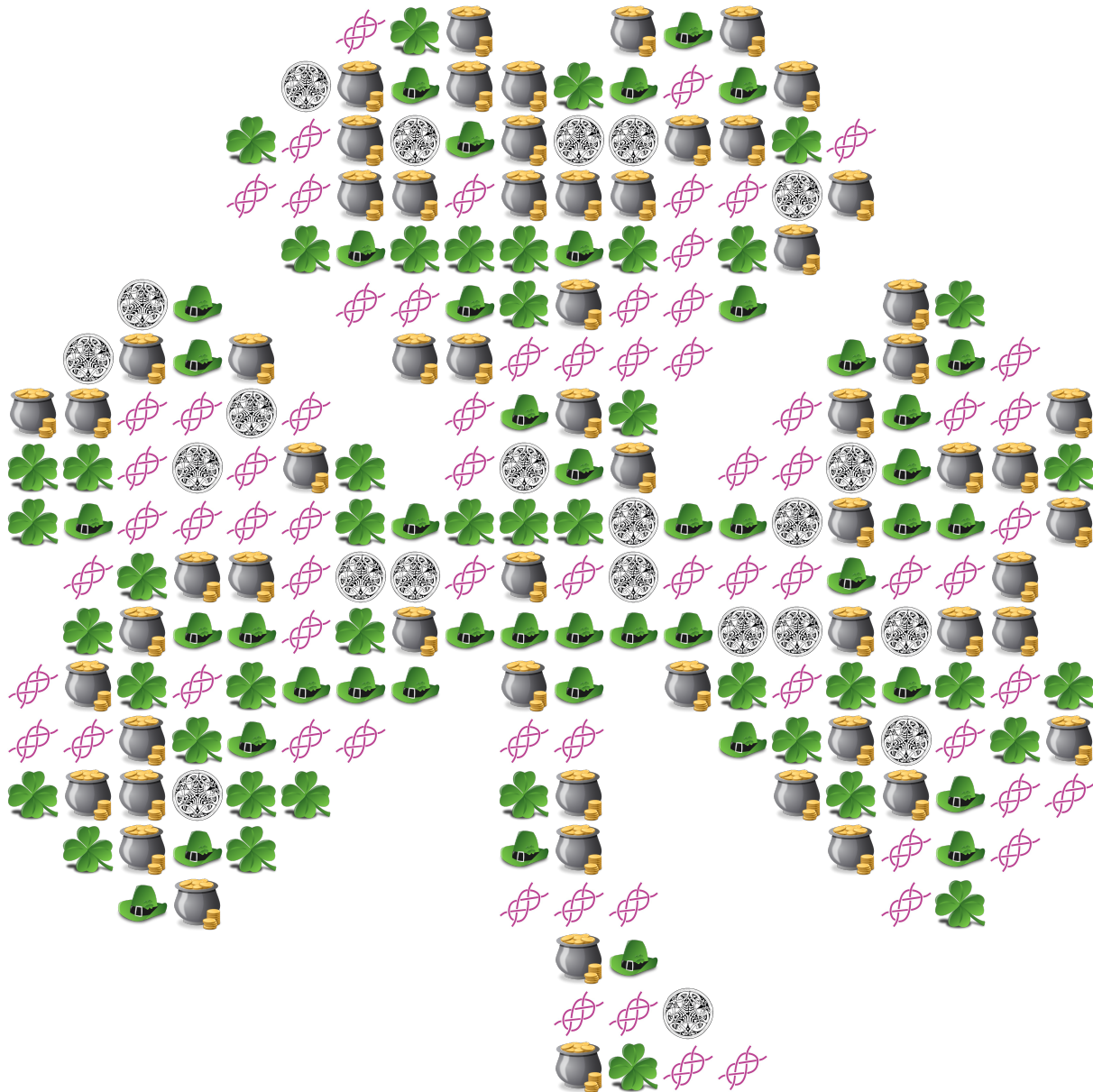


Artículo	Frecuencia	Frecuencia Relativa	Porcentaje
Trébol de Cuatro Hojas	45	$\frac{45}{240} = \frac{3}{16}$	18.8%
Cazuela de Oro	36	$\frac{36}{240} = \frac{3}{20}$	15%
Sombrero de Duende	41	$\frac{41}{240}$	17.1%
Nudo Celta	44	$\frac{44}{240} = \frac{11}{60}$	18.3%
Ornamento Celta	74	$\frac{74}{240} = \frac{37}{120}$	30.8%

Frecuencias del Día de San Patricio (I)

Nombre: _____ Fecha: _____ Puntuación: _____

Determine la frecuencia, la frecuencia relativa, y el porcentaje (hasta un lugar decimal) de cada artículo.



Artículo	Frecuencia	Frecuencia Relativa	Porcentaje
Trébol de Cuatro Hojas			
Cazuela de Oro			
Sombrero de Duende			
Nudo Celta			
Ornamento Celta			

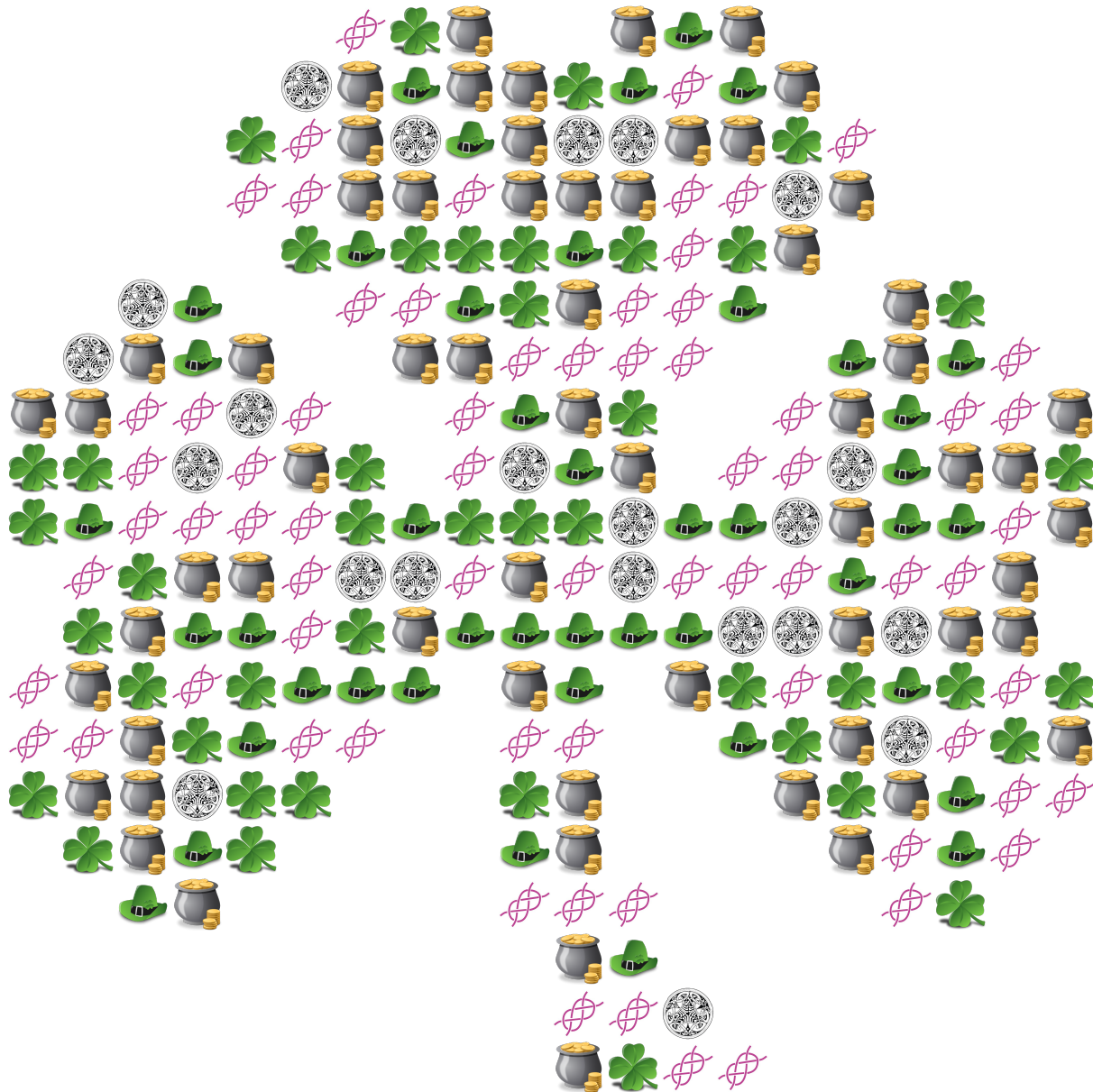
Frecuencias del Día de San Patricio (I) Respuestas

Nombre: _____

Fecha: _____

Puntuación: _____

Determine la frecuencia, la frecuencia relativa, y el porcentaje (hasta un lugar decimal) de cada artículo.



Artículo	Frecuencia	Frecuencia Relativa	Porcentaje
Trébol de Cuatro Hojas	43	$\frac{43}{240}$	17.9%
Cazuela de Oro	62	$\frac{62}{240} = \frac{31}{120}$	25.8%
Sombrero de Duende	44	$\frac{44}{240} = \frac{11}{60}$	18.3%
Nudo Celta	69	$\frac{69}{240} = \frac{23}{80}$	28.8%
Ornamento Celta	22	$\frac{22}{240} = \frac{11}{120}$	9.2%

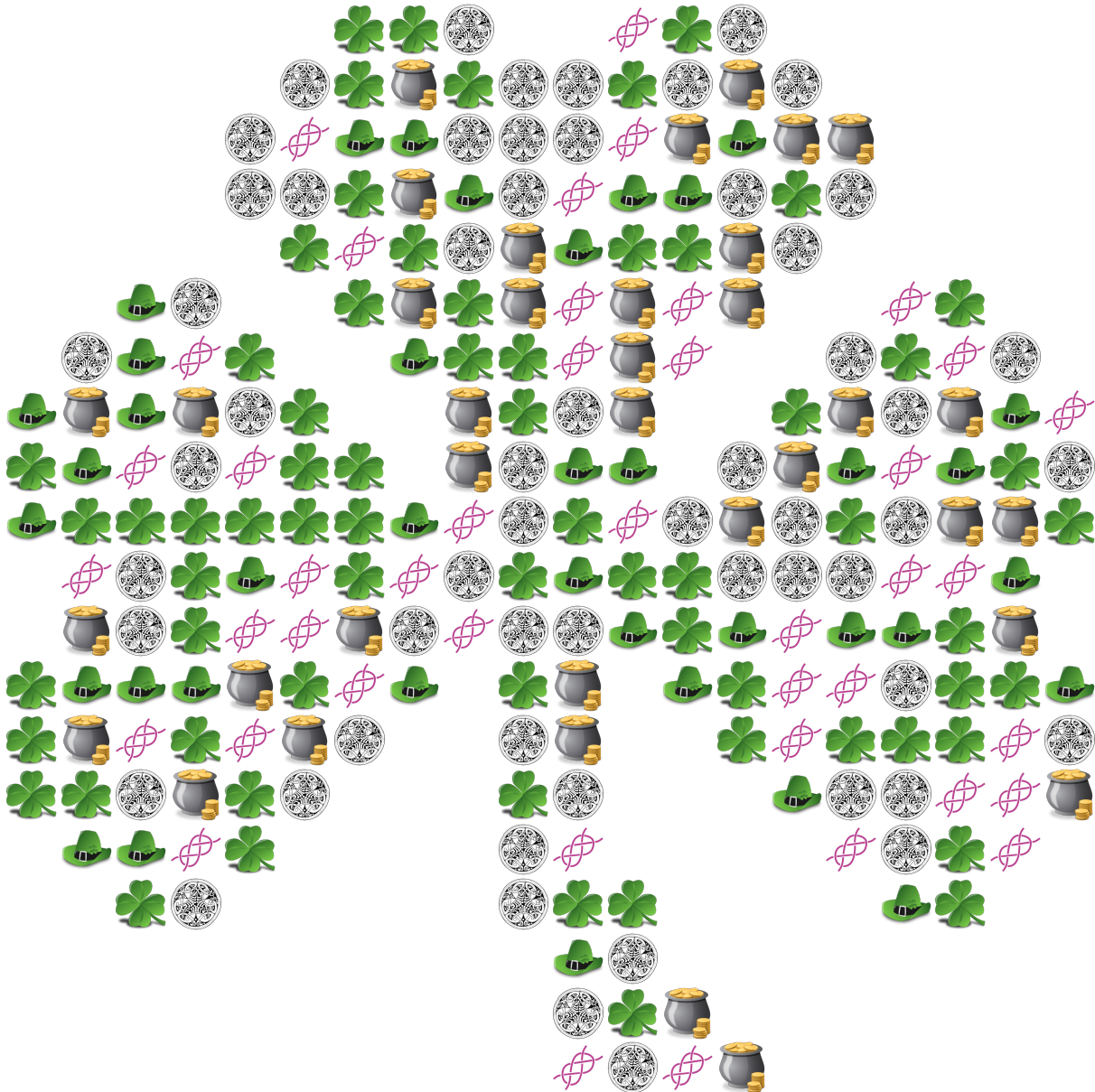
Frecuencias del Día de San Patricio (J)

Nombre: _____

Fecha: _____

Puntuación: _____

Determine la frecuencia, la frecuencia relativa, y el porcentaje (hasta un lugar decimal) de cada artículo.



Artículo	Frecuencia	Frecuencia Relativa	Porcentaje
Trébol de Cuatro Hojas			
Cazuela de Oro			
Sombrero de Duende			
Nudo Celta			
Ornamento Celta			

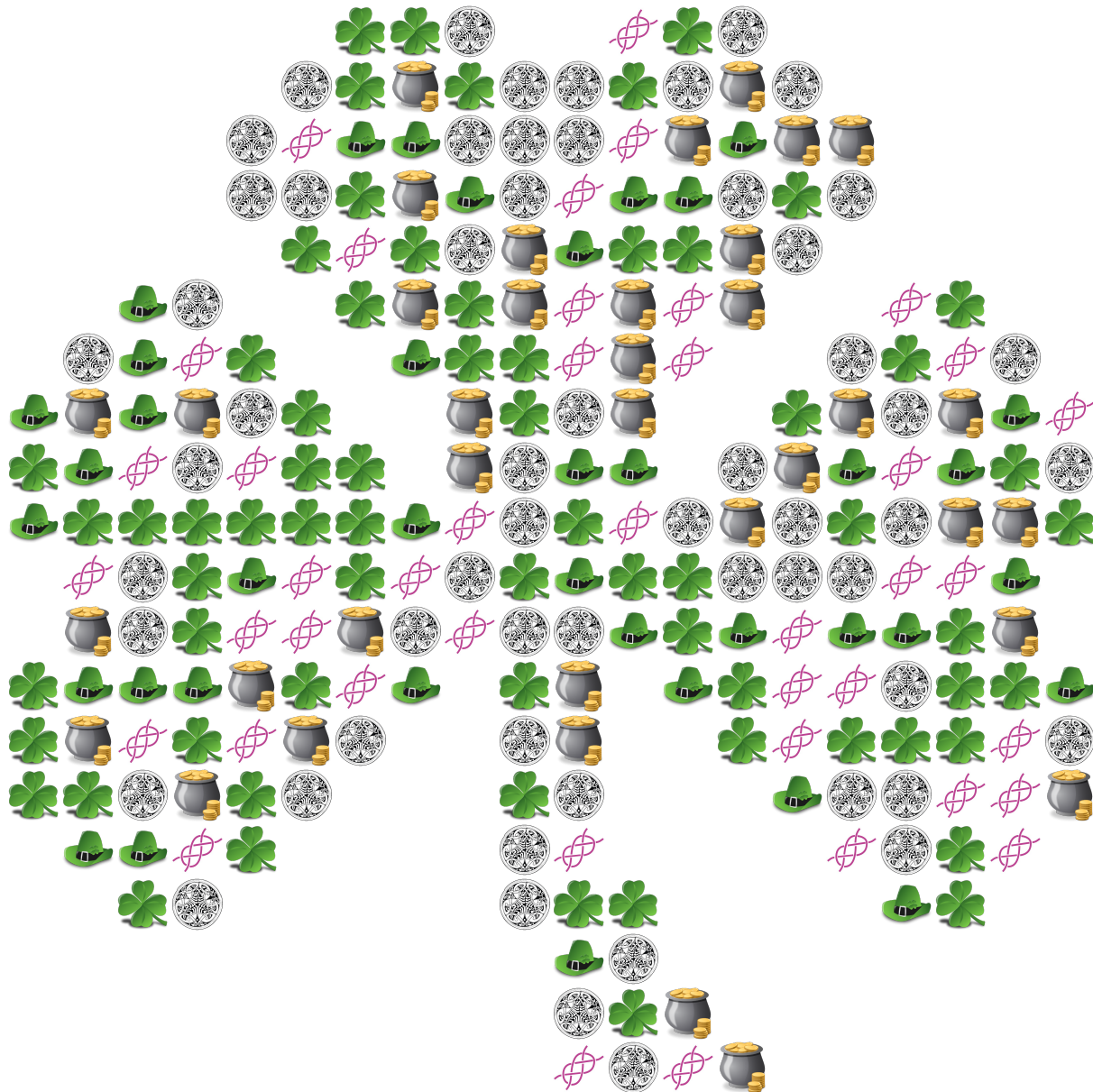
Frecuencias del Día de San Patricio (J) Respuestas

Nombre: _____

Fecha: _____

Puntuación: _____

Determine la frecuencia, la frecuencia relativa, y el porcentaje (hasta un lugar decimal) de cada artículo.



Artículo	Frecuencia	Frecuencia Relativa	Porcentaje
Trébol de Cuatro Hojas	66	$\frac{66}{240} = \frac{11}{40}$	27.5%
Cazuela de Oro	36	$\frac{36}{240} = \frac{3}{20}$	15%
Sombrero de Duende	38	$\frac{38}{240} = \frac{19}{120}$	15.8%
Nudo Celta	42	$\frac{42}{240} = \frac{7}{40}$	17.5%
Ornamento Celta	58	$\frac{58}{240} = \frac{29}{120}$	24.2%