

Contar Sombreros de Leprechaun (F)

Cuente la cantidad en cada conjunto de sombreros de leprechaun.

1. Hay ____ sombreros en el conjunto siguiente.




2. Hay ____ sombreros en el conjunto siguiente.



3. Hay ____ sombreros en el conjunto siguiente.




4. Hay ____ sombreros en el conjunto siguiente.



5. Hay ____ sombreros en el conjunto siguiente.



6. Hay ____ sombreros en el conjunto siguiente.




Contar Sombreros de Leprechaun (F) Respuestas

Cuente la cantidad en cada conjunto de sombreros de leprechaun.

1. Hay 13 sombreros en el conjunto siguiente. 2. Hay 2 sombreros en el conjunto siguiente.



3. Hay 13 sombreros en el conjunto siguiente. 4. Hay 25 sombreros en el conjunto siguiente.



5. Hay 6 sombreros en el conjunto siguiente. 6. Hay 28 sombreros en el conjunto siguiente.

