

Contar Sombreros de Leprechaun (B)

Cuenta la cantidad en cada conjunto de sombreros de leprechaun.


1. Hay ____ sombreros en el conjunto siguiente.



2. Hay ____ sombreros en el conjunto siguiente.




3. Hay ____ sombreros en el conjunto siguiente.




4. Hay ____ sombreros en el conjunto siguiente.



5. Hay ____ sombreros en el conjunto siguiente.



6. Hay ____ sombreros en el conjunto siguiente.




Contar Sombreros de Leprechaun (B) Respuestas

Cuenta la cantidad en cada conjunto de sombreros de leprechaun.

1. Hay 14 sombreros en el conjunto siguiente. 2. Hay 8 sombreros en el conjunto siguiente.



3. Hay 18 sombreros en el conjunto siguiente. 4. Hay 6 sombreros en el conjunto siguiente.



5. Hay 25 sombreros en el conjunto siguiente. 6. Hay 9 sombreros en el conjunto siguiente.

