


Contar Sombreros de Leprechaun (C)

Cuenta la cantidad en cada conjunto de sombreros de leprechaun.


1. Hay ____ sombreros en el conjunto siguiente.




2. Hay ____ sombreros en el conjunto siguiente.



3. Hay ____ sombreros en el conjunto siguiente.



4. Hay ____ sombreros en el conjunto siguiente.



5. Hay ____ sombreros en el conjunto siguiente.




6. Hay ____ sombreros en el conjunto siguiente.





Contar Sombreros de Leprechaun (C) Respuestas

Cuente la cantidad en cada conjunto de sombreros de leprechaun.

1. Hay 10 sombreros en el conjunto siguiente. 2. Hay 30 sombreros en el conjunto siguiente.



3. Hay 42 sombreros en el conjunto siguiente. 4. Hay 36 sombreros en el conjunto siguiente.



5. Hay 15 sombreros en el conjunto siguiente. 6. Hay 12 sombreros en el conjunto siguiente.

