



Contar Sombreros de Leprechaun (D)

Cuente la cantidad en cada conjunto de sombreros de leprechaun.


1. Hay ____ sombreros en el conjunto siguiente.




2. Hay ____ sombreros en el conjunto siguiente.



3. Hay ____ sombreros en el conjunto siguiente.



4. Hay ____ sombreros en el conjunto siguiente.



5. Hay ____ sombreros en el conjunto siguiente.





6. Hay ____ sombreros en el conjunto siguiente.





Contar Sombreros de Leprechaun (D) Respuestas

Cuente la cantidad en cada conjunto de sombreros de leprechaun.

1. Hay 42 sombreros en el conjunto siguiente. 2. Hay 21 sombreros en el conjunto siguiente.



3. Hay 20 sombreros en el conjunto siguiente. 4. Hay 12 sombreros en el conjunto siguiente.



5. Hay 12 sombreros en el conjunto siguiente. 6. Hay 10 sombreros en el conjunto siguiente.

