


# Contar Sombreros de Leprechaun (6)

Cuente la cantidad en cada conjunto de sombreros de leprechaun.


1. Hay \_\_\_\_ sombreros en el conjunto siguiente.




2. Hay \_\_\_\_ sombreros en el conjunto siguiente.




3. Hay \_\_\_\_ sombreros en el conjunto siguiente.



4. Hay \_\_\_\_ sombreros en el conjunto siguiente.



5. Hay \_\_\_\_ sombreros en el conjunto siguiente.




6. Hay \_\_\_\_ sombreros en el conjunto siguiente.





# Contar Sombreros de Leprechaun (G) Respuestas

Cuente la cantidad en cada conjunto de sombreros de leprechaun.

1. Hay 12 sombreros en el conjunto siguiente.      2. Hay 25 sombreros en el conjunto siguiente.



3. Hay 20 sombreros en el conjunto siguiente.      4. Hay 9 sombreros en el conjunto siguiente.



5. Hay 42 sombreros en el conjunto siguiente.      6. Hay 30 sombreros en el conjunto siguiente.

