



Contar Sombreros de Leprechaun (H)

Cuenta la cantidad en cada conjunto de sombreros de leprechaun.


1. Hay ____ sombreros en el conjunto siguiente.




2. Hay ____ sombreros en el conjunto siguiente.



3. Hay ____ sombreros en el conjunto siguiente.




4. Hay ____ sombreros en el conjunto siguiente.



5. Hay ____ sombreros en el conjunto siguiente.





6. Hay ____ sombreros en el conjunto siguiente.





Contar Sombreros de Leprechaun (H) Respuestas

Cuenta la cantidad en cada conjunto de sombreros de leprechaun.

1. Hay 20 sombreros en el conjunto siguiente. 2. Hay 16 sombreros en el conjunto siguiente.



3. Hay 24 sombreros en el conjunto siguiente. 4. Hay 15 sombreros en el conjunto siguiente.



5. Hay 9 sombreros en el conjunto siguiente. 6. Hay 28 sombreros en el conjunto siguiente.

