


Contar Sombreros de Leprechaun (j)

Cuente la cantidad en cada conjunto de sombreros de leprechaun.


1. Hay ____ sombreros en el conjunto siguiente.




2. Hay ____ sombreros en el conjunto siguiente.




3. Hay ____ sombreros en el conjunto siguiente.



4. Hay ____ sombreros en el conjunto siguiente.



5. Hay ____ sombreros en el conjunto siguiente.




6. Hay ____ sombreros en el conjunto siguiente.





Contar Sombreros de Leprechaun (¡) Respuestas

Cuenta la cantidad en cada conjunto de sombreros de leprechaun.

1. Hay 16 sombreros en el conjunto siguiente. 2. Hay 14 sombreros en el conjunto siguiente.



3. Hay 21 sombreros en el conjunto siguiente. 4. Hay 24 sombreros en el conjunto siguiente.



5. Hay 12 sombreros en el conjunto siguiente. 6. Hay 12 sombreros en el conjunto siguiente.

