



Contar Sombreros de Leprechaun (A)

Cuenta la cantidad en cada conjunto de sombreros de leprechaun.


1. Hay ____ sombreros en el conjunto siguiente.




2. Hay ____ sombreros en el conjunto siguiente.




3. Hay ____ sombreros en el conjunto siguiente.



4. Hay ____ sombreros en el conjunto siguiente.



5. Hay ____ sombreros en el conjunto siguiente.





6. Hay ____ sombreros en el conjunto siguiente.





Contar Sombreros de Leprechaun (A) Respuestas

Cuenta la cantidad en cada conjunto de sombreros de leprechaun.


1. Hay 24 sombreros en el conjunto siguiente. 2. Hay 15 sombreros en el conjunto siguiente.



3. Hay 21 sombreros en el conjunto siguiente. 4. Hay 25 sombreros en el conjunto siguiente.



5. Hay 28 sombreros en el conjunto siguiente. 6. Hay 12 sombreros en el conjunto siguiente.



Contar Sombreros de Leprechaun (B)

Cuenta la cantidad en cada conjunto de sombreros de leprechaun.


1. Hay ____ sombreros en el conjunto siguiente.



2. Hay ____ sombreros en el conjunto siguiente.




3. Hay ____ sombreros en el conjunto siguiente.




4. Hay ____ sombreros en el conjunto siguiente.



5. Hay ____ sombreros en el conjunto siguiente.



6. Hay ____ sombreros en el conjunto siguiente.




Contar Sombreros de Leprechaun (B) Respuestas

Cuenta la cantidad en cada conjunto de sombreros de leprechaun.



1. Hay 14 sombreros en el conjunto siguiente. 2. Hay 8 sombreros en el conjunto siguiente.



3. Hay 18 sombreros en el conjunto siguiente. 4. Hay 6 sombreros en el conjunto siguiente.



5. Hay 25 sombreros en el conjunto siguiente. 6. Hay 9 sombreros en el conjunto siguiente.




Contar Sombreros de Leprechaun (C)

Cuente la cantidad en cada conjunto de sombreros de leprechaun.


1. Hay ____ sombreros en el conjunto siguiente.




2. Hay ____ sombreros en el conjunto siguiente.



3. Hay ____ sombreros en el conjunto siguiente.



4. Hay ____ sombreros en el conjunto siguiente.



5. Hay ____ sombreros en el conjunto siguiente.




6. Hay ____ sombreros en el conjunto siguiente.





Contar Sombreros de Leprechaun (C) Respuestas

Cuente la cantidad en cada conjunto de sombreros de leprechaun.

1. Hay 10 sombreros en el conjunto siguiente. 2. Hay 30 sombreros en el conjunto siguiente.



3. Hay 42 sombreros en el conjunto siguiente. 4. Hay 36 sombreros en el conjunto siguiente.




5. Hay 15 sombreros en el conjunto siguiente. 6. Hay 12 sombreros en el conjunto siguiente.




Contar Sombreros de Leprechaun (D)

Cuente la cantidad en cada conjunto de sombreros de leprechaun.


1. Hay ____ sombreros en el conjunto siguiente.




2. Hay ____ sombreros en el conjunto siguiente.



3. Hay ____ sombreros en el conjunto siguiente.



4. Hay ____ sombreros en el conjunto siguiente.



5. Hay ____ sombreros en el conjunto siguiente.





6. Hay ____ sombreros en el conjunto siguiente.





Contar Sombreros de Leprechaun (D) Respuestas

Cuente la cantidad en cada conjunto de sombreros de leprechaun.

1. Hay 42 sombreros en el conjunto siguiente. 2. Hay 21 sombreros en el conjunto siguiente.



3. Hay 20 sombreros en el conjunto siguiente. 4. Hay 12 sombreros en el conjunto siguiente.




5. Hay 12 sombreros en el conjunto siguiente. 6. Hay 10 sombreros en el conjunto siguiente.




Contar Sombreros de Leprechaun (E)

Cuenta la cantidad en cada conjunto de sombreros de leprechaun.

1. Hay ____ sombreros en el conjunto siguiente.




2. Hay ____ sombreros en el conjunto siguiente.




3. Hay ____ sombreros en el conjunto siguiente.




4. Hay ____ sombreros en el conjunto siguiente.



5. Hay ____ sombreros en el conjunto siguiente.





6. Hay ____ sombreros en el conjunto siguiente.




Contar Sombreros de Leprechaun (E) Respuestas

Cuente la cantidad en cada conjunto de sombreros de leprechaun.



1. Hay 30 sombreros en el conjunto siguiente. 2. Hay 15 sombreros en el conjunto siguiente.



3. Hay 8 sombreros en el conjunto siguiente. 4. Hay 35 sombreros en el conjunto siguiente.




5. Hay 18 sombreros en el conjunto siguiente. 6. Hay 24 sombreros en el conjunto siguiente.



Contar Sombreros de Leprechaun (F)

Cuente la cantidad en cada conjunto de sombreros de leprechaun.


1. Hay ____ sombreros en el conjunto siguiente.



2. Hay ____ sombreros en el conjunto siguiente.




3. Hay ____ sombreros en el conjunto siguiente.




4. Hay ____ sombreros en el conjunto siguiente.



5. Hay ____ sombreros en el conjunto siguiente.




6. Hay ____ sombreros en el conjunto siguiente.




Contar Sombreros de Leprechaun (F) Respuestas

Cuente la cantidad en cada conjunto de sombreros de leprechaun.



1. Hay 16 sombreros en el conjunto siguiente. 2. Hay 10 sombreros en el conjunto siguiente.



3. Hay 36 sombreros en el conjunto siguiente. 4. Hay 4 sombreros en el conjunto siguiente.



5. Hay 25 sombreros en el conjunto siguiente. 6. Hay 42 sombreros en el conjunto siguiente.




Contar Sombreros de Leprechaun (G)

Cuente la cantidad en cada conjunto de sombreros de leprechaun.


1. Hay ____ sombreros en el conjunto siguiente.




2. Hay ____ sombreros en el conjunto siguiente.




3. Hay ____ sombreros en el conjunto siguiente.




4. Hay ____ sombreros en el conjunto siguiente.



5. Hay ____ sombreros en el conjunto siguiente.




6. Hay ____ sombreros en el conjunto siguiente.





Contar Sombreros de Leprechaun (G) Respuestas

Cuente la cantidad en cada conjunto de sombreros de leprechaun.



1. Hay 12 sombreros en el conjunto siguiente. 2. Hay 25 sombreros en el conjunto siguiente.



3. Hay 20 sombreros en el conjunto siguiente. 4. Hay 9 sombreros en el conjunto siguiente.




5. Hay 42 sombreros en el conjunto siguiente. 6. Hay 30 sombreros en el conjunto siguiente.




Contar Sombreros de Leprechaun (H)

Cuenta la cantidad en cada conjunto de sombreros de leprechaun.


1. Hay ____ sombreros en el conjunto siguiente.




2. Hay ____ sombreros en el conjunto siguiente.



3. Hay ____ sombreros en el conjunto siguiente.




4. Hay ____ sombreros en el conjunto siguiente.



5. Hay ____ sombreros en el conjunto siguiente.





6. Hay ____ sombreros en el conjunto siguiente.





Contar Sombreros de Leprechaun (H) Respuestas

Cuenta la cantidad en cada conjunto de sombreros de leprechaun.


1. Hay 20 sombreros en el conjunto siguiente. 2. Hay 16 sombreros en el conjunto siguiente.



3. Hay 24 sombreros en el conjunto siguiente. 4. Hay 15 sombreros en el conjunto siguiente.




5. Hay 9 sombreros en el conjunto siguiente. 6. Hay 28 sombreros en el conjunto siguiente.




Contar Sombreros de Leprechaun (ii)

Cuenta la cantidad en cada conjunto de sombreros de leprechaun.


1. Hay ____ sombreros en el conjunto siguiente.



2. Hay ____ sombreros en el conjunto siguiente.




3. Hay ____ sombreros en el conjunto siguiente.




4. Hay ____ sombreros en el conjunto siguiente.



5. Hay ____ sombreros en el conjunto siguiente.





6. Hay ____ sombreros en el conjunto siguiente.




Contar Sombreros de Leprechaun (i) Respuestas

Cuente la cantidad en cada conjunto de sombreros de leprechaun.



1. Hay 24 sombreros en el conjunto siguiente. 2. Hay 42 sombreros en el conjunto siguiente.



3. Hay 21 sombreros en el conjunto siguiente. 4. Hay 8 sombreros en el conjunto siguiente.




5. Hay 30 sombreros en el conjunto siguiente. 6. Hay 35 sombreros en el conjunto siguiente.



Contar Sombreros de Leprechaun (j)

Cuente la cantidad en cada conjunto de sombreros de leprechaun.


1. Hay ____ sombreros en el conjunto siguiente.




2. Hay ____ sombreros en el conjunto siguiente.




3. Hay ____ sombreros en el conjunto siguiente.



4. Hay ____ sombreros en el conjunto siguiente.



5. Hay ____ sombreros en el conjunto siguiente.




6. Hay ____ sombreros en el conjunto siguiente.





Contar Sombreros de Leprechaun (¡) Respuestas

Cuenta la cantidad en cada conjunto de sombreros de leprechaun.

1. Hay 16 sombreros en el conjunto siguiente. 2. Hay 14 sombreros en el conjunto siguiente.



3. Hay 21 sombreros en el conjunto siguiente. 4. Hay 24 sombreros en el conjunto siguiente.



5. Hay 12 sombreros en el conjunto siguiente. 6. Hay 12 sombreros en el conjunto siguiente.

