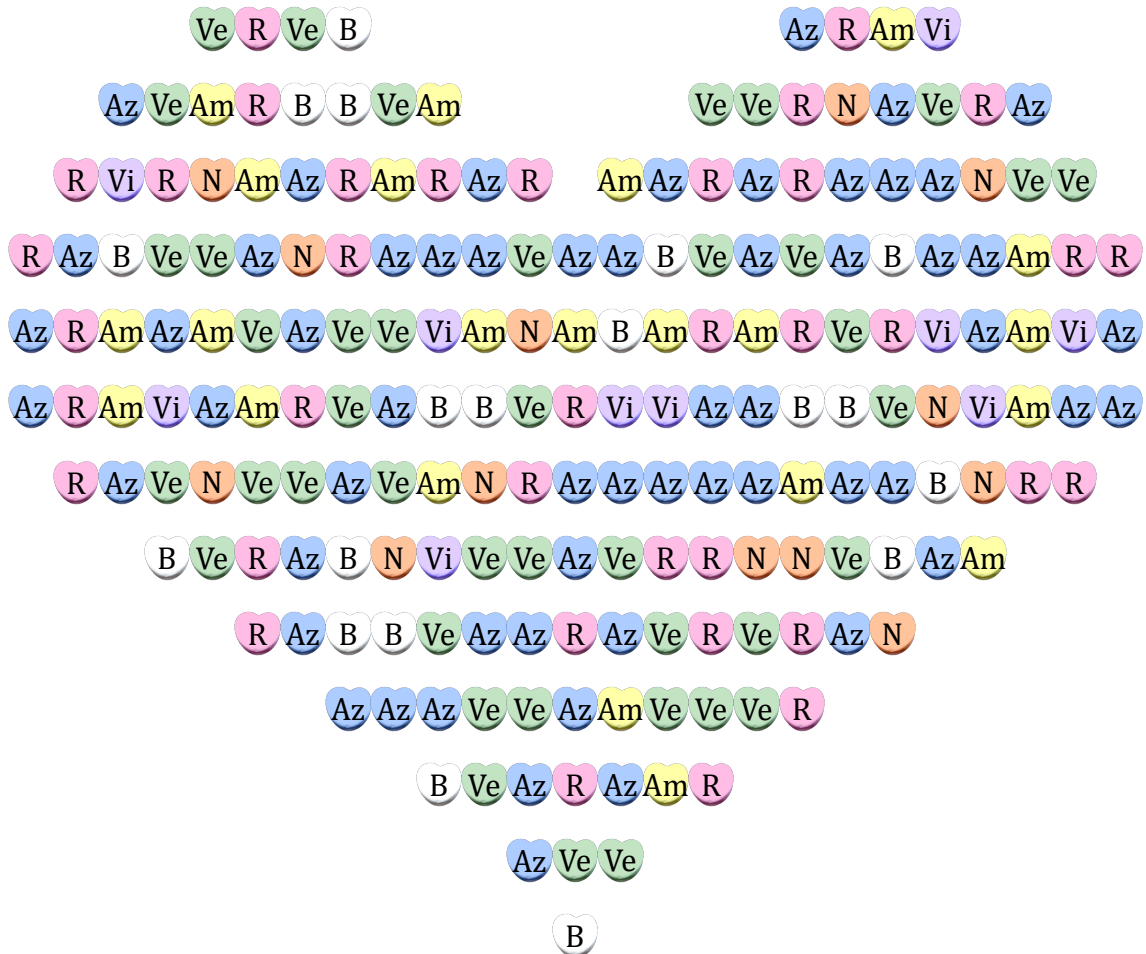


Frecuencias de Caramelos (A)

Nombre: _____

Fecha: _____

Complete la tabla y compare los colores de los caramelos.



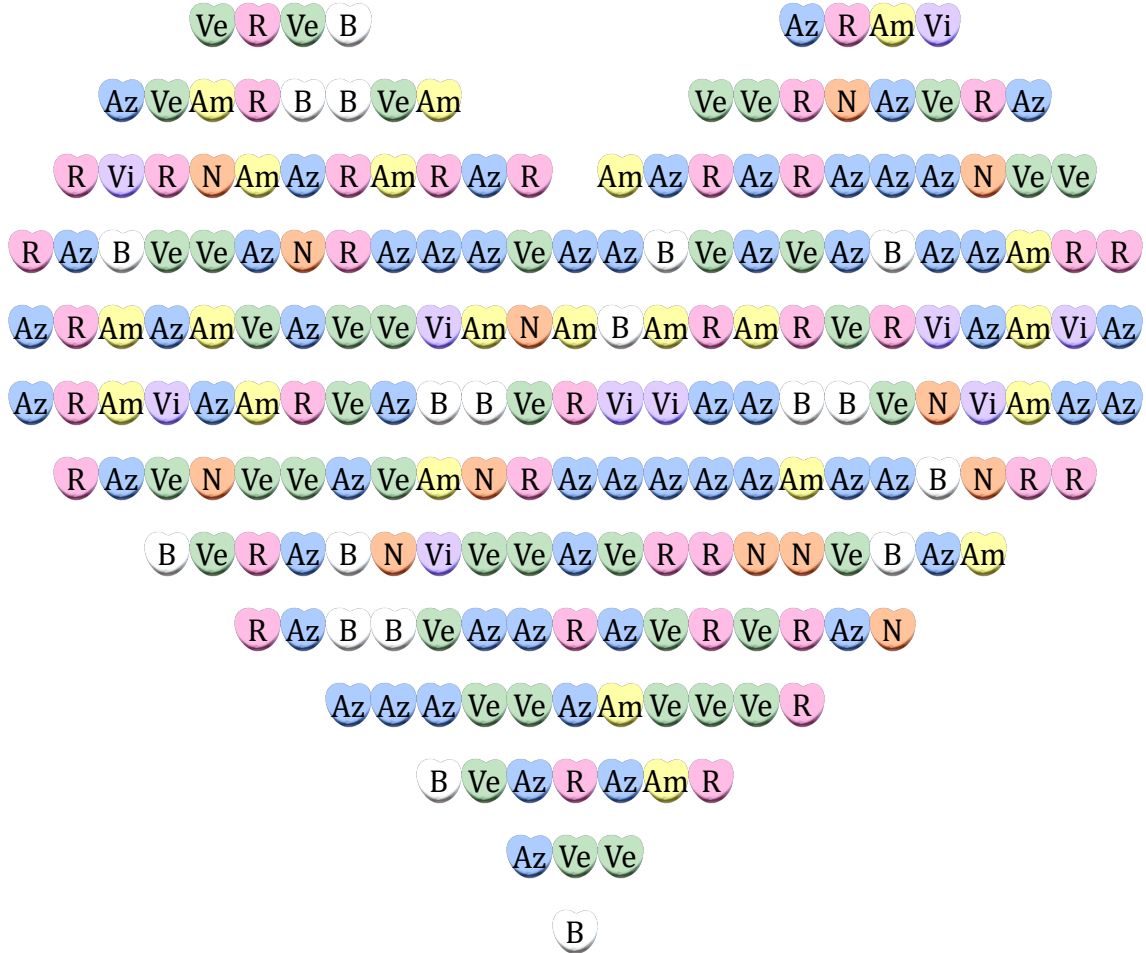
Letra	Color	Frecuencia	Frecuencia Relativa	Porcentaje
R	Rosa			
Ve	Verde			
Az	Azul			
B	Blanco			
Am	Amarillo			
N	Naranja			
Vi	Violeta			

Frecuencias de Caramelos (A) Respuestas

Nombre: _____

Fecha: _____

Complete la tabla y compare los colores de los caramelos.



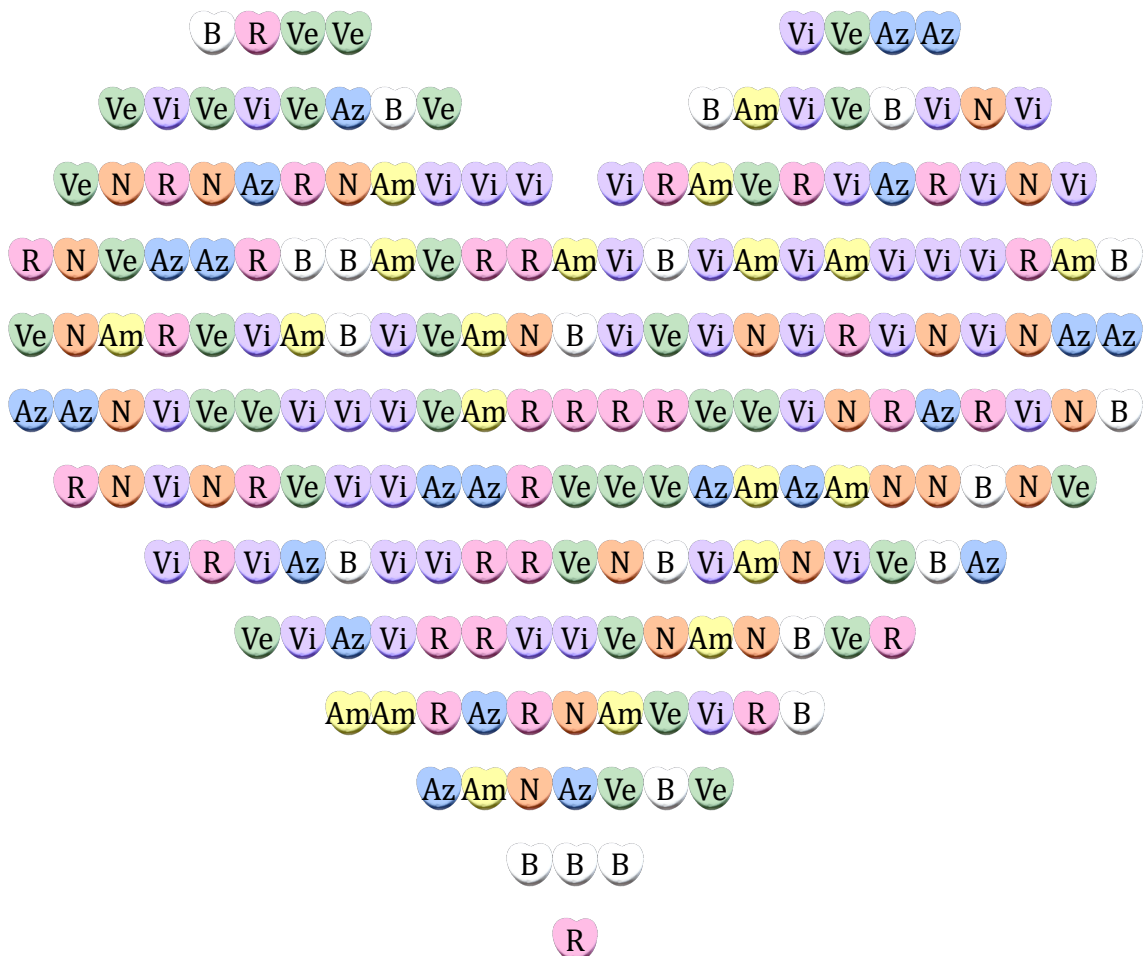
Letra	Color	Frecuencia	Frecuencia Relativa	Porcentaje
R	Rosa	37	$\frac{37}{200}$	18.5%
Ve	Verde	41	$\frac{41}{200}$	20.5%
Az	Azul	58	$\frac{58}{200}$	29%
B	Blanco	19	$\frac{19}{200}$	9.5%
Am	Amarillo	22	$\frac{22}{200}$	11%
N	Naranja	13	$\frac{13}{200}$	6.5%
Vi	Violeta	10	$\frac{10}{200}$	5%

Frecuencias de Caramelos (B)

Nombre: _____

Fecha: _____

Complete la tabla y compare los colores de los caramelos.



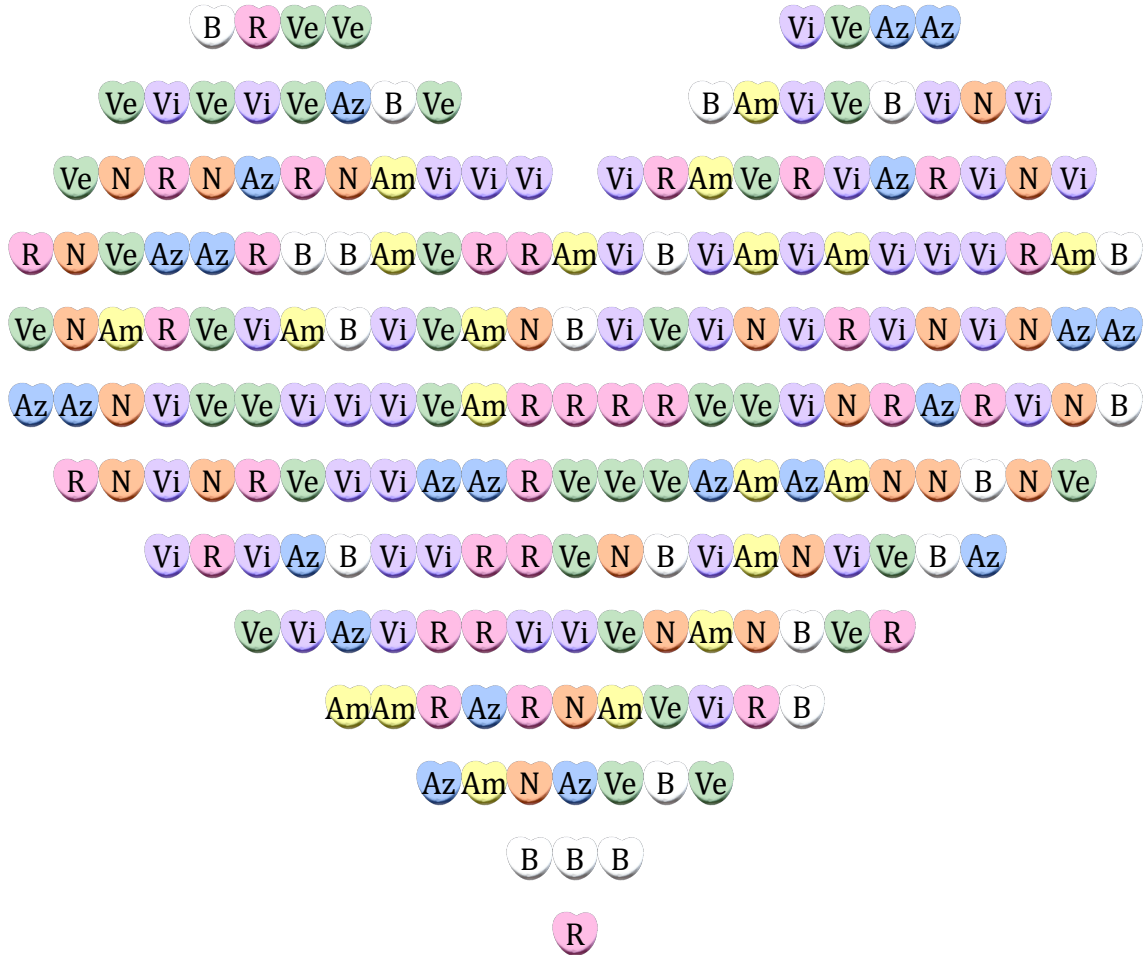
Letra	Color	Frecuencia	Frecuencia Relativa	Porcentaje
R	Rosa			
Ve	Verde			
Az	Azul			
B	Blanco			
Am	Amarillo			
N	Naranja			
Vi	Violeta			

Frecuencias de Caramelos (B) Respuestas

Nombre: _____

Fecha: _____

Complete la tabla y compare los colores de los caramelos.



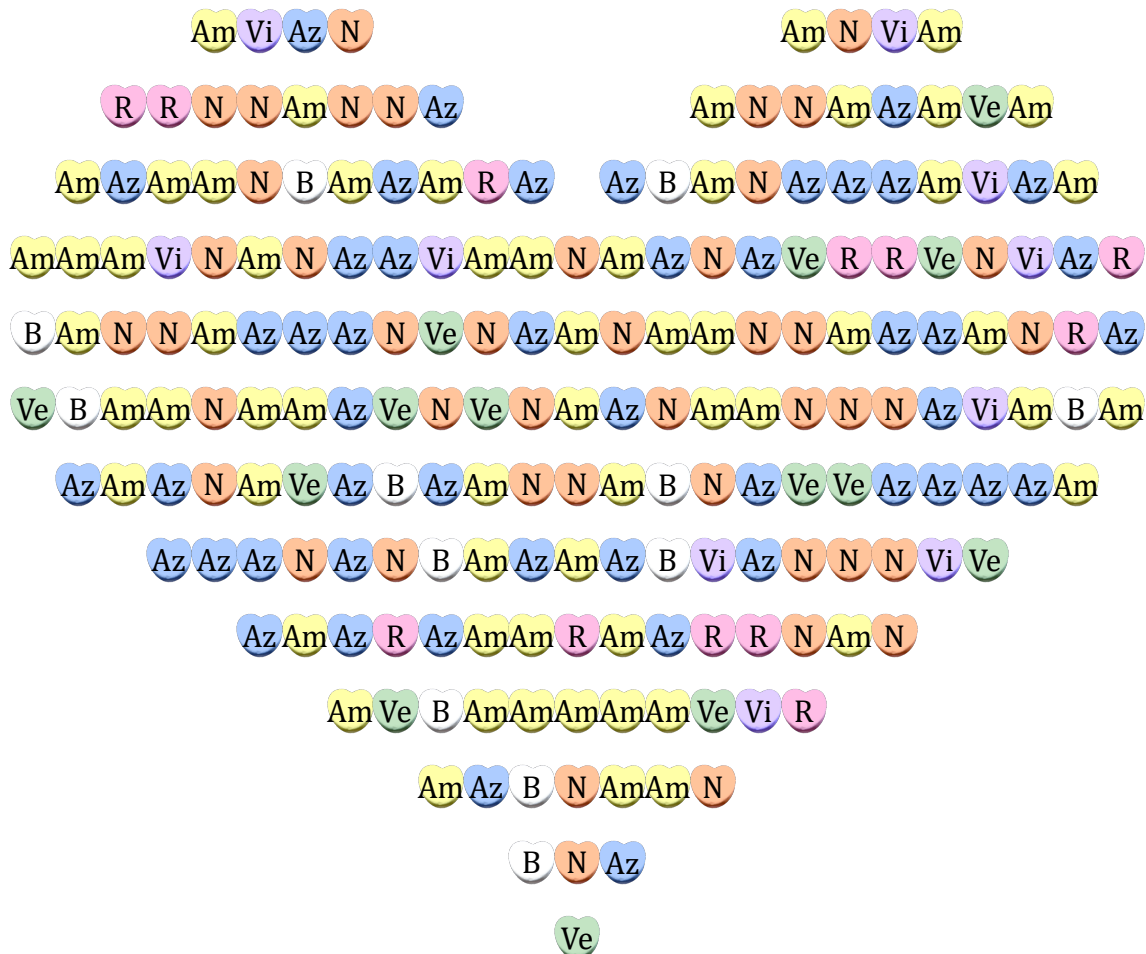
Letra	Color	Frecuencia	Frecuencia Relativa	Porcentaje
R	Rosa	32	$\frac{32}{200}$	16%
Ve	Verde	34	$\frac{34}{200}$	17%
Az	Azul	22	$\frac{22}{200}$	11%
B	Blanco	21	$\frac{21}{200}$	10.5%
Am	Amarillo	20	$\frac{20}{200}$	10%
N	Naranja	25	$\frac{25}{200}$	12.5%
Vi	Violeta	46	$\frac{46}{200}$	23%

Frecuencias de Caramelos (C)

Nombre: _____

Fecha: _____

Complete la tabla y compare los colores de los caramelos.



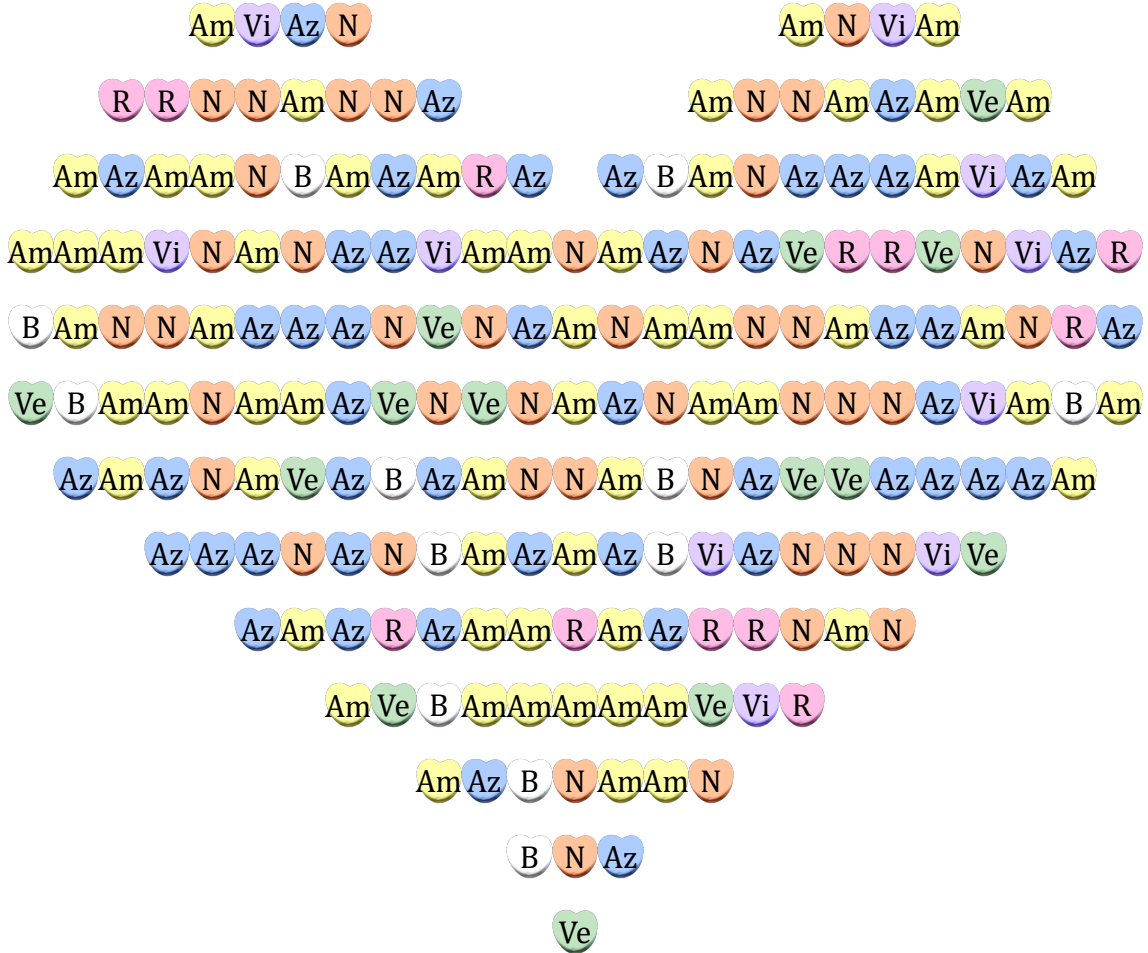
Letra	Color	Frecuencia	Frecuencia Relativa	Porcentaje
R	Rosa			
Ve	Verde			
Az	Azul			
B	Blanco			
Am	Amarillo			
N	Naranja			
Vi	Violeta			

Frecuencias de Caramelos (C) Respuestas

Nombre: _____

Fecha: _____

Complete la tabla y compare los colores de los caramelos.



Letra	Color	Frecuencia	Frecuencia Relativa	Porcentaje
R	Rosa	12	$\frac{12}{200}$	6%
Ve	Verde	14	$\frac{14}{200}$	7%
Az	Azul	48	$\frac{48}{200}$	24%
B	Blanco	12	$\frac{12}{200}$	6%
Am	Amarillo	60	$\frac{60}{200}$	30%
N	Naranja	44	$\frac{44}{200}$	22%
Vi	Violeta	10	$\frac{10}{200}$	5%

Frecuencias de Caramelos (D)

Nombre: _____

Fecha: _____

Complete la tabla y compare los colores de los caramelos.



Letra	Color	Frecuencia	Frecuencia Relativa	Porcentaje
R	Rosa			
Ve	Verde			
Az	Azul			
B	Blanco			
Am	Amarillo			
N	Naranja			
Vi	Violeta			

Frecuencias de Caramelos (D) Respuestas

Nombre: _____

Fecha: _____

Complete la tabla y compare los colores de los caramelos.



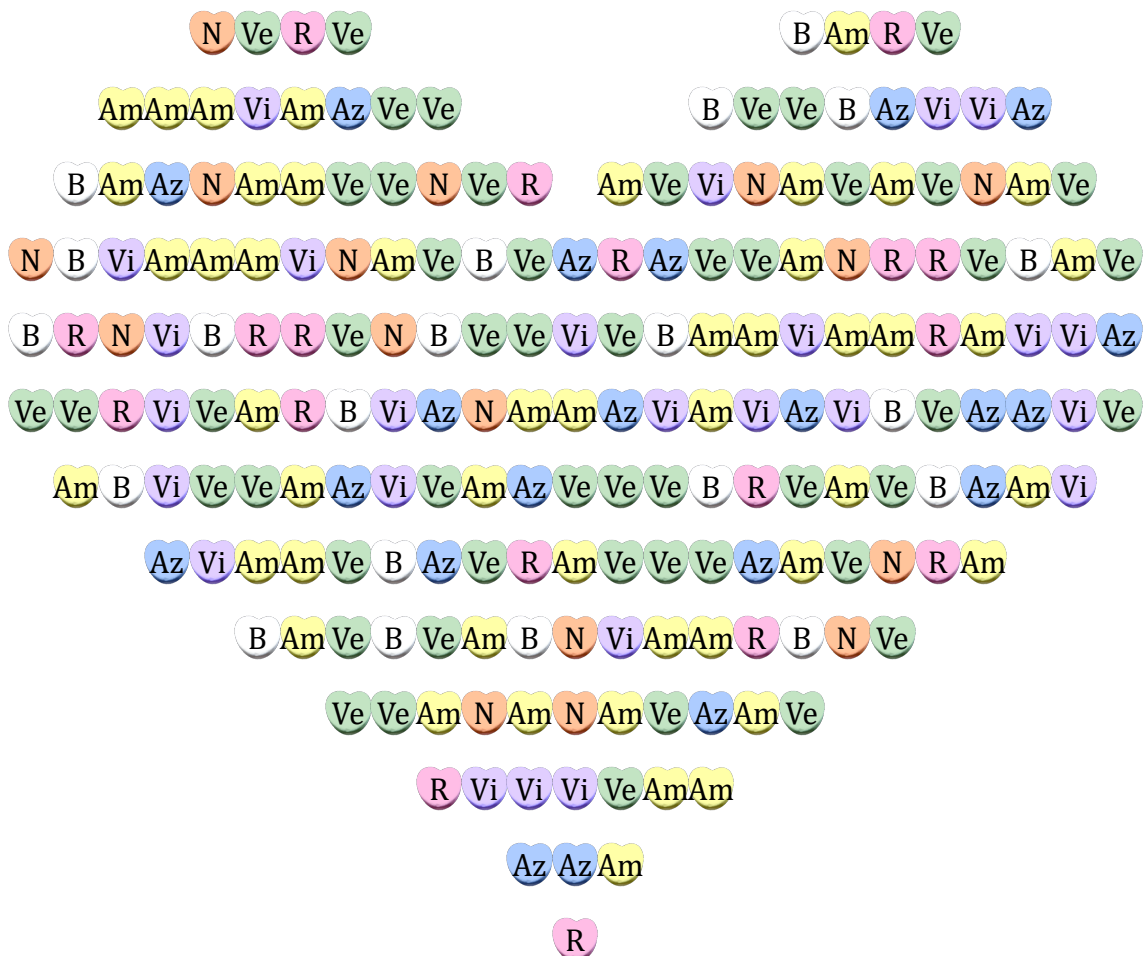
Letra	Color	Frecuencia	Frecuencia Relativa	Porcentaje
R	Rosa	37	$\frac{37}{200}$	18.5%
Ve	Verde	36	$\frac{36}{200}$	18%
Az	Azul	28	$\frac{28}{200}$	14%
B	Blanco	20	$\frac{20}{200}$	10%
Am	Amarillo	25	$\frac{25}{200}$	12.5%
N	Naranja	23	$\frac{23}{200}$	11.5%
Vi	Violeta	31	$\frac{31}{200}$	15.5%

Frecuencias de Caramelos (E)

Nombre: _____

Fecha: _____

Complete la tabla y compare los colores de los caramelos.



Letra	Color	Frecuencia	Frecuencia Relativa	Por ciento
R	Rosa			
Ve	Verde			
Az	Azul			
B	Blanco			
Am	Amarillo			
N	Naranja			
Vi	Violeta			

Frecuencias de Caramelos (E) Respuestas

Nombre: _____

Fecha: _____

Complete la tabla y compare los colores de los caramelos.



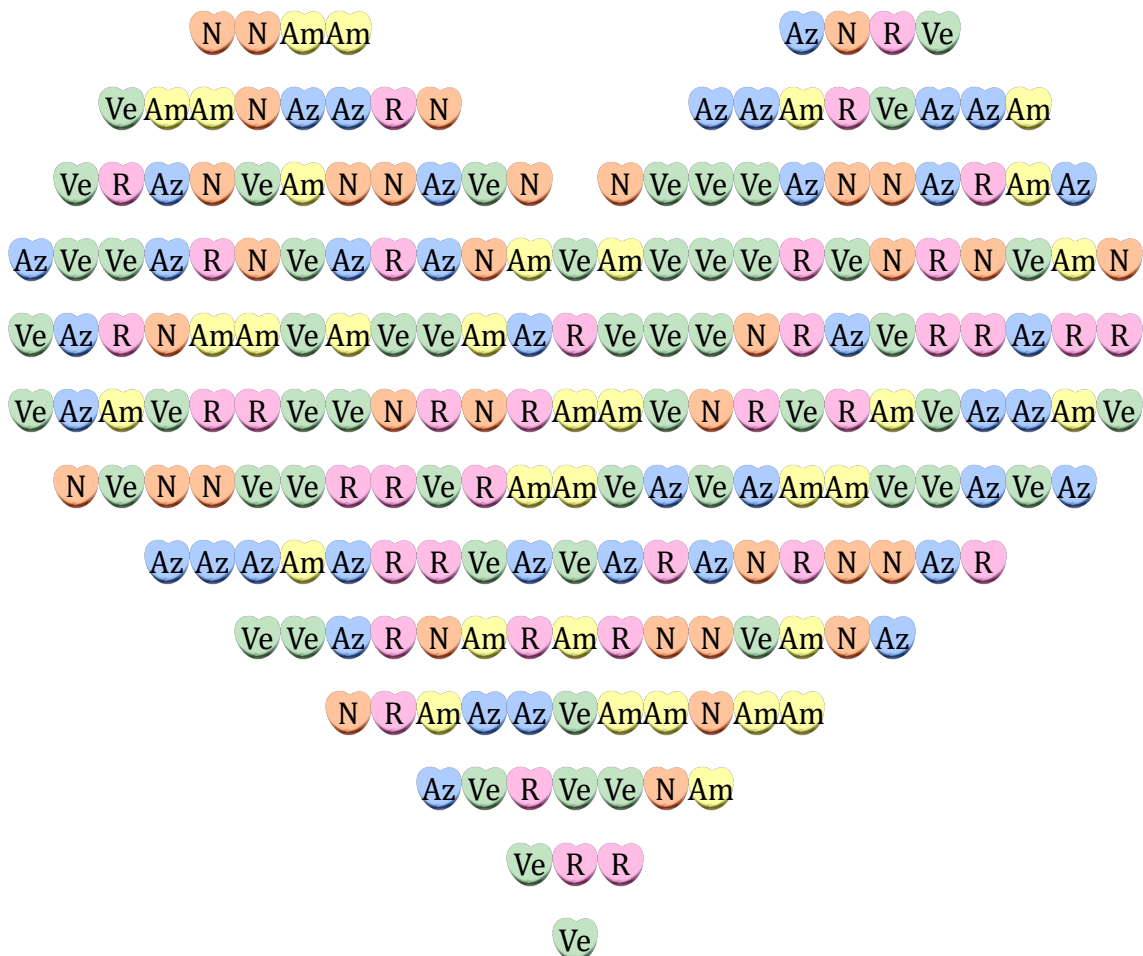
Letra	Color	Frecuencia	Frecuencia Relativa	Porcentaje
R	Rosa	18	$\frac{18}{200}$	9%
Ve	Verde	51	$\frac{51}{200}$	25.5%
Az	Azul	21	$\frac{21}{200}$	10.5%
B	Blanco	21	$\frac{21}{200}$	10.5%
Am	Amarillo	48	$\frac{48}{200}$	24%
N	Naranja	16	$\frac{16}{200}$	8%
Vi	Violeta	25	$\frac{25}{200}$	12.5%

Frecuencias de Caramelos (F)

Nombre: _____

Fecha: _____

Complete la tabla y compare los colores de los caramelos.



Letra	Color	Frecuencia	Frecuencia Relativa	Porcentaje
R	Rosa			
Ve	Verde			
Az	Azul			
B	Blanco			
Am	Amarillo			
N	Naranja			
Vi	Violeta			

Frecuencias de Caramelos (F) Respuestas

Nombre: _____

Fecha: _____

Complete la tabla y compare los colores de los caramelos.



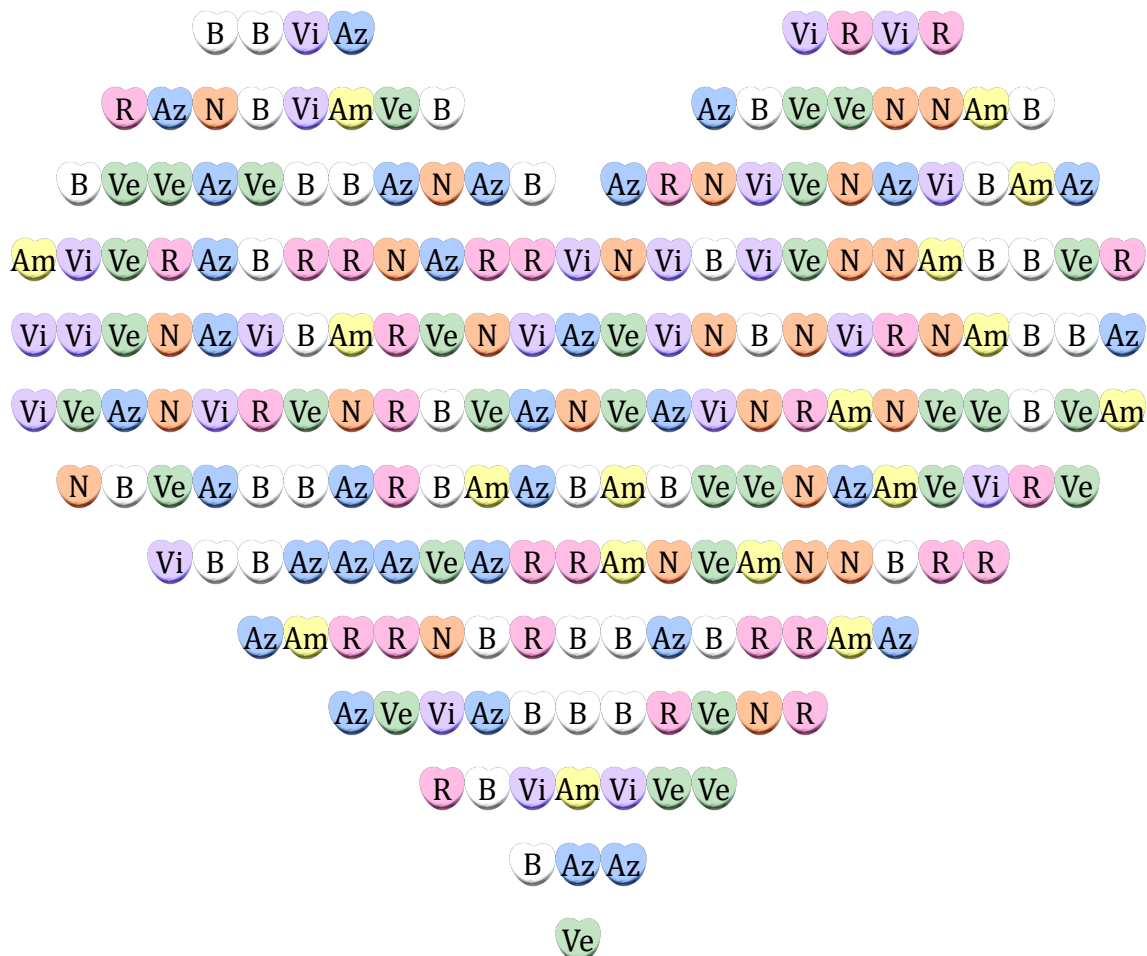
Letra	Color	Frecuencia	Frecuencia Relativa	Porcentaje
R	Rosa	37	$\frac{37}{200}$	18.5%
Ve	Verde	54	$\frac{54}{200}$	27%
Az	Azul	40	$\frac{40}{200}$	20%
B	Blanco	0	$\frac{0}{200}$	0%
Am	Amarillo	34	$\frac{34}{200}$	17%
N	Naranja	35	$\frac{35}{200}$	17.5%
Vi	Violeta	0	$\frac{0}{200}$	0%

Frecuencias de Caramelos (G)

Nombre: _____

Fecha: _____

Complete la tabla y compare los colores de los caramelos.



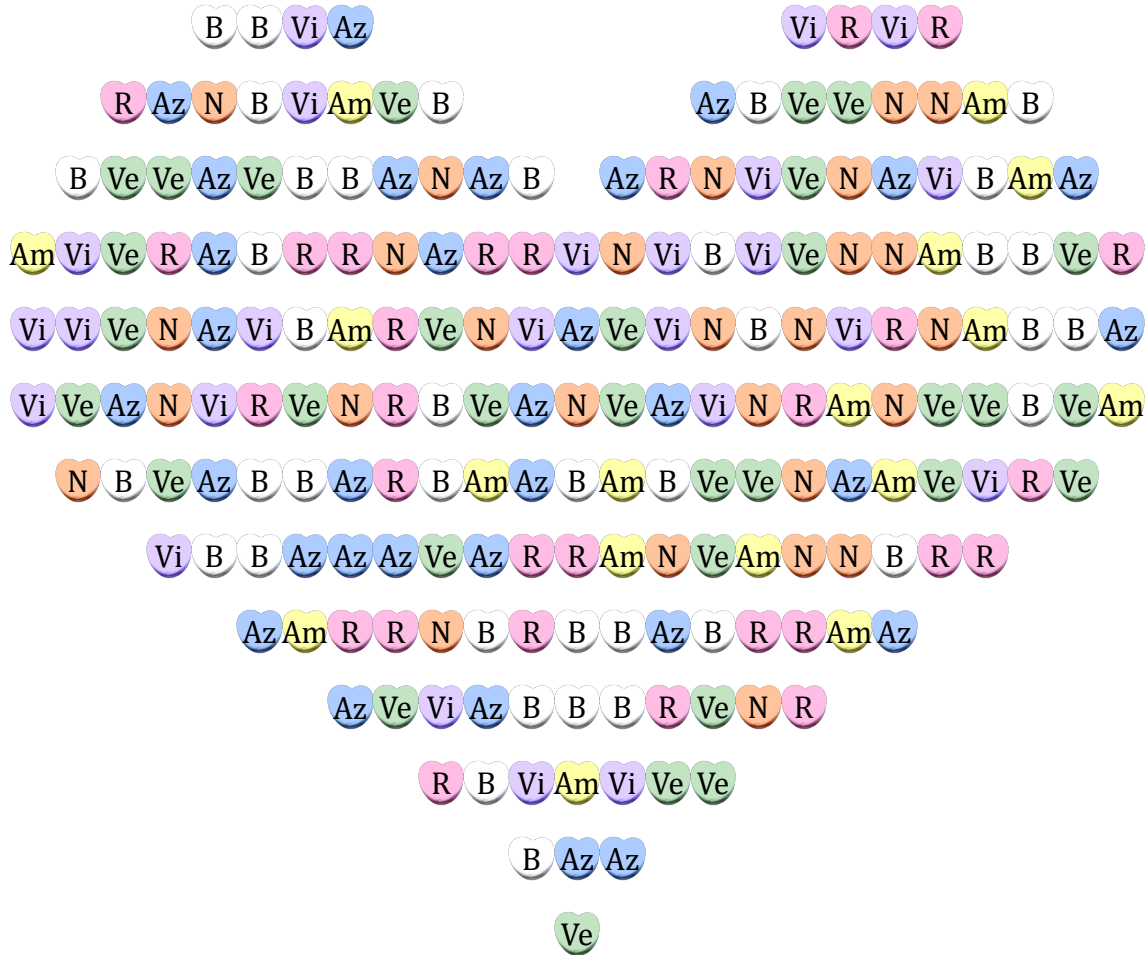
Letra	Color	Frecuencia	Frecuencia Relativa	Porcentaje
R	Rosa			
Ve	Verde			
Az	Azul			
B	Blanco			
Am	Amarillo			
N	Naranja			
Vi	Violeta			

Frecuencias de Caramelos (G) Respuestas

Nombre: _____

Fecha: _____

Complete la tabla y compare los colores de los caramelos.



Letra	Color	Frecuencia	Frecuencia Relativa	Porcentaje
R	Rosa	29	$\frac{29}{200}$	14.5%
Ve	Verde	32	$\frac{32}{200}$	16%
Az	Azul	32	$\frac{32}{200}$	16%
B	Blanco	39	$\frac{39}{200}$	19.5%
Am	Amarillo	17	$\frac{17}{200}$	8.5%
N	Naranja	27	$\frac{27}{200}$	13.5%
Vi	Violeta	24	$\frac{24}{200}$	12%

Frecuencias de Caramelos (H)

Nombre: _____

Fecha: _____

Complete la tabla y compare los colores de los caramelos.



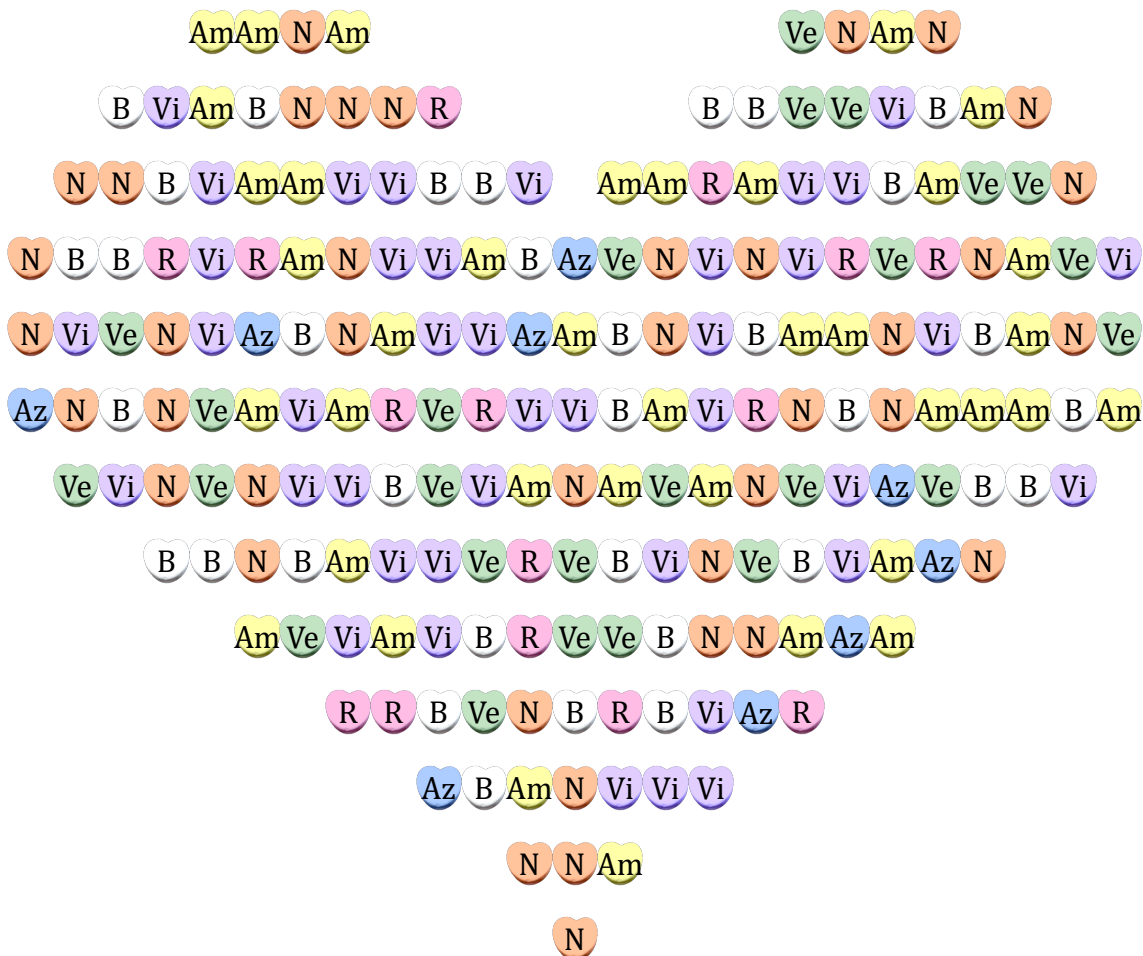
Letra	Color	Frecuencia	Frecuencia Relativa	Porcentaje
R	Rosa			
Ve	Verde			
Az	Azul			
B	Blanco			
Am	Amarillo			
N	Naranja			
Vi	Violeta			

Frecuencias de Caramelos (H) Respuestas

Nombre: _____

Fecha: _____

Complete la tabla y compare los colores de los caramelos.



Letra	Color	Frecuencia	Frecuencia Relativa	Porcentaje
R	Rosa	15	$\frac{15}{200}$	7.5%
Ve	Verde	25	$\frac{25}{200}$	12.5%
Az	Azul	9	$\frac{9}{200}$	4.5%
B	Blanco	34	$\frac{34}{200}$	17%
Am	Amarillo	38	$\frac{38}{200}$	19%
N	Naranja	39	$\frac{39}{200}$	19.5%
Vi	Violeta	40	$\frac{40}{200}$	20%

Frecuencias de Caramelos (I)

Nombre: _____

Fecha: _____

Complete la tabla y compare los colores de los caramelos.



Letra	Color	Frecuencia	Frecuencia Relativa	Porcentaje
R	Rosa			
Ve	Verde			
Az	Azul			
B	Blanco			
Am	Amarillo			
N	Naranja			
Vi	Violeta			

Frecuencias de Caramelos (I) Respuestas

Nombre: _____

Fecha: _____

Complete la tabla y compare los colores de los caramelos.



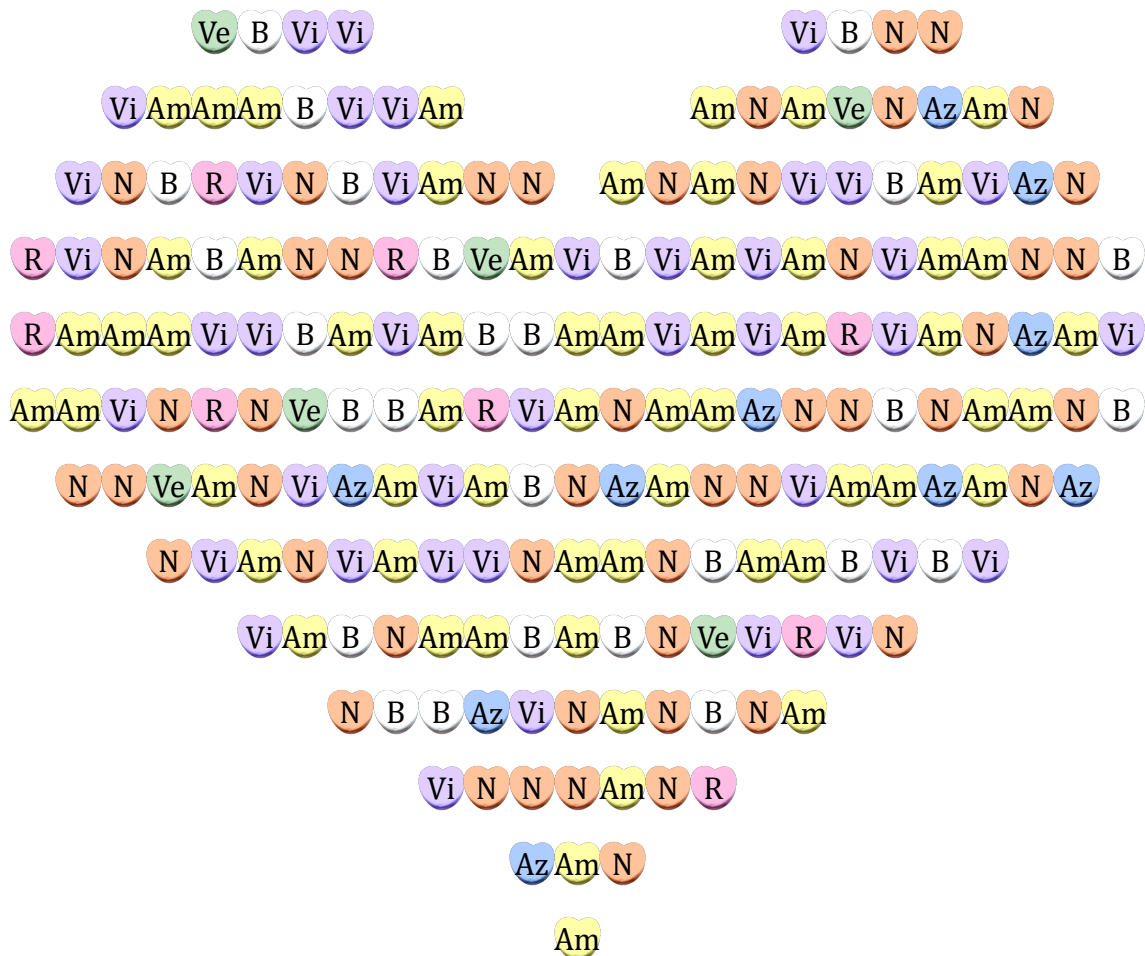
Letra	Color	Frecuencia	Frecuencia Relativa	Porcentaje
R	Rosa	32	$\frac{32}{200}$	16%
Ve	Verde	36	$\frac{36}{200}$	18%
Az	Azul	25	$\frac{25}{200}$	12.5%
B	Blanco	23	$\frac{23}{200}$	11.5%
Am	Amarillo	27	$\frac{27}{200}$	13.5%
N	Naranja	27	$\frac{27}{200}$	13.5%
Vi	Violeta	30	$\frac{30}{200}$	15%

Frecuencias de Caramelos (J) Respuestas

Nombre: _____

Fecha: _____

Complete la tabla y compare los colores de los caramelos.



Letra	Color	Frecuencia	Frecuencia Relativa	Porcentaje
R	Rosa	9	$\frac{9}{200}$	4.5%
Ve	Verde	6	$\frac{6}{200}$	3%
Az	Azul	10	$\frac{10}{200}$	5%
B	Blanco	27	$\frac{27}{200}$	13.5%
Am	Amarillo	59	$\frac{59}{200}$	29.5%
N	Naranja	49	$\frac{49}{200}$	24.5%
Vi	Violeta	40	$\frac{40}{200}$	20%