

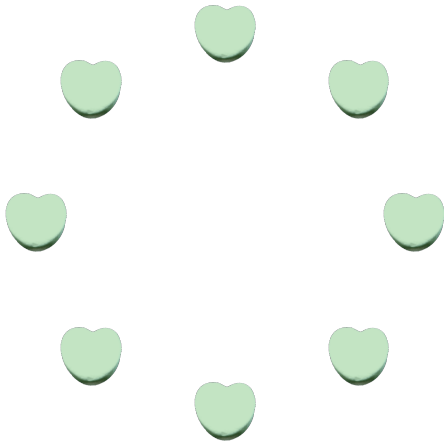
## Contar Corazones de Dulce (E)

Nombre: \_\_\_\_\_


Fecha: \_\_\_\_\_

Cuente cuántos corazones de dulce hay en cada grupo.


1. Hay \_\_\_\_\_ corazones verdes en el grupo siguiente.




2. Hay \_\_\_\_\_ corazones azules en el grupo siguiente.



3. Hay \_\_\_\_\_ corazones rosa en el grupo siguiente.



4. Hay \_\_\_\_\_ corazones naranja en el grupo siguiente.



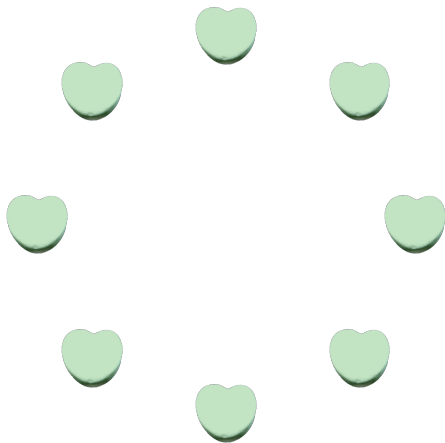
# Contar Corazones de Dulce (E) Respuestas

Nombre: \_\_\_\_\_


Fecha: \_\_\_\_\_

Cuente cuántos corazones de dulce hay en cada grupo.


1. Hay 8 corazones verdes en el grupo siguiente.



2. Hay 9 corazones azules en el grupo siguiente.



3. Hay 7 corazones rosa en el grupo siguiente.



4. Hay 12 corazones naranja en el grupo siguiente.

