


Contar Corazones de Dulce (A)

Nombre: _____

Fecha: _____

Cuente cuántos corazones de dulce hay en cada grupo.


1. Hay _____ corazones rosa en el grupo siguiente.




2. Hay _____ corazones naranja en el grupo siguiente.



3. Hay _____ corazones verdes en el grupo siguiente.



4. Hay _____ corazones azules en el grupo siguiente.




Contar Corazones de Dulce (A) Respuestas

Nombre: _____

Fecha: _____

Cuente cuántos corazones de dulce hay en cada grupo.


1. Hay 10 corazones rosa en el grupo siguiente.



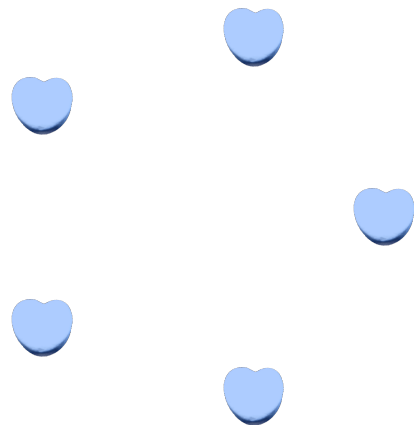
2. Hay 13 corazones naranja en el grupo siguiente.



3. Hay 12 corazones verdes en el grupo siguiente.



4. Hay 5 corazones azules en el grupo siguiente.



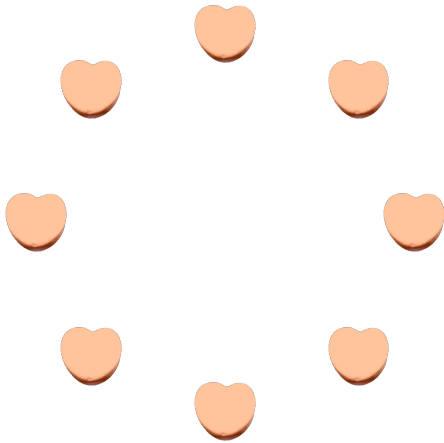
Contar Corazones de Dulce (B)

Nombre: _____

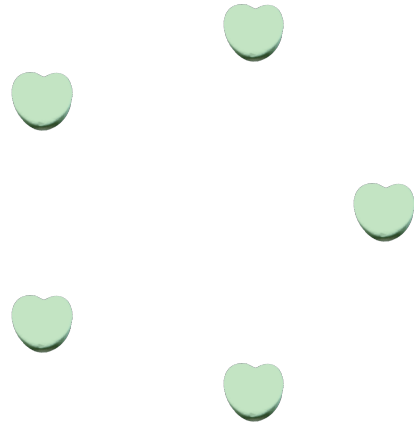
Fecha: _____

Cuente cuántos corazones de dulce hay en cada grupo.

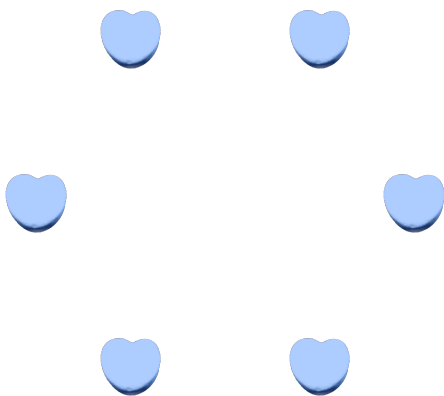
1. Hay _____ corazones naranja en el grupo siguiente.




2. Hay _____ corazones verdes en el grupo siguiente.



3. Hay _____ corazones azules en el grupo siguiente.



4. Hay _____ corazones rosa en el grupo siguiente.



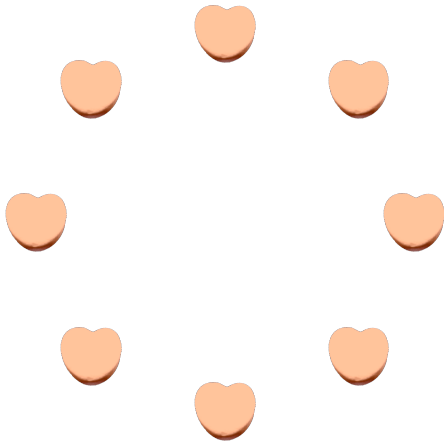
Contar Corazones de Dulce (B) Respuestas

Nombre: _____

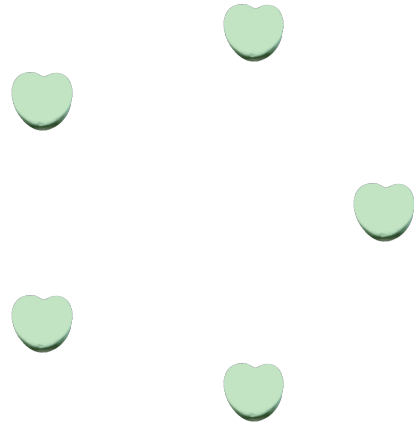
Fecha: _____

Cuente cuántos corazones de dulce hay en cada grupo.

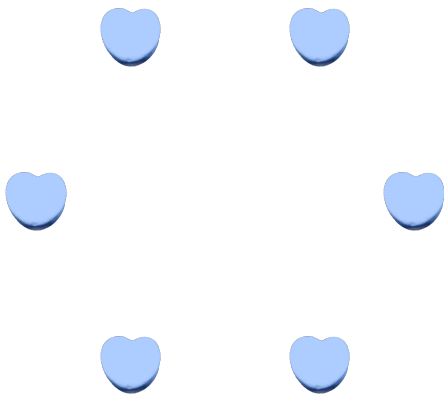
1. Hay 8 corazones naranja en el grupo siguiente.




2. Hay 5 corazones verdes en el grupo siguiente.



3. Hay 6 corazones azules en el grupo siguiente.



4. Hay 7 corazones rosa en el grupo siguiente.




Contar Corazones de Dulce (C)

Nombre: _____


Fecha: _____

Cuente cuántos corazones de dulce hay en cada grupo.


1. Hay _____ corazones verdes en el grupo siguiente.



2. Hay _____ corazones rosa en el grupo siguiente.



3. Hay _____ corazones azules en el grupo siguiente.



4. Hay _____ corazones naranja en el grupo siguiente.




Contar Corazones de Dulce (C) Respuestas

Nombre: _____


Fecha: _____

Cuente cuántos corazones de dulce hay en cada grupo.


1. Hay 7 corazones verdes en el grupo siguiente.



2. Hay 12 corazones rosa en el grupo siguiente.



3. Hay 14 corazones azules en el grupo siguiente.



4. Hay 13 corazones naranja en el grupo siguiente.




Contar Corazones de Dulce (D)

Nombre: _____

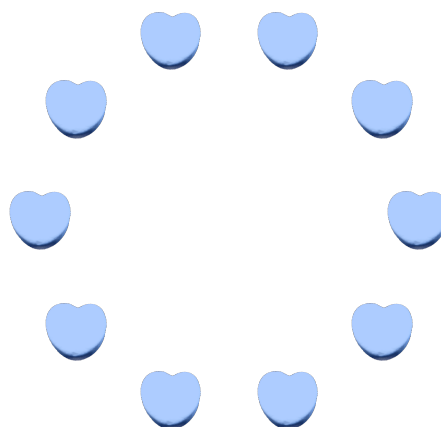
Fecha: _____

Cuente cuántos corazones de dulce hay en cada grupo.

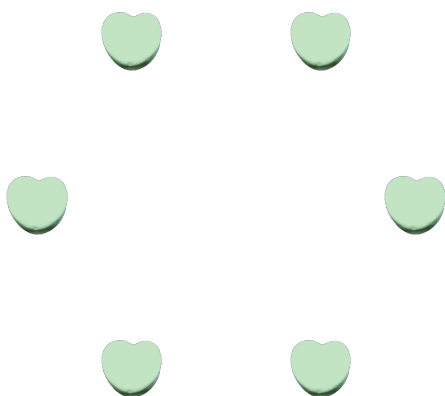
1. Hay _____ corazones rosa en el grupo siguiente.




2. Hay _____ corazones azules en el grupo siguiente.



3. Hay _____ corazones verdes en el grupo siguiente.



4. Hay _____ corazones naranja en el grupo siguiente.




Contar Corazones de Dulce (D) Respuestas

Nombre: _____

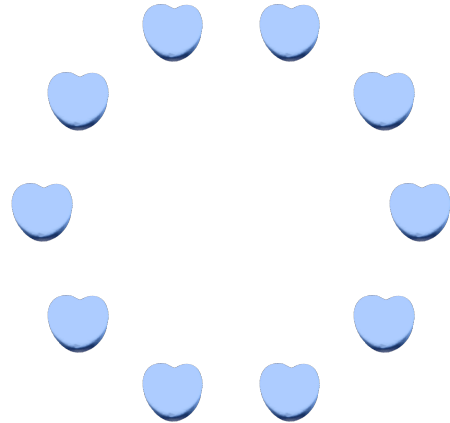
Fecha: _____

Cuente cuántos corazones de dulce hay en cada grupo.

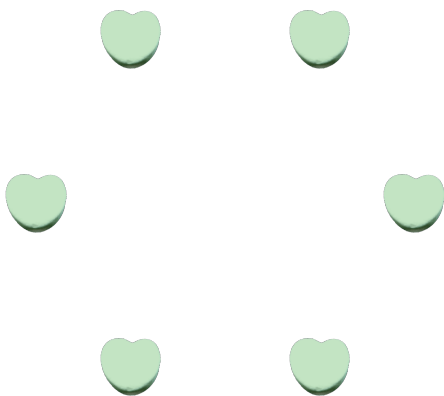
1. Hay 9 corazones rosa en el grupo siguiente.




2. Hay 10 corazones azules en el grupo siguiente.



3. Hay 6 corazones verdes en el grupo siguiente.



4. Hay 12 corazones naranja en el grupo siguiente.



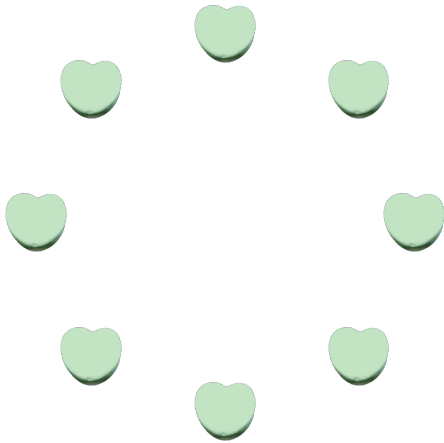
Contar Corazones de Dulce (E)

Nombre: _____


Fecha: _____

Cuente cuántos corazones de dulce hay en cada grupo.


1. Hay _____ corazones verdes en el grupo siguiente.




2. Hay _____ corazones azules en el grupo siguiente.



3. Hay _____ corazones rosa en el grupo siguiente.



4. Hay _____ corazones naranja en el grupo siguiente.



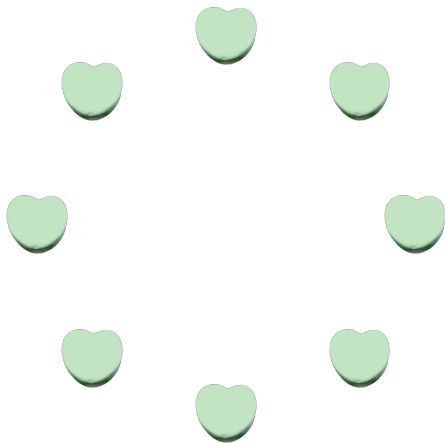
Contar Corazones de Dulce (E) Respuestas

Nombre: _____


Fecha: _____

Cuente cuántos corazones de dulce hay en cada grupo.


1. Hay 8 corazones verdes en el grupo siguiente.




2. Hay 9 corazones azules en el grupo siguiente.



3. Hay 7 corazones rosa en el grupo siguiente.



4. Hay 12 corazones naranja en el grupo siguiente.



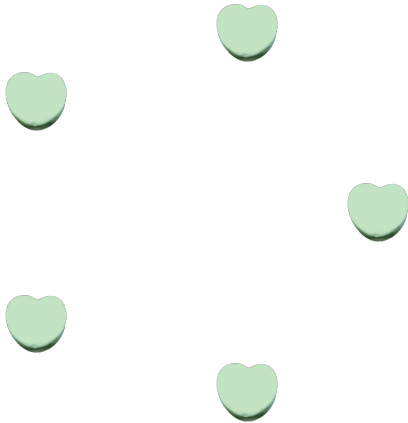
Contar Corazones de Dulce (F)

Nombre: _____


Fecha: _____

Cuente cuántos corazones de dulce hay en cada grupo.

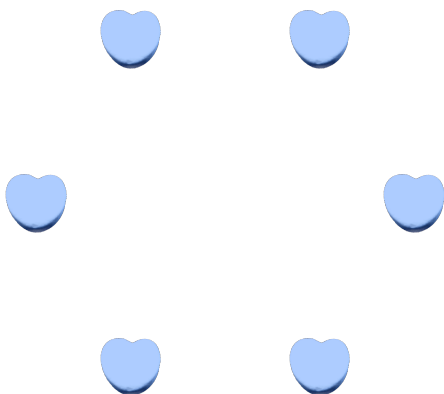
1. Hay _____ corazones verdes en el grupo siguiente.




2. Hay _____ corazones naranja en el grupo siguiente.



3. Hay _____ corazones azules en el grupo siguiente.



4. Hay _____ corazones rosa en el grupo siguiente.



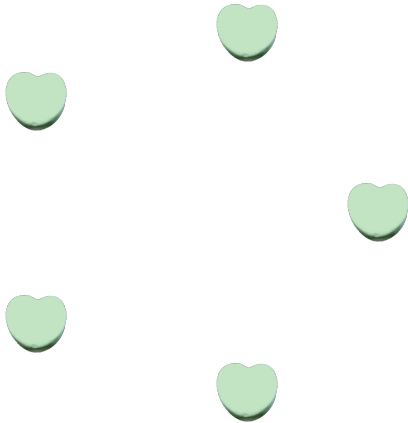
Contar Corazones de Dulce (F) Respuestas

Nombre: _____


Fecha: _____

Cuente cuántos corazones de dulce hay en cada grupo.

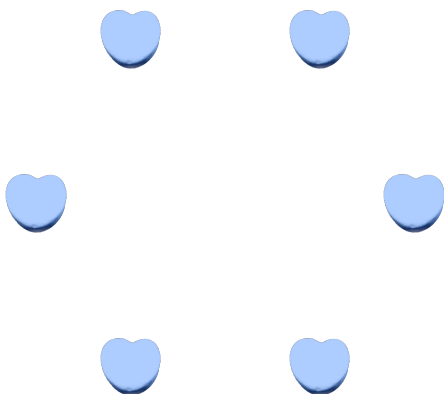
1. Hay 5 corazones verdes en el grupo siguiente.




2. Hay 12 corazones naranja en el grupo siguiente.



3. Hay 6 corazones azules en el grupo siguiente.



4. Hay 14 corazones rosa en el grupo siguiente.




Contar Corazones de Dulce (G)

Nombre: _____


Fecha: _____

Cuente cuántos corazones de dulce hay en cada grupo.


1. Hay _____ corazones azules en el grupo siguiente.




2. Hay _____ corazones rosa en el grupo siguiente.



3. Hay _____ corazones naranja en el grupo siguiente.



4. Hay _____ corazones verdes en el grupo siguiente.




Contar Corazones de Dulce (G) Respuestas

Nombre: _____


Fecha: _____

Cuente cuántos corazones de dulce hay en cada grupo.


1. Hay 14 corazones azules en el grupo siguiente.




2. Hay 6 corazones rosa en el grupo siguiente.



3. Hay 9 corazones naranja en el grupo siguiente.



4. Hay 11 corazones verdes en el grupo siguiente.



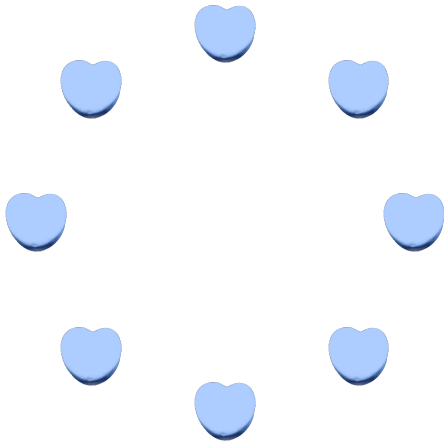
Contar Corazones de Dulce (H)

Nombre: _____


Fecha: _____

Cuente cuántos corazones de dulce hay en cada grupo.


1. Hay _____ corazones azules en el grupo siguiente.




2. Hay _____ corazones verdes en el grupo siguiente.



3. Hay _____ corazones rosa en el grupo siguiente.



4. Hay _____ corazones naranja en el grupo siguiente.



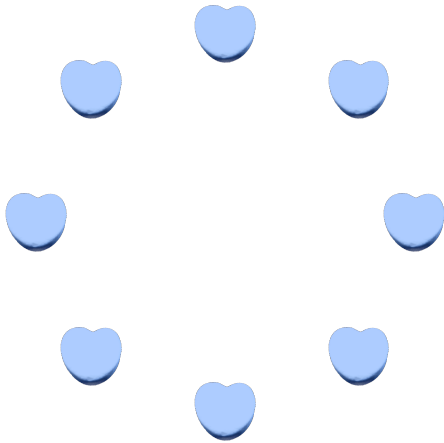
Contar Corazones de Dulce (7) Respuestas

Nombre: _____


Fecha: _____

Cuente cuántos corazones de dulce hay en cada grupo.


1. Hay 8 corazones azules en el grupo siguiente.




2. Hay 9 corazones verdes en el grupo siguiente.



3. Hay 10 corazones rosa en el grupo siguiente.



4. Hay 12 corazones naranja en el grupo siguiente.




Contar Corazones de Dulce (9)

Nombre: _____


Fecha: _____

Cuente cuántos corazones de dulce hay en cada grupo.

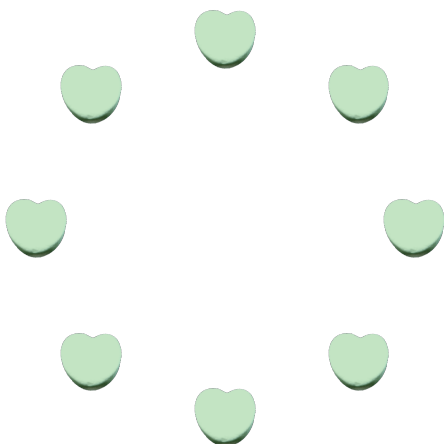
1. Hay _____ corazones rosa en el grupo siguiente.




2. Hay _____ corazones azules en el grupo siguiente.



3. Hay _____ corazones verdes en el grupo siguiente.



4. Hay _____ corazones naranja en el grupo siguiente.




Contar Corazones de Dulce (9) Respuestas

Nombre: _____


Fecha: _____

Cuente cuántos corazones de dulce hay en cada grupo.

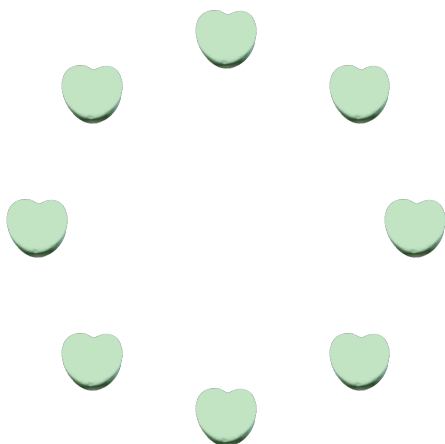
1. Hay 14 corazones rosa en el grupo siguiente.




2. Hay 13 corazones azules en el grupo siguiente.



3. Hay 8 corazones verdes en el grupo siguiente.



4. Hay 9 corazones naranja en el grupo siguiente.




Contar Corazones de Dulce (9)

Nombre: _____


Fecha: _____

Cuente cuántos corazones de dulce hay en cada grupo.


1. Hay _____ corazones azules en el grupo siguiente.




2. Hay _____ corazones naranja en el grupo siguiente.



3. Hay _____ corazones verdes en el grupo siguiente.



4. Hay _____ corazones rosa en el grupo siguiente.




Contar Corazones de Dulce (9) Respuestas

Nombre: _____


Fecha: _____

Cuente cuántos corazones de dulce hay en cada grupo.


1. Hay 9 corazones azules en el grupo siguiente.



2. Hay 7 corazones naranja en el grupo siguiente.



3. Hay 12 corazones verdes en el grupo siguiente.



4. Hay 6 corazones rosa en el grupo siguiente.

