


# Contar Corazones de Dulce (F)

Nombre: \_\_\_\_\_


Fecha: \_\_\_\_\_

Cuente cuántos corazones de dulce hay en cada grupo.

1. Hay \_\_\_\_\_ corazones rosa en el grupo siguiente.




2. Hay \_\_\_\_\_ corazones azules en el grupo siguiente.



3. Hay \_\_\_\_\_ corazones verdes en el grupo siguiente.



4. Hay \_\_\_\_\_ corazones naranja en el grupo siguiente.




# Contar Corazones de Dulce (F) Respuestas

Nombre: \_\_\_\_\_


Fecha: \_\_\_\_\_

Cuente cuántos corazones de dulce hay en cada grupo.

1. Hay 12 corazones rosa en el grupo siguiente.



2. Hay 15 corazones azules en el grupo siguiente.



3. Hay 13 corazones verdes en el grupo siguiente.



4. Hay 12 corazones naranja en el grupo siguiente.

