


# Contar Corazones de Dulce (9)

Nombre: \_\_\_\_\_

Fecha: \_\_\_\_\_

Cuente cuántos corazones de dulce hay en cada grupo.


1. Hay \_\_\_\_\_ corazones verdes en el grupo siguiente.




2. Hay \_\_\_\_\_ corazones naranja en el grupo siguiente.



3. Hay \_\_\_\_\_ corazones rosa en el grupo siguiente.



4. Hay \_\_\_\_\_ corazones azules en el grupo siguiente.




# Contar Corazones de Dulce (9) Respuestas

Nombre: \_\_\_\_\_

Fecha: \_\_\_\_\_

Cuente cuántos corazones de dulce hay en cada grupo.


1. Hay 14 corazones verdes en el grupo siguiente.



2. Hay 17 corazones naranja en el grupo siguiente.



3. Hay 14 corazones rosa en el grupo siguiente.



4. Hay 18 corazones azules en el grupo siguiente.

