


Contar Corazones de Dulce (G)

Nombre: _____

Fecha: _____

Cuente cuántos corazones de dulce hay en cada grupo.


1. Hay _____ corazones azules en el grupo siguiente.



2. Hay _____ corazones verdes en el grupo siguiente.



3. Hay _____ corazones rosa en el grupo siguiente.



4. Hay _____ corazones naranja en el grupo siguiente.




Contar Corazones de Dulce (G) Respuestas

Nombre: _____

Fecha: _____

Cuente cuántos corazones de dulce hay en cada grupo.


1. Hay 23 corazones azules en el grupo siguiente.



2. Hay 30 corazones verdes en el grupo siguiente.



3. Hay 35 corazones rosa en el grupo siguiente.



4. Hay 22 corazones naranja en el grupo siguiente.

