


Contar Corazones de Dulce (A)

Nombre: _____


Fecha: _____

Cuente cuántos corazones de dulce hay en cada grupo.

1. Hay _____ corazones verdes en el grupo siguiente.



2. Hay _____ corazones azules en el grupo siguiente.



3. Hay _____ corazones rosa en el grupo siguiente.



4. Hay _____ corazones naranja en el grupo siguiente.




Contar Corazones de Dulce (A) Respuestas

Nombre: _____


Fecha: _____

Cuente cuántos corazones de dulce hay en cada grupo.

1. Hay 38 corazones verdes en el grupo siguiente.



2. Hay 41 corazones azules en el grupo siguiente.



3. Hay 33 corazones rosa en el grupo siguiente.



4. Hay 35 corazones naranja en el grupo siguiente.




Contar Corazones de Dulce (B)

Nombre: _____

Fecha: _____

Cuente cuántos corazones de dulce hay en cada grupo.

1. Hay _____ corazones verdes en el grupo siguiente.



2. Hay _____ corazones naranja en el grupo siguiente.



3. Hay _____ corazones rosa en el grupo siguiente.



4. Hay _____ corazones azules en el grupo siguiente.




Contar Corazones de Dulce (B) Respuestas

Nombre: _____

Fecha: _____

Cuente cuántos corazones de dulce hay en cada grupo.

1. Hay 25 corazones verdes en el grupo siguiente.




2. Hay 30 corazones naranja en el grupo siguiente.



3. Hay 37 corazones rosa en el grupo siguiente.



4. Hay 35 corazones azules en el grupo siguiente.



Contar Corazones de Dulce (C)

Nombre: _____

Fecha: _____

Cuente cuántos corazones de dulce hay en cada grupo.

1. Hay _____ corazones verdes en el grupo siguiente.




2. Hay _____ corazones naranja en el grupo siguiente.



3. Hay _____ corazones rosa en el grupo siguiente.



4. Hay _____ corazones azules en el grupo siguiente.



Contar Corazones de Dulce (C) Respuestas

Nombre: _____

Fecha: _____

Cuente cuántos corazones de dulce hay en cada grupo.

1. Hay 41 corazones verdes en el grupo siguiente.




2. Hay 21 corazones naranja en el grupo siguiente.



3. Hay 19 corazones rosa en el grupo siguiente.



4. Hay 36 corazones azules en el grupo siguiente.




Contar Corazones de Dulce (D)

Nombre: _____

Fecha: _____

Cuente cuántos corazones de dulce hay en cada grupo.

1. Hay _____ corazones azules en el grupo siguiente.



2. Hay _____ corazones naranja en el grupo siguiente.



3. Hay _____ corazones rosa en el grupo siguiente.



4. Hay _____ corazones verdes en el grupo siguiente.




Contar Corazones de Dulce (D) Respuestas

Nombre: _____

Fecha: _____

Cuente cuántos corazones de dulce hay en cada grupo.

1. Hay 30 corazones azules en el grupo siguiente.



2. Hay 38 corazones naranja en el grupo siguiente.



3. Hay 39 corazones rosa en el grupo siguiente.



4. Hay 30 corazones verdes en el grupo siguiente.



Contar Corazones de Dulce (E)

Nombre: _____


Fecha: _____

Cuente cuántos corazones de dulce hay en cada grupo.


1. Hay _____ corazones rosa en el grupo siguiente.



2. Hay _____ corazones azules en el grupo siguiente.



3. Hay _____ corazones verdes en el grupo siguiente.



4. Hay _____ corazones naranja en el grupo siguiente.



Contar Corazones de Dulce (E) Respuestas

Nombre: _____


Fecha: _____

Cuente cuántos corazones de dulce hay en cada grupo.


1. Hay 48 corazones rosa en el grupo siguiente.



2. Hay 33 corazones azules en el grupo siguiente.



3. Hay 22 corazones verdes en el grupo siguiente.



4. Hay 41 corazones naranja en el grupo siguiente.




Contar Corazones de Dulce (F)

Nombre: _____


Fecha: _____

Cuente cuántos corazones de dulce hay en cada grupo.


1. Hay _____ corazones azules en el grupo siguiente.



2. Hay _____ corazones naranja en el grupo siguiente.



3. Hay _____ corazones verdes en el grupo siguiente.



4. Hay _____ corazones rosa en el grupo siguiente.




Contar Corazones de Dulce (F) Respuestas

Nombre: _____


Fecha: _____

Cuente cuántos corazones de dulce hay en cada grupo.


1. Hay 39 corazones azules en el grupo siguiente.



2. Hay 38 corazones naranja en el grupo siguiente.



3. Hay 39 corazones verdes en el grupo siguiente.



4. Hay 39 corazones rosa en el grupo siguiente.




Contar Corazones de Dulce (G)

Nombre: _____


Fecha: _____

Cuente cuántos corazones de dulce hay en cada grupo.


1. Hay _____ corazones azules en el grupo siguiente.



2. Hay _____ corazones verdes en el grupo siguiente.



3. Hay _____ corazones rosa en el grupo siguiente.



4. Hay _____ corazones naranja en el grupo siguiente.




Contar Corazones de Dulce (G) Respuestas

Nombre: _____

Fecha: _____

Cuente cuántos corazones de dulce hay en cada grupo.


1. Hay 23 corazones azules en el grupo siguiente.



2. Hay 30 corazones verdes en el grupo siguiente.



3. Hay 35 corazones rosa en el grupo siguiente.



4. Hay 22 corazones naranja en el grupo siguiente.



Contar Corazones de Dulce (71)

Nombre: _____

Fecha: _____

Cuente cuántos corazones de dulce hay en cada grupo.

1. Hay _____ corazones verdes en el grupo siguiente.



2. Hay _____ corazones rosa en el grupo siguiente.



3. Hay _____ corazones naranja en el grupo siguiente.



4. Hay _____ corazones azules en el grupo siguiente.



Contar Corazones de Dulce (H) Respuestas

Nombre: _____

Fecha: _____

Cuente cuántos corazones de dulce hay en cada grupo.

1. Hay 44 corazones verdes en el grupo siguiente.



2. Hay 44 corazones rosa en el grupo siguiente.



3. Hay 33 corazones naranja en el grupo siguiente.



4. Hay 41 corazones azules en el grupo siguiente.



Contar Corazones de Dulce (9)

Nombre: _____

Fecha: _____

Cuente cuántos corazones de dulce hay en cada grupo.


1. Hay _____ corazones rosa en el grupo siguiente.



2. Hay _____ corazones verdes en el grupo siguiente.



3. Hay _____ corazones azules en el grupo siguiente.



4. Hay _____ corazones naranja en el grupo siguiente.



Contar Corazones de Dulce (9) Respuestas

Nombre: _____

Fecha: _____

Cuente cuántos corazones de dulce hay en cada grupo.


1. Hay 30 corazones rosa en el grupo siguiente.



2. Hay 34 corazones verdes en el grupo siguiente.



3. Hay 39 corazones azules en el grupo siguiente.



4. Hay 31 corazones naranja en el grupo siguiente.



Contar Corazones de Dulce (9)

Nombre: _____

Fecha: _____

Cuente cuántos corazones de dulce hay en cada grupo.


1. Hay _____ corazones verdes en el grupo siguiente.



2. Hay _____ corazones naranja en el grupo siguiente.



3. Hay _____ corazones azules en el grupo siguiente.



4. Hay _____ corazones rosa en el grupo siguiente.



Contar Corazones de Dulce (9) Respuestas

Nombre: _____

Fecha: _____

Cuente cuántos corazones de dulce hay en cada grupo.

1. Hay 45 corazones verdes en el grupo siguiente.



2. Hay 42 corazones naranja en el grupo siguiente.



3. Hay 39 corazones azules en el grupo siguiente.



4. Hay 45 corazones rosa en el grupo siguiente.

