

# Contar Corazones de Dulce (G)

Nombre: \_\_\_\_\_


Fecha: \_\_\_\_\_

Cuente cuántos corazones de dulce hay en cada grupo.

1. Hay \_\_\_\_\_ corazones naranja en el grupo siguiente.




2. Hay \_\_\_\_\_ corazones verdes en el grupo siguiente.



3. Hay \_\_\_\_\_ corazones rosa en el grupo siguiente.



4. Hay \_\_\_\_\_ corazones azules en el grupo siguiente.



# Contar Corazones de Dulce (G) Respuestas

Nombre: \_\_\_\_\_


Fecha: \_\_\_\_\_

Cuente cuántos corazones de dulce hay en cada grupo.

1. Hay 8 corazones naranja en el grupo siguiente.



2. Hay 12 corazones verdes en el grupo siguiente.



3. Hay 23 corazones rosa en el grupo siguiente.



4. Hay 54 corazones azules en el grupo siguiente.

