


Contar Corazones de Dulce (A)

Nombre: _____

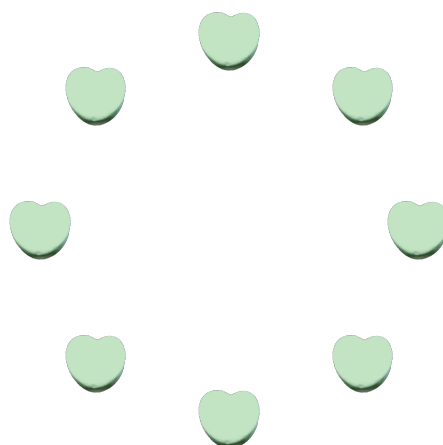
Fecha: _____

Cuente cuántos corazones de dulce hay en cada grupo.

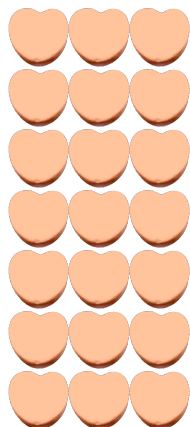
1. Hay _____ corazones azules en el grupo siguiente.



2. Hay _____ corazones verdes en el grupo siguiente.



3. Hay _____ corazones naranja en el grupo siguiente.



4. Hay _____ corazones rosa en el grupo siguiente.




Contar Corazones de Dulce (A) Respuestas

Nombre: _____

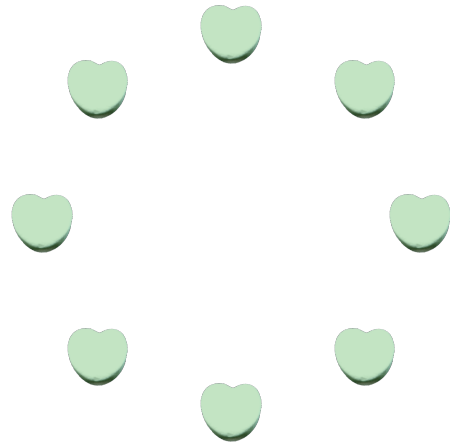
Fecha: _____

Cuente cuántos corazones de dulce hay en cada grupo.

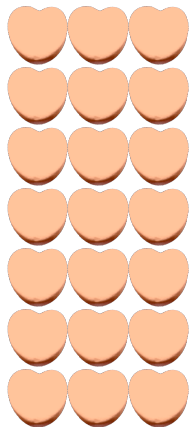
1. Hay 4 corazones azules en el grupo siguiente.



2. Hay 8 corazones verdes en el grupo siguiente.



3. Hay 21 corazones naranja en el grupo siguiente.



4. Hay 46 corazones rosa en el grupo siguiente.




Contar Corazones de Dulce (B)

Nombre: _____


Fecha: _____

Cuente cuántos corazones de dulce hay en cada grupo.

1. Hay _____ corazones azules en el grupo siguiente.




2. Hay _____ corazones verdes en el grupo siguiente.



3. Hay _____ corazones naranja en el grupo siguiente.



4. Hay _____ corazones rosa en el grupo siguiente.




Contar Corazones de Dulce (B) Respuestas

Nombre: _____


Fecha: _____

Cuente cuántos corazones de dulce hay en cada grupo.

1. Hay 48 corazones azules en el grupo siguiente.




2. Hay 6 corazones verdes en el grupo siguiente.



3. Hay 26 corazones naranja en el grupo siguiente.



4. Hay 6 corazones rosa en el grupo siguiente.




Contar Corazones de Dulce (C)

Nombre: _____


Fecha: _____

Cuente cuántos corazones de dulce hay en cada grupo.


1. Hay _____ corazones rosa en el grupo siguiente.



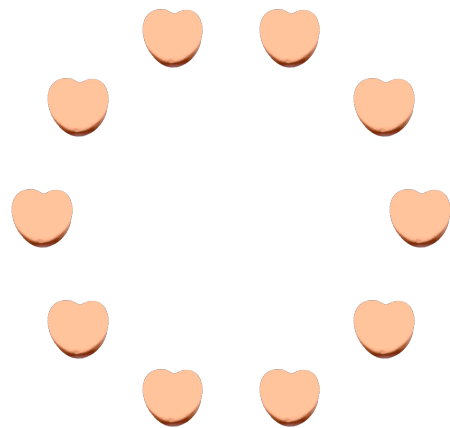
2. Hay _____ corazones verdes en el grupo siguiente.



3. Hay _____ corazones azules en el grupo siguiente.



4. Hay _____ corazones naranja en el grupo siguiente.



Contar Corazones de Dulce (C) Respuestas

Nombre: _____


Fecha: _____

Cuente cuántos corazones de dulce hay en cada grupo.


1. Hay 4 corazones rosa en el grupo siguiente.



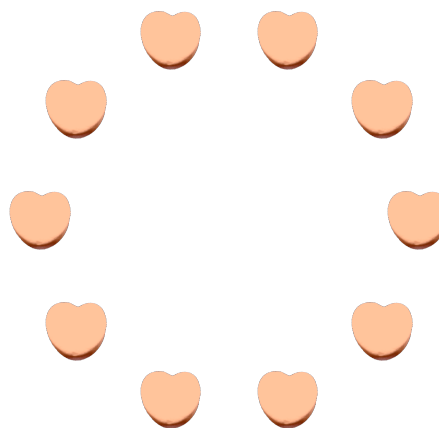
2. Hay 27 corazones verdes en el grupo siguiente.



3. Hay 64 corazones azules en el grupo siguiente.



4. Hay 10 corazones naranja en el grupo siguiente.




Contar Corazones de Dulce (D)

Nombre: _____

Fecha: _____

Cuente cuántos corazones de dulce hay en cada grupo.

1. Hay _____ corazones rosa en el grupo siguiente.




2. Hay _____ corazones azules en el grupo siguiente.



3. Hay _____ corazones verdes en el grupo siguiente.



4. Hay _____ corazones naranja en el grupo siguiente.




Contar Corazones de Dulce (D) Respuestas

Nombre: _____


Fecha: _____

Cuente cuántos corazones de dulce hay en cada grupo.


1. Hay 9 corazones rosa en el grupo siguiente.




2. Hay 48 corazones azules en el grupo siguiente.



3. Hay 5 corazones verdes en el grupo siguiente.



4. Hay 48 corazones naranja en el grupo siguiente.




Contar Corazones de Dulce (E)

Nombre: _____


Fecha: _____

Cuente cuántos corazones de dulce hay en cada grupo.

1. Hay _____ corazones rosa en el grupo siguiente.




2. Hay _____ corazones azules en el grupo siguiente.



3. Hay _____ corazones naranja en el grupo siguiente.



4. Hay _____ corazones verdes en el grupo siguiente.




Contar Corazones de Dulce (E) Respuestas

Nombre: _____


Fecha: _____

Cuente cuántos corazones de dulce hay en cada grupo.

1. Hay 8 corazones rosa en el grupo siguiente.




2. Hay 12 corazones azules en el grupo siguiente.



3. Hay 35 corazones naranja en el grupo siguiente.



4. Hay 28 corazones verdes en el grupo siguiente.




Contar Corazones de Dulce (F)

Nombre: _____


Fecha: _____

Cuente cuántos corazones de dulce hay en cada grupo.

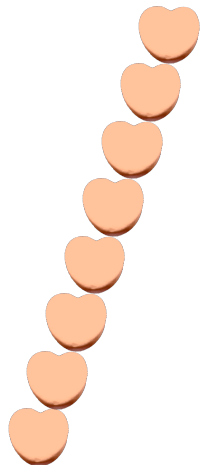
1. Hay _____ corazones verdes en el grupo siguiente.




2. Hay _____ corazones rosa en el grupo siguiente.



3. Hay _____ corazones naranja en el grupo siguiente.



4. Hay _____ corazones azules en el grupo siguiente.




Contar Corazones de Dulce (F) Respuestas

Nombre: _____


Fecha: _____

Cuente cuántos corazones de dulce hay en cada grupo.

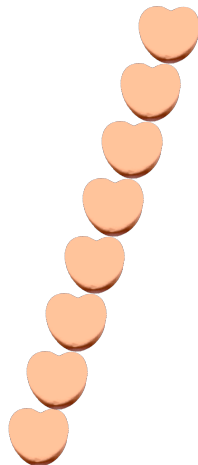
1. Hay 36 corazones verdes en el grupo siguiente.




2. Hay 64 corazones rosa en el grupo siguiente.



3. Hay 8 corazones naranja en el grupo siguiente.



4. Hay 5 corazones azules en el grupo siguiente.



Contar Corazones de Dulce (G)

Nombre: _____


Fecha: _____

Cuente cuántos corazones de dulce hay en cada grupo.

1. Hay _____ corazones naranja en el grupo siguiente.




2. Hay _____ corazones verdes en el grupo siguiente.



3. Hay _____ corazones rosa en el grupo siguiente.



4. Hay _____ corazones azules en el grupo siguiente.



Contar Corazones de Dulce (G) Respuestas

Nombre: _____


Fecha: _____

Cuente cuántos corazones de dulce hay en cada grupo.

1. Hay 8 corazones naranja en el grupo siguiente.




2. Hay 12 corazones verdes en el grupo siguiente.



3. Hay 23 corazones rosa en el grupo siguiente.



4. Hay 54 corazones azules en el grupo siguiente.




Contar Corazones de Dulce (H)

Nombre: _____

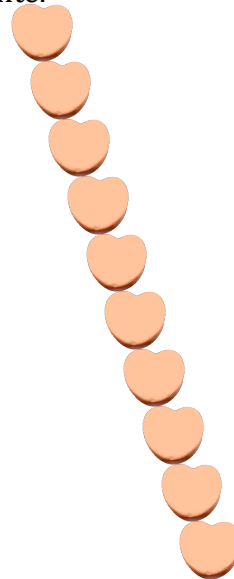
Fecha: _____

Cuente cuántos corazones de dulce hay en cada grupo.


1. Hay _____ corazones verdes en el grupo siguiente.




2. Hay _____ corazones naranja en el grupo siguiente.



3. Hay _____ corazones azules en el grupo siguiente.



4. Hay _____ corazones rosa en el grupo siguiente.



Contar Corazones de Dulce (H) Respuestas

Nombre: _____

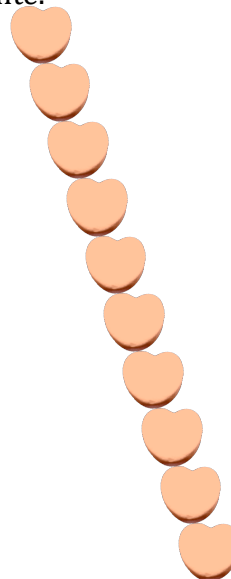
Fecha: _____

Cuente cuántos corazones de dulce hay en cada grupo.


1. Hay 29 corazones verdes en el grupo siguiente.




2. Hay 10 corazones naranja en el grupo siguiente.



3. Hay 15 corazones azules en el grupo siguiente.



4. Hay 10 corazones rosa en el grupo siguiente.



Contar Corazones de Dulce (9)

Nombre: _____

Fecha: _____

Cuente cuántos corazones de dulce hay en cada grupo.


1. Hay _____ corazones azules en el grupo siguiente.




2. Hay _____ corazones verdes en el grupo siguiente.



3. Hay _____ corazones naranja en el grupo siguiente.



4. Hay _____ corazones rosa en el grupo siguiente.



Contar Corazones de Dulce (9) Respuestas

Nombre: _____

Fecha: _____

Cuente cuántos corazones de dulce hay en cada grupo.


1. Hay 3 corazones azules en el grupo siguiente.




2. Hay 18 corazones verdes en el grupo siguiente.



3. Hay 23 corazones naranja en el grupo siguiente.



4. Hay 7 corazones rosa en el grupo siguiente.




Contar Corazones de Dulce (9)

Nombre: _____

Fecha: _____

Cuente cuántos corazones de dulce hay en cada grupo.


1. Hay _____ corazones rosa en el grupo siguiente.



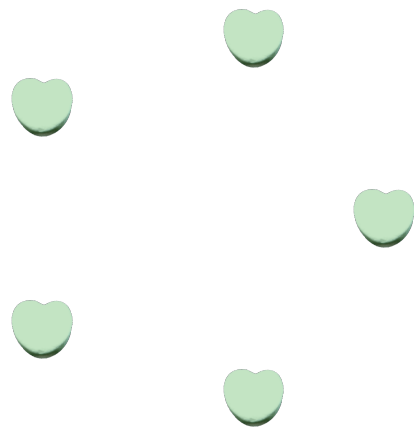
2. Hay _____ corazones naranja en el grupo siguiente.



3. Hay _____ corazones azules en el grupo siguiente.



4. Hay _____ corazones verdes en el grupo siguiente.




Contar Corazones de Dulce (9) Respuestas

Nombre: _____

Fecha: _____

Cuente cuántos corazones de dulce hay en cada grupo.


1. Hay 10 corazones rosa en el grupo siguiente.



2. Hay 31 corazones naranja en el grupo siguiente.



3. Hay 30 corazones azules en el grupo siguiente.



4. Hay 5 corazones verdes en el grupo siguiente.

