

Contar Corazones de Dulce (C)

Nombre: _____

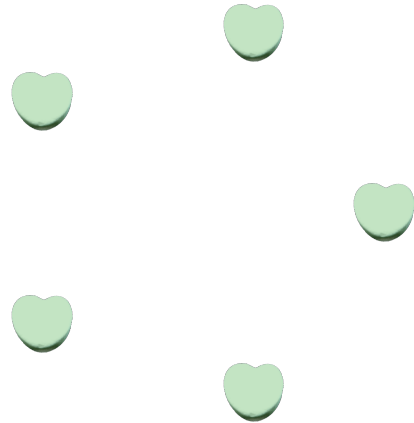
Fecha: _____

Cuente cuántos corazones de dulce hay en cada grupo.


1. Hay _____ corazones rosa en el grupo siguiente.




2. Hay _____ corazones verdes en el grupo siguiente.



3. Hay _____ corazones naranja en el grupo siguiente.



4. Hay _____ corazones azules en el grupo siguiente.



Contar Corazones de Dulce (C) Respuestas

Nombre: _____


Fecha: _____

Cuente cuántos corazones de dulce hay en cada grupo.


1. Hay 8 corazones rosa en el grupo siguiente.



2. Hay 5 corazones verdes en el grupo siguiente.



3. Hay 5 corazones naranja en el grupo siguiente.



4. Hay 4 corazones azules en el grupo siguiente.

