

Contar Corazones de Dulce (A)

Nombre: _____


Fecha: _____

Cuenta cuántos corazones de dulce hay en cada grupo.


1. Hay _____ corazones azules en el grupo siguiente.



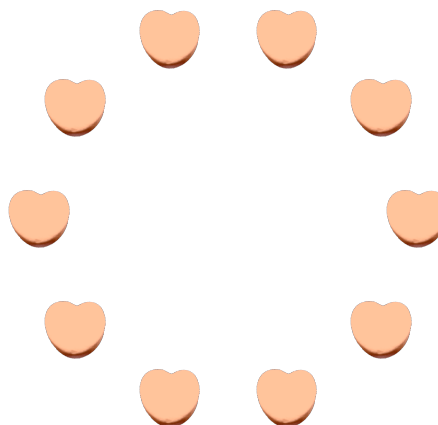
2. Hay _____ corazones verdes en el grupo siguiente.



3. Hay _____ corazones rosa en el grupo siguiente.



4. Hay _____ corazones naranja en el grupo siguiente.



Contar Corazones de Dulce (A) Respuestas

Nombre: _____


Fecha: _____

Cuente cuántos corazones de dulce hay en cada grupo.


1. Hay 3 corazones azules en el grupo siguiente.



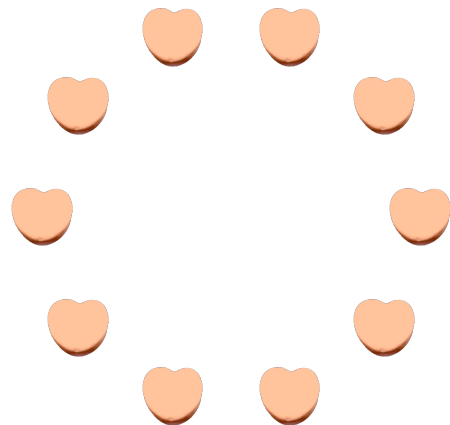
2. Hay 15 corazones verdes en el grupo siguiente.



3. Hay 3 corazones rosa en el grupo siguiente.



4. Hay 10 corazones naranja en el grupo siguiente.



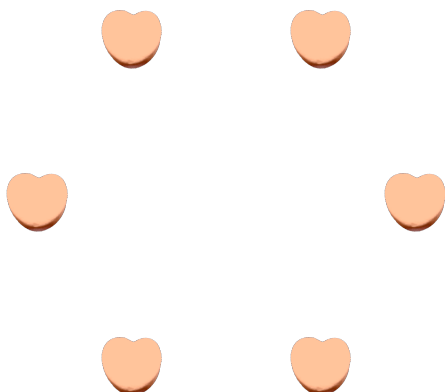
Contar Corazones de Dulce (B)

Nombre: _____


Fecha: _____

Cuente cuántos corazones de dulce hay en cada grupo.


1. Hay _____ corazones naranja en el grupo siguiente.



2. Hay _____ corazones rosa en el grupo siguiente.



3. Hay _____ corazones azules en el grupo siguiente.



4. Hay _____ corazones verdes en el grupo siguiente.



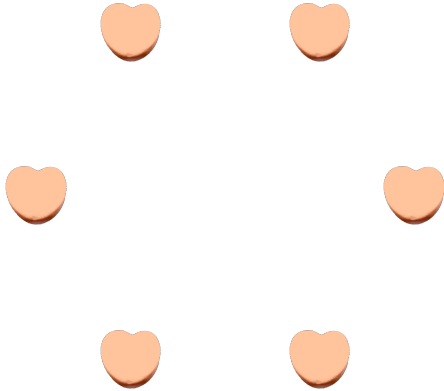
Contar Corazones de Dulce (B) Respuestas

Nombre: _____


Fecha: _____

Cuente cuántos corazones de dulce hay en cada grupo.


1. Hay 6 corazones naranja en el grupo siguiente.



2. Hay 25 corazones rosa en el grupo siguiente.



3. Hay 3 corazones azules en el grupo siguiente.



4. Hay 10 corazones verdes en el grupo siguiente.



Contar Corazones de Dulce (C)

Nombre: _____

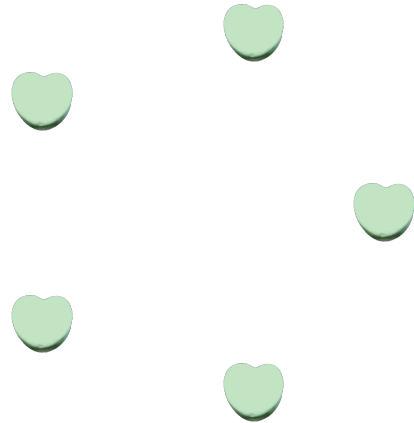
Fecha: _____

Cuente cuántos corazones de dulce hay en cada grupo.


1. Hay _____ corazones rosa en el grupo siguiente.




2. Hay _____ corazones verdes en el grupo siguiente.



3. Hay _____ corazones naranja en el grupo siguiente.



4. Hay _____ corazones azules en el grupo siguiente.



Contar Corazones de Dulce (C) Respuestas

Nombre: _____


Fecha: _____

Cuente cuántos corazones de dulce hay en cada grupo.


1. Hay 8 corazones rosa en el grupo siguiente.



2. Hay 5 corazones verdes en el grupo siguiente.



3. Hay 5 corazones naranja en el grupo siguiente.



4. Hay 4 corazones azules en el grupo siguiente.



Contar Corazones de Dulce (D)

Nombre: _____

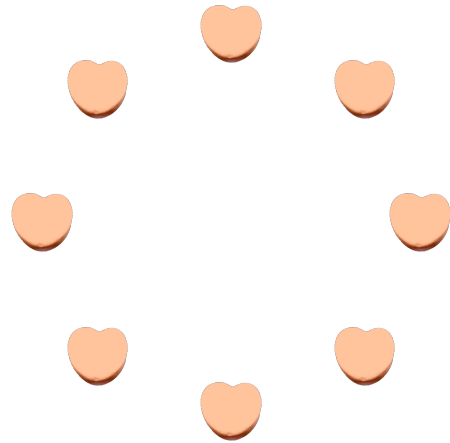
Fecha: _____

Cuente cuántos corazones de dulce hay en cada grupo.


1. Hay _____ corazones azules en el grupo siguiente.




2. Hay _____ corazones naranja en el grupo siguiente.



3. Hay _____ corazones rosa en el grupo siguiente.



4. Hay _____ corazones verdes en el grupo siguiente.



Contar Corazones de Dulce (D) Respuestas

Nombre: _____


Fecha: _____

Cuente cuántos corazones de dulce hay en cada grupo.


1. Hay 6 corazones azules en el grupo siguiente.




2. Hay 8 corazones naranja en el grupo siguiente.



3. Hay 9 corazones rosa en el grupo siguiente.



4. Hay 16 corazones verdes en el grupo siguiente.



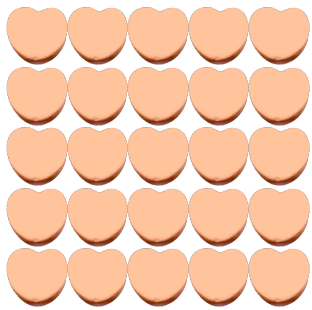
Contar Corazones de Dulce (E)

Nombre: _____


Fecha: _____

Cuente cuántos corazones de dulce hay en cada grupo.


1. Hay _____ corazones naranja en el grupo siguiente.



2. Hay _____ corazones rosa en el grupo siguiente.



3. Hay _____ corazones azules en el grupo siguiente.



4. Hay _____ corazones verdes en el grupo siguiente.



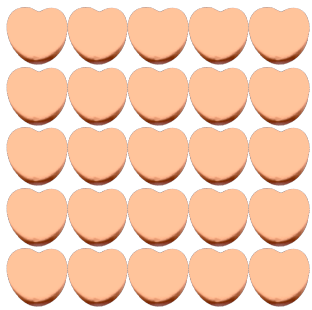
Contar Corazones de Dulce (E) Respuestas

Nombre: _____


Fecha: _____

Cuente cuántos corazones de dulce hay en cada grupo.


1. Hay 25 corazones naranja en el grupo siguiente.



2. Hay 8 corazones rosa en el grupo siguiente.



3. Hay 12 corazones azules en el grupo siguiente.



4. Hay 6 corazones verdes en el grupo siguiente.




Contar Corazones de Dulce (F)

Nombre: _____

Fecha: _____

Cuente cuántos corazones de dulce hay en cada grupo.

1. Hay _____ corazones verdes en el grupo siguiente.




2. Hay _____ corazones naranja en el grupo siguiente.



3. Hay _____ corazones rosa en el grupo siguiente.



4. Hay _____ corazones azules en el grupo siguiente.




Contar Corazones de Dulce (F) Respuestas

Nombre: _____

Fecha: _____

Cuente cuántos corazones de dulce hay en cada grupo.

1. Hay 20 corazones verdes en el grupo siguiente.




2. Hay 13 corazones naranja en el grupo siguiente.



3. Hay 3 corazones rosa en el grupo siguiente.



4. Hay 7 corazones azules en el grupo siguiente.




Contar Corazones de Dulce (G)

Nombre: _____


Fecha: _____

Cuente cuántos corazones de dulce hay en cada grupo.

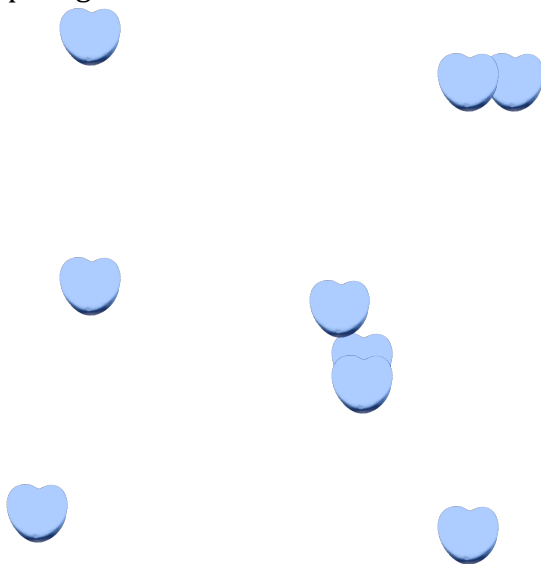
1. Hay _____ corazones naranja en el grupo siguiente.



2. Hay _____ corazones rosa en el grupo siguiente.



3. Hay _____ corazones azules en el grupo siguiente.



4. Hay _____ corazones verdes en el grupo siguiente.




Contar Corazones de Dulce (G) Respuestas

Nombre: _____


Fecha: _____

Cuente cuántos corazones de dulce hay en cada grupo.

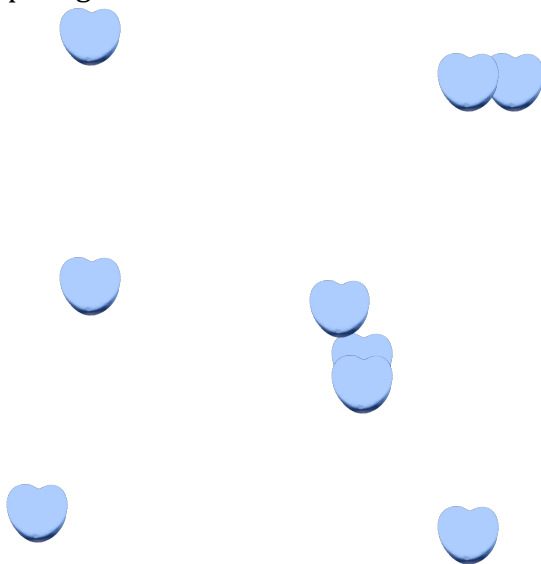
1. Hay 7 corazones naranja en el grupo siguiente.



2. Hay 25 corazones rosa en el grupo siguiente.



3. Hay 9 corazones azules en el grupo siguiente.



4. Hay 7 corazones verdes en el grupo siguiente.



Contar Corazones de Dulce (71)

Nombre: _____

Fecha: _____

Cuente cuántos corazones de dulce hay en cada grupo.

1. Hay _____ corazones verdes en el grupo siguiente.




2. Hay _____ corazones azules en el grupo siguiente.



3. Hay _____ corazones naranja en el grupo siguiente.



4. Hay _____ corazones rosa en el grupo siguiente.



Contar Corazones de Dulce (H) Respuestas

Nombre: _____

Fecha: _____

Cuente cuántos corazones de dulce hay en cada grupo.

1. Hay 8 corazones verdes en el grupo siguiente.




2. Hay 8 corazones azules en el grupo siguiente.



3. Hay 5 corazones naranja en el grupo siguiente.



4. Hay 11 corazones rosa en el grupo siguiente.



Contar Corazones de Dulce (9)

Nombre: _____

Fecha: _____

Cuente cuántos corazones de dulce hay en cada grupo.


1. Hay _____ corazones verdes en el grupo siguiente.




2. Hay _____ corazones azules en el grupo siguiente.



3. Hay _____ corazones naranja en el grupo siguiente.



4. Hay _____ corazones rosa en el grupo siguiente.



Contar Corazones de Dulce (9) Respuestas

Nombre: _____

Fecha: _____

Cuente cuántos corazones de dulce hay en cada grupo.


1. Hay 10 corazones verdes en el grupo siguiente.




2. Hay 10 corazones azules en el grupo siguiente.



3. Hay 6 corazones naranja en el grupo siguiente.



4. Hay 14 corazones rosa en el grupo siguiente.



Contar Corazones de Dulce (9)

Nombre: _____

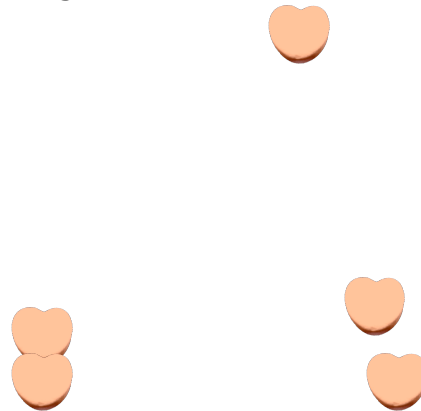
Fecha: _____

Cuente cuántos corazones de dulce hay en cada grupo.


1. Hay _____ corazones azules en el grupo siguiente.



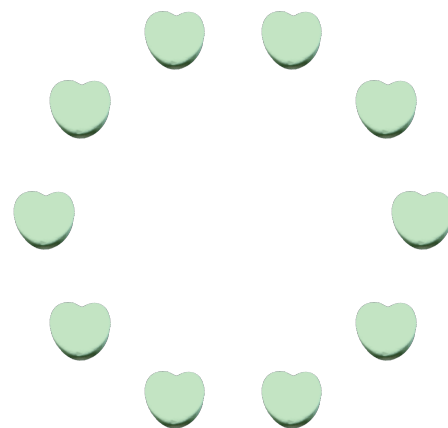
2. Hay _____ corazones naranja en el grupo siguiente.



3. Hay _____ corazones rosa en el grupo siguiente.



4. Hay _____ corazones verdes en el grupo siguiente.



Contar Corazones de Dulce (9) Respuestas

Nombre: _____

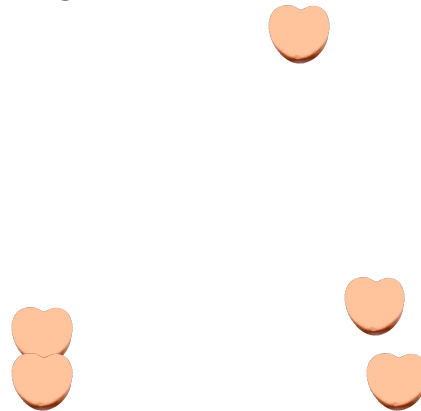
Fecha: _____

Cuente cuántos corazones de dulce hay en cada grupo.


1. Hay 3 corazones azules en el grupo siguiente.



2. Hay 5 corazones naranja en el grupo siguiente.



3. Hay 20 corazones rosa en el grupo siguiente.



4. Hay 10 corazones verdes en el grupo siguiente.

