


## Contar Corazones de Dulce (C)

Nombre: \_\_\_\_\_


Fecha: \_\_\_\_\_

Cuente cuántos corazones de dulce hay en cada grupo.

1. Hay \_\_\_\_\_ corazones azules en el grupo siguiente.



2. Hay \_\_\_\_\_ corazones rosa en el grupo siguiente.



3. Hay \_\_\_\_\_ corazones verdes en el grupo siguiente.



4. Hay \_\_\_\_\_ corazones naranja en el grupo siguiente.




## Contar Corazones de Dulce (C) Respuestas

Nombre: \_\_\_\_\_


Fecha: \_\_\_\_\_

Cuente cuántos corazones de dulce hay en cada grupo.

1. Hay 4 corazones azules en el grupo siguiente.



2. Hay 6 corazones rosa en el grupo siguiente.



3. Hay 8 corazones verdes en el grupo siguiente.



4. Hay 10 corazones naranja en el grupo siguiente.

