


## Contar Corazones de Dulce (D)

Nombre: \_\_\_\_\_

Fecha: \_\_\_\_\_

Cuente cuántos corazones de dulce hay en cada grupo.

1. Hay \_\_\_\_\_ corazones rosa en el grupo siguiente.




2. Hay \_\_\_\_\_ corazones verdes en el grupo siguiente.



3. Hay \_\_\_\_\_ corazones naranja en el grupo siguiente.



4. Hay \_\_\_\_\_ corazones azules en el grupo siguiente.




## Contar Corazones de Dulce (D) Respuestas

Nombre: \_\_\_\_\_

Fecha: \_\_\_\_\_

Cuente cuántos corazones de dulce hay en cada grupo.

1. Hay 9 corazones rosa en el grupo siguiente.



2. Hay 3 corazones verdes en el grupo siguiente.



3. Hay 10 corazones naranja en el grupo siguiente.



4. Hay 5 corazones azules en el grupo siguiente.

