

Contar Corazones de Dulce (E)

Nombre: _____


Fecha: _____

Cuente cuántos corazones de dulce hay en cada grupo.

1. Hay _____ corazones naranja en el grupo siguiente.




2. Hay _____ corazones verdes en el grupo siguiente.



3. Hay _____ corazones azules en el grupo siguiente.



4. Hay _____ corazones rosa en el grupo siguiente.



Contar Corazones de Dulce (E) Respuestas

Nombre: _____


Fecha: _____

Cuente cuántos corazones de dulce hay en cada grupo.

1. Hay 10 corazones naranja en el grupo siguiente.



2. Hay 8 corazones verdes en el grupo siguiente.



3. Hay 3 corazones azules en el grupo siguiente.



4. Hay 7 corazones rosa en el grupo siguiente.

