


Contar Corazones de Dulce (D)

Nombre: _____


Fecha: _____

Cuente cuántos corazones de dulce hay en cada grupo.


1. Hay _____ corazones azules en el grupo siguiente.



2. Hay _____ corazones verdes en el grupo siguiente.



3. Hay _____ corazones rosa en el grupo siguiente.



4. Hay _____ corazones naranja en el grupo siguiente.




Contar Corazones de Dulce (D) Respuestas

Nombre: _____


Fecha: _____

Cuente cuántos corazones de dulce hay en cada grupo.


1. Hay 25 corazones azules en el grupo siguiente.



2. Hay 9 corazones verdes en el grupo siguiente.



3. Hay 16 corazones rosa en el grupo siguiente.



4. Hay 4 corazones naranja en el grupo siguiente.

