


## Contar Corazones de Dulce (G)

Nombre: \_\_\_\_\_


Fecha: \_\_\_\_\_

Cuente cuántos corazones de dulce hay en cada grupo.

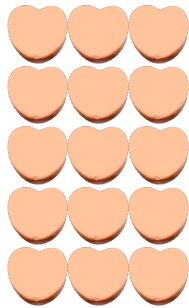
1. Hay \_\_\_\_\_ corazones verdes en el grupo siguiente.



2. Hay \_\_\_\_\_ corazones azules en el grupo siguiente.



3. Hay \_\_\_\_\_ corazones naranja en el grupo siguiente.



4. Hay \_\_\_\_\_ corazones rosa en el grupo siguiente.




## Contar Corazones de Dulce (G) Respuestas

Nombre: \_\_\_\_\_


Fecha: \_\_\_\_\_

Cuente cuántos corazones de dulce hay en cada grupo.

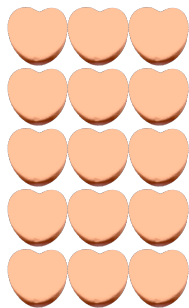
1. Hay 16 corazones verdes en el grupo siguiente.



2. Hay 10 corazones azules en el grupo siguiente.



3. Hay 15 corazones naranja en el grupo siguiente.



4. Hay 6 corazones rosa en el grupo siguiente.

