


# Contar Corazones de Dulce (A)

Nombre: \_\_\_\_\_

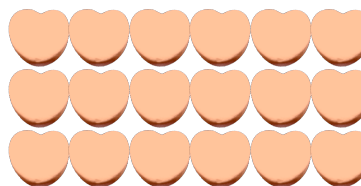
Fecha: \_\_\_\_\_

Cuente cuántos corazones de dulce hay en cada grupo.


1. Hay \_\_\_\_\_ corazones verdes en el grupo siguiente.



2. Hay \_\_\_\_\_ corazones naranja en el grupo siguiente.



3. Hay \_\_\_\_\_ corazones azules en el grupo siguiente.



4. Hay \_\_\_\_\_ corazones rosa en el grupo siguiente.




# Contar Corazones de Dulce (A) Respuestas

Nombre: \_\_\_\_\_

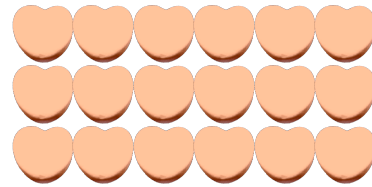
Fecha: \_\_\_\_\_

Cuente cuántos corazones de dulce hay en cada grupo.


1. Hay 49 corazones verdes en el grupo siguiente.



2. Hay 18 corazones naranja en el grupo siguiente.



3. Hay 72 corazones azules en el grupo siguiente.



4. Hay 4 corazones rosa en el grupo siguiente.




## Contar Corazones de Dulce (B)

Nombre: \_\_\_\_\_


Fecha: \_\_\_\_\_

Cuente cuántos corazones de dulce hay en cada grupo.

1. Hay \_\_\_\_\_ corazones azules en el grupo siguiente.



2. Hay \_\_\_\_\_ corazones naranja en el grupo siguiente.



3. Hay \_\_\_\_\_ corazones verdes en el grupo siguiente.



4. Hay \_\_\_\_\_ corazones rosa en el grupo siguiente.




## Contar Corazones de Dulce (B) Respuestas

Nombre: \_\_\_\_\_


Fecha: \_\_\_\_\_

Cuente cuántos corazones de dulce hay en cada grupo.

1. Hay 20 corazones azules en el grupo siguiente.




2. Hay 30 corazones naranja en el grupo siguiente.



3. Hay 8 corazones verdes en el grupo siguiente.



4. Hay 21 corazones rosa en el grupo siguiente.




## Contar Corazones de Dulce (C)

Nombre: \_\_\_\_\_


Fecha: \_\_\_\_\_

Cuente cuántos corazones de dulce hay en cada grupo.


1. Hay \_\_\_\_\_ corazones rosa en el grupo siguiente.



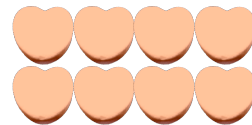
2. Hay \_\_\_\_\_ corazones verdes en el grupo siguiente.



3. Hay \_\_\_\_\_ corazones azules en el grupo siguiente.



4. Hay \_\_\_\_\_ corazones naranja en el grupo siguiente.




## Contar Corazones de Dulce (C) Respuestas

Nombre: \_\_\_\_\_


Fecha: \_\_\_\_\_

Cuente cuántos corazones de dulce hay en cada grupo.


1. Hay 24 corazones rosa en el grupo siguiente.



2. Hay 21 corazones verdes en el grupo siguiente.



3. Hay 63 corazones azules en el grupo siguiente.



4. Hay 8 corazones naranja en el grupo siguiente.




## Contar Corazones de Dulce (D)

Nombre: \_\_\_\_\_

Fecha: \_\_\_\_\_

Cuente cuántos corazones de dulce hay en cada grupo.


1. Hay \_\_\_\_\_ corazones verdes en el grupo siguiente.



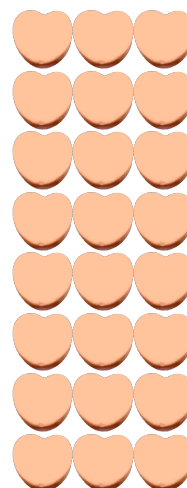
2. Hay \_\_\_\_\_ corazones azules en el grupo siguiente.



3. Hay \_\_\_\_\_ corazones rosa en el grupo siguiente.



4. Hay \_\_\_\_\_ corazones naranja en el grupo siguiente.




## Contar Corazones de Dulce (D) Respuestas

Nombre: \_\_\_\_\_


Fecha: \_\_\_\_\_

Cuente cuántos corazones de dulce hay en cada grupo.


1. Hay 24 corazones verdes en el grupo siguiente.



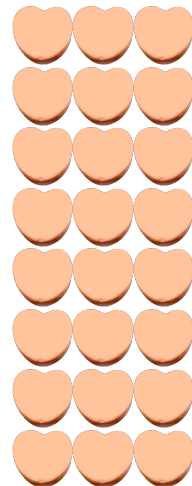
2. Hay 14 corazones azules en el grupo siguiente.



3. Hay 12 corazones rosa en el grupo siguiente.



4. Hay 24 corazones naranja en el grupo siguiente.





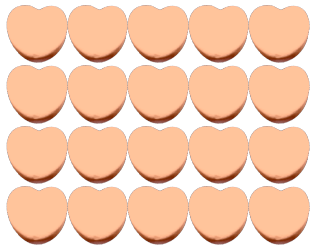
## Contar Corazones de Dulce (E)

Nombre: \_\_\_\_\_


Fecha: \_\_\_\_\_

Cuente cuántos corazones de dulce hay en cada grupo.

1. Hay \_\_\_\_\_ corazones naranja en el grupo siguiente.




2. Hay \_\_\_\_\_ corazones rosa en el grupo siguiente.



3. Hay \_\_\_\_\_ corazones verdes en el grupo siguiente.



4. Hay \_\_\_\_\_ corazones azules en el grupo siguiente.



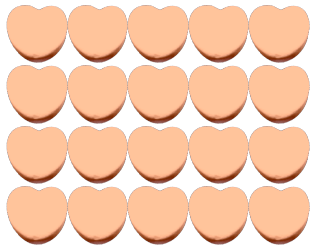
# Contar Corazones de Dulce (E) Respuestas

Nombre: \_\_\_\_\_


Fecha: \_\_\_\_\_

Cuente cuántos corazones de dulce hay en cada grupo.

1. Hay 20 corazones naranja en el grupo siguiente.



2. Hay 42 corazones rosa en el grupo siguiente.



3. Hay 10 corazones verdes en el grupo siguiente.



4. Hay 18 corazones azules en el grupo siguiente.




## Contar Corazones de Dulce (F)

Nombre: \_\_\_\_\_


Fecha: \_\_\_\_\_

Cuente cuántos corazones de dulce hay en cada grupo.


1. Hay \_\_\_\_\_ corazones verdes en el grupo siguiente.




2. Hay \_\_\_\_\_ corazones naranja en el grupo siguiente.



3. Hay \_\_\_\_\_ corazones rosa en el grupo siguiente.



4. Hay \_\_\_\_\_ corazones azules en el grupo siguiente.




# Contar Corazones de Dulce (F) Respuestas

Nombre: \_\_\_\_\_


Fecha: \_\_\_\_\_

Cuente cuántos corazones de dulce hay en cada grupo.


1. Hay 81 corazones verdes en el grupo siguiente.




2. Hay 18 corazones naranja en el grupo siguiente.



3. Hay 56 corazones rosa en el grupo siguiente.



4. Hay 18 corazones azules en el grupo siguiente.




# Contar Corazones de Dulce (G)

Nombre: \_\_\_\_\_


Fecha: \_\_\_\_\_

Cuente cuántos corazones de dulce hay en cada grupo.


1. Hay \_\_\_\_\_ corazones verdes en el grupo siguiente.



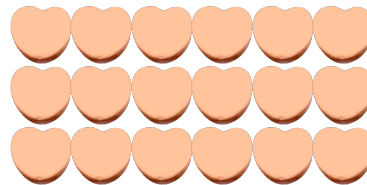
2. Hay \_\_\_\_\_ corazones rosa en el grupo siguiente.



3. Hay \_\_\_\_\_ corazones azules en el grupo siguiente.



4. Hay \_\_\_\_\_ corazones naranja en el grupo siguiente.




# Contar Corazones de Dulce (G) Respuestas

Nombre: \_\_\_\_\_


Fecha: \_\_\_\_\_

Cuente cuántos corazones de dulce hay en cada grupo.


1. Hay 81 corazones verdes en el grupo siguiente.



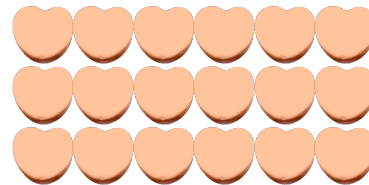
2. Hay 32 corazones rosa en el grupo siguiente.



3. Hay 35 corazones azules en el grupo siguiente.



4. Hay 18 corazones naranja en el grupo siguiente.



## Contar Corazones de Dulce (71)

Nombre: \_\_\_\_\_


Fecha: \_\_\_\_\_

Cuente cuántos corazones de dulce hay en cada grupo.


1. Hay \_\_\_\_\_ corazones rosa en el grupo siguiente.



2. Hay \_\_\_\_\_ corazones naranja en el grupo siguiente.



3. Hay \_\_\_\_\_ corazones verdes en el grupo siguiente.



4. Hay \_\_\_\_\_ corazones azules en el grupo siguiente.



## Contar Corazones de Dulce (7) Respuestas

Nombre: \_\_\_\_\_


Fecha: \_\_\_\_\_

Cuente cuántos corazones de dulce hay en cada grupo.


1. Hay 8 corazones rosa en el grupo siguiente.



2. Hay 42 corazones naranja en el grupo siguiente.



3. Hay 24 corazones verdes en el grupo siguiente.



4. Hay 6 corazones azules en el grupo siguiente.






## Contar Corazones de Dulce (9)

Nombre: \_\_\_\_\_

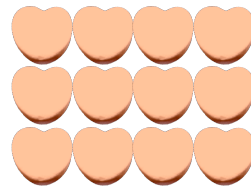
Fecha: \_\_\_\_\_

Cuente cuántos corazones de dulce hay en cada grupo.

1. Hay \_\_\_\_\_ corazones azules en el grupo siguiente.




2. Hay \_\_\_\_\_ corazones naranja en el grupo siguiente.



3. Hay \_\_\_\_\_ corazones verdes en el grupo siguiente.



4. Hay \_\_\_\_\_ corazones rosa en el grupo siguiente.




## Contar Corazones de Dulce (9) Respuestas

Nombre: \_\_\_\_\_

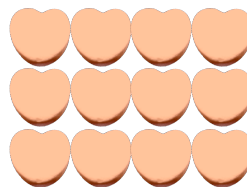
Fecha: \_\_\_\_\_

Cuente cuántos corazones de dulce hay en cada grupo.

1. Hay 10 corazones azules en el grupo siguiente.




2. Hay 12 corazones naranja en el grupo siguiente.



3. Hay 10 corazones verdes en el grupo siguiente.



4. Hay 54 corazones rosa en el grupo siguiente.



## Contar Corazones de Dulce (9)

Nombre: \_\_\_\_\_


Fecha: \_\_\_\_\_

Cuente cuántos corazones de dulce hay en cada grupo.


1. Hay \_\_\_\_\_ corazones verdes en el grupo siguiente.




2. Hay \_\_\_\_\_ corazones azules en el grupo siguiente.



3. Hay \_\_\_\_\_ corazones rosa en el grupo siguiente.



4. Hay \_\_\_\_\_ corazones naranja en el grupo siguiente.



# Contar Corazones de Dulce (9) Respuestas

Nombre: \_\_\_\_\_


Fecha: \_\_\_\_\_

Cuente cuántos corazones de dulce hay en cada grupo.


1. Hay 18 corazones verdes en el grupo siguiente.



2. Hay 49 corazones azules en el grupo siguiente.



3. Hay 20 corazones rosa en el grupo siguiente.



4. Hay 20 corazones naranja en el grupo siguiente.

