


Par o Impar (H)


Nombre: _____

Fecha: _____

Cuente el número de círculos y decida si es una cantidad par o impar.

Ej.  10 **Par** Impar

1.  _____ Par Impar

2.  _____ Par Impar

3.  _____ Par Impar

4.  _____ Par Impar

5.  _____ Par Impar

6.  _____ Par Impar

7.  _____ Par Impar

8.  _____ Par Impar

9.  _____ Par Impar


10.  _____ Par Impar

Par o Impar (H) Respuestas

Nombre: _____

Fecha: _____


Cuente el número de círculos y decida si es una cantidad par o impar.

Ej.  10 Par ~~Impar~~

1.  6 Par ~~Impar~~

2.  3 Par ~~Impar~~

3.  5 Par ~~Impar~~


4.  4 Par ~~Impar~~

5.  2 Par ~~Impar~~

6.  7 Par ~~Impar~~

7.  8 Par ~~Impar~~

8.  1 Par ~~Impar~~

9.  10 Par ~~Impar~~

10.  9 Par ~~Impar~~