



# Contar Animales (A)

Cuente la cantidad en cada conjunto de animales.


1. Hay \_\_\_\_ animales en el conjunto siguiente.




2. Hay \_\_\_\_ animales en el conjunto siguiente.



3. Hay \_\_\_\_ animales en el conjunto siguiente.



4. Hay \_\_\_\_ animales en el conjunto siguiente.



5. Hay \_\_\_\_ animales en el conjunto siguiente.




6. Hay \_\_\_\_ animales en el conjunto siguiente.




# Contar Animales (A) Respuestas

Cuente la cantidad en cada conjunto de animales.


1. Hay 10 animales en el conjunto siguiente.




2. Hay 5 animales en el conjunto siguiente.



3. Hay 6 animales en el conjunto siguiente.



4. Hay 15 animales en el conjunto siguiente.



5. Hay 11 animales en el conjunto siguiente.



6. Hay 13 animales en el conjunto siguiente.

