



# Contar Animales (E)

Cuente la cantidad en cada conjunto de animales.


1. Hay \_\_\_\_ animales en el conjunto siguiente.




2. Hay \_\_\_\_ animales en el conjunto siguiente.




3. Hay \_\_\_\_ animales en el conjunto siguiente.




4. Hay \_\_\_\_ animales en el conjunto siguiente.



5. Hay \_\_\_\_ animales en el conjunto siguiente.




6. Hay \_\_\_\_ animales en el conjunto siguiente.




# Contar animales (E) Respuestas

Cuente la cantidad en cada conjunto de animales.


1. Hay 10 animales en el conjunto siguiente.




2. Hay 15 animales en el conjunto siguiente.




3. Hay 12 animales en el conjunto siguiente.



4. Hay 13 animales en el conjunto siguiente.



5. Hay 6 animales en el conjunto siguiente.



6. Hay 9 animales en el conjunto siguiente.

