

Contar Animales (i)

Cuente la cantidad en cada conjunto de animales.


1. Hay ____ animales en el conjunto siguiente.




2. Hay ____ animales en el conjunto siguiente.




3. Hay ____ animales en el conjunto siguiente.




4. Hay ____ animales en el conjunto siguiente.



5. Hay ____ animales en el conjunto siguiente.



6. Hay ____ animales en el conjunto siguiente.



Contar Animales (I) Respuestas

Cuente la cantidad en cada conjunto de animales.


1. Hay 7 animales en el conjunto siguiente.




2. Hay 5 animales en el conjunto siguiente.




3. Hay 8 animales en el conjunto siguiente.



4. Hay 12 animales en el conjunto siguiente.



5. Hay 14 animales en el conjunto siguiente.



6. Hay 11 animales en el conjunto siguiente.

