


# Contar Animales (A)

Cuente la cantidad en cada conjunto de animales.


1. Hay \_\_\_\_ animales en el conjunto siguiente.




2. Hay \_\_\_\_ animales en el conjunto siguiente.




3. Hay \_\_\_\_ animales en el conjunto siguiente.




4. Hay \_\_\_\_ animales en el conjunto siguiente.



5. Hay \_\_\_\_ animales en el conjunto siguiente.




6. Hay \_\_\_\_ animales en el conjunto siguiente.



# Contar Animales (A) Respuestas

Cuente la cantidad en cada conjunto de animales.


1. Hay 13 animales en el conjunto siguiente.




2. Hay 5 animales en el conjunto siguiente.




3. Hay 6 animales en el conjunto siguiente.



4. Hay 9 animales en el conjunto siguiente.



5. Hay 17 animales en el conjunto siguiente.



6. Hay 5 animales en el conjunto siguiente.

