


# Contar Animales (C)

Cuente la cantidad en cada conjunto de animales.


1. Hay \_\_\_\_ animales en el conjunto siguiente.



2. Hay \_\_\_\_ animales en el conjunto siguiente.




3. Hay \_\_\_\_ animales en el conjunto siguiente.




4. Hay \_\_\_\_ animales en el conjunto siguiente.



5. Hay \_\_\_\_ animales en el conjunto siguiente.




6. Hay \_\_\_\_ animales en el conjunto siguiente.



# Contar Animales (C) Respuestas

Cuente la cantidad en cada conjunto de animales.


1. Hay 20 animales en el conjunto siguiente.



2. Hay 13 animales en el conjunto siguiente.




3. Hay 4 animales en el conjunto siguiente.



4. Hay 6 animales en el conjunto siguiente.



5. Hay 5 animales en el conjunto siguiente.



6. Hay 13 animales en el conjunto siguiente.

