



Contar Animales (B)

Cuente la cantidad en cada conjunto de animales.


1. Hay _____ animales en el conjunto siguiente.




2. Hay _____ animales en el conjunto siguiente.




3. Hay _____ animales en el conjunto siguiente.




4. Hay _____ animales en el conjunto siguiente.



5. Hay _____ animales en el conjunto siguiente.




6. Hay _____ animales en el conjunto siguiente.




Contar animales (B) Respuestas

Cuente la cantidad en cada conjunto de animales.


1. Hay 6 animales en el conjunto siguiente.




2. Hay 15 animales en el conjunto siguiente.




3. Hay 15 animales en el conjunto siguiente.



4. Hay 20 animales en el conjunto siguiente.



5. Hay 18 animales en el conjunto siguiente.



6. Hay 10 animales en el conjunto siguiente.

