



Contar Animales (E)

Cuente la cantidad en cada conjunto de animales.


1. Hay _____ animales en el conjunto siguiente.




2. Hay _____ animales en el conjunto siguiente.




3. Hay _____ animales en el conjunto siguiente.




4. Hay _____ animales en el conjunto siguiente.



5. Hay _____ animales en el conjunto siguiente.




6. Hay _____ animales en el conjunto siguiente.




Contar animales (E) Respuestas

Cuente la cantidad en cada conjunto de animales.


1. Hay 12 animales en el conjunto siguiente.




2. Hay 12 animales en el conjunto siguiente.




3. Hay 13 animales en el conjunto siguiente.



4. Hay 14 animales en el conjunto siguiente.



5. Hay 16 animales en el conjunto siguiente.



6. Hay 12 animales en el conjunto siguiente.

