



Contar Animales (A)

Cuente la cantidad en cada conjunto de animales.


1. Hay _____ animales en el conjunto siguiente.



2. Hay _____ animales en el conjunto siguiente.



3. Hay _____ animales en el conjunto siguiente.




4. Hay _____ animales en el conjunto siguiente.



5. Hay _____ animales en el conjunto siguiente.




6. Hay _____ animales en el conjunto siguiente.




Contar Animales (A) Respuestas

Cuente la cantidad en cada conjunto de animales.


1. Hay 12 animales en el conjunto siguiente.



2. Hay 5 animales en el conjunto siguiente.



3. Hay 12 animales en el conjunto siguiente.



4. Hay 3 animales en el conjunto siguiente.



5. Hay 14 animales en el conjunto siguiente.



6. Hay 11 animales en el conjunto siguiente.

