



Contar Animales (B)

Cuente la cantidad en cada conjunto de animales.

1. Hay _____ animales en el conjunto siguiente.




2. Hay _____ animales en el conjunto siguiente.




3. Hay _____ animales en el conjunto siguiente.




4. Hay _____ animales en el conjunto siguiente.



5. Hay _____ animales en el conjunto siguiente.



6. Hay _____ animales en el conjunto siguiente.




Contar Animales (B) Respuestas

Cuente la cantidad en cada conjunto de animales.

1. Hay 6 animales en el conjunto siguiente.




2. Hay 5 animales en el conjunto siguiente.




3. Hay 14 animales en el conjunto siguiente.



4. Hay 20 animales en el conjunto siguiente.



5. Hay 6 animales en el conjunto siguiente.



6. Hay 14 animales en el conjunto siguiente.

