



# Contar Animales (E)

Cuente la cantidad en cada conjunto de animales.

1. Hay \_\_\_\_\_ animales en el conjunto siguiente.




2. Hay \_\_\_\_\_ animales en el conjunto siguiente.



3. Hay \_\_\_\_\_ animales en el conjunto siguiente.




4. Hay \_\_\_\_\_ animales en el conjunto siguiente.



5. Hay \_\_\_\_\_ animales en el conjunto siguiente.




6. Hay \_\_\_\_\_ animales en el conjunto siguiente.




# Contar animales (E) Respuestas

Cuente la cantidad en cada conjunto de animales.

1. Hay 7 animales en el conjunto siguiente.




2. Hay 14 animales en el conjunto siguiente.



3. Hay 6 animales en el conjunto siguiente.



4. Hay 15 animales en el conjunto siguiente.



5. Hay 13 animales en el conjunto siguiente.



6. Hay 35 animales en el conjunto siguiente.

