



Contar Animales (A)

Cuente la cantidad en cada conjunto de animales.


1. Hay ____ animales en el conjunto siguiente.



2. Hay ____ animales en el conjunto siguiente.



3. Hay ____ animales en el conjunto siguiente.




4. Hay ____ animales en el conjunto siguiente.



5. Hay ____ animales en el conjunto siguiente.




6. Hay ____ animales en el conjunto siguiente.




Contar Animales (A) Respuestas

Cuente la cantidad en cada conjunto de animales.


1. Hay 12 animales en el conjunto siguiente.



2. Hay 5 animales en el conjunto siguiente.



3. Hay 12 animales en el conjunto siguiente.




4. Hay 3 animales en el conjunto siguiente.



5. Hay 14 animales en el conjunto siguiente.




6. Hay 11 animales en el conjunto siguiente.




Contar Animales (B)

Cuente la cantidad en cada conjunto de animales.

1. Hay _____ animales en el conjunto siguiente.




2. Hay _____ animales en el conjunto siguiente.




3. Hay _____ animales en el conjunto siguiente.




4. Hay _____ animales en el conjunto siguiente.



5. Hay _____ animales en el conjunto siguiente.



6. Hay _____ animales en el conjunto siguiente.




Contar Animales (B) Respuestas

Cuente la cantidad en cada conjunto de animales.

1. Hay 6 animales en el conjunto siguiente.




2. Hay 5 animales en el conjunto siguiente.




3. Hay 14 animales en el conjunto siguiente.




4. Hay 20 animales en el conjunto siguiente.



5. Hay 6 animales en el conjunto siguiente.




6. Hay 14 animales en el conjunto siguiente.



Contar Animales (C)

Cuente la cantidad en cada conjunto de animales.


1. Hay ____ animales en el conjunto siguiente.



2. Hay ____ animales en el conjunto siguiente.



3. Hay ____ animales en el conjunto siguiente.




4. Hay ____ animales en el conjunto siguiente.



5. Hay ____ animales en el conjunto siguiente.




6. Hay ____ animales en el conjunto siguiente.



Contar Animales (C) Respuestas

Cuente la cantidad en cada conjunto de animales.


1. Hay 8 animales en el conjunto siguiente.



2. Hay 21 animales en el conjunto siguiente.



3. Hay 13 animales en el conjunto siguiente.




4. Hay 5 animales en el conjunto siguiente.



5. Hay 10 animales en el conjunto siguiente.




6. Hay 8 animales en el conjunto siguiente.



Contar Animales (B)

Cuente la cantidad en cada conjunto de animales.

1. Hay _____ animales en el conjunto siguiente.




2. Hay _____ animales en el conjunto siguiente.




3. Hay _____ animales en el conjunto siguiente.



4. Hay _____ animales en el conjunto siguiente.



5. Hay _____ animales en el conjunto siguiente.




6. Hay _____ animales en el conjunto siguiente.



Contar animales (B) Respuestas

Cuente la cantidad en cada conjunto de animales.

1. Hay 12 animales en el conjunto siguiente.




2. Hay 5 animales en el conjunto siguiente.




3. Hay 5 animales en el conjunto siguiente.



4. Hay 42 animales en el conjunto siguiente.



5. Hay 12 animales en el conjunto siguiente.




6. Hay 2 animales en el conjunto siguiente.




Contar Animales (E)

Cuente la cantidad en cada conjunto de animales.

1. Hay ____ animales en el conjunto siguiente.




2. Hay ____ animales en el conjunto siguiente.



3. Hay ____ animales en el conjunto siguiente.




4. Hay ____ animales en el conjunto siguiente.



5. Hay ____ animales en el conjunto siguiente.




6. Hay ____ animales en el conjunto siguiente.




Contar animales (E) Respuestas

Cuente la cantidad en cada conjunto de animales.

1. Hay 7 animales en el conjunto siguiente.




2. Hay 14 animales en el conjunto siguiente.



3. Hay 6 animales en el conjunto siguiente.




4. Hay 15 animales en el conjunto siguiente.



5. Hay 13 animales en el conjunto siguiente.




6. Hay 35 animales en el conjunto siguiente.



Contar Animales (F)

Cuente la cantidad en cada conjunto de animales.


1. Hay ____ animales en el conjunto siguiente.



2. Hay ____ animales en el conjunto siguiente.




3. Hay ____ animales en el conjunto siguiente.




4. Hay ____ animales en el conjunto siguiente.



5. Hay ____ animales en el conjunto siguiente.




6. Hay ____ animales en el conjunto siguiente.



Contar animales (F) Respuestas

Cuente la cantidad en cada conjunto de animales.


1. Hay 14 animales en el conjunto siguiente.



2. Hay 3 animales en el conjunto siguiente.




3. Hay 19 animales en el conjunto siguiente.




4. Hay 12 animales en el conjunto siguiente.



5. Hay 7 animales en el conjunto siguiente.




6. Hay 10 animales en el conjunto siguiente.




Contar Animales (G)

Cuente la cantidad en cada conjunto de animales.

1. Hay ____ animales en el conjunto siguiente.



2. Hay ____ animales en el conjunto siguiente.



3. Hay ____ animales en el conjunto siguiente.



4. Hay ____ animales en el conjunto siguiente.



5. Hay ____ animales en el conjunto siguiente.




6. Hay ____ animales en el conjunto siguiente.




Contar Animales (G) Respuestas

Cuente la cantidad en cada conjunto de animales.

1. Hay 20 animales en el conjunto siguiente.



2. Hay 15 animales en el conjunto siguiente.




3. Hay 9 animales en el conjunto siguiente.



4. Hay 5 animales en el conjunto siguiente.



5. Hay 13 animales en el conjunto siguiente.




6. Hay 4 animales en el conjunto siguiente.



Contar Animales (H)

Cuente la cantidad en cada conjunto de animales.

1. Hay ____ animales en el conjunto siguiente.



2. Hay ____ animales en el conjunto siguiente.



3. Hay ____ animales en el conjunto siguiente.



4. Hay ____ animales en el conjunto siguiente.



5. Hay ____ animales en el conjunto siguiente.




6. Hay ____ animales en el conjunto siguiente.



Contar Animales (H) Respuestas

Cuenta la cantidad en cada conjunto de animales.

1. Hay 8 animales en el conjunto siguiente.



2. Hay 9 animales en el conjunto siguiente.




3. Hay 5 animales en el conjunto siguiente.



4. Hay 2 animales en el conjunto siguiente.



5. Hay 12 animales en el conjunto siguiente.



6. Hay 6 animales en el conjunto siguiente.




Contar Animales (i)

Cuente la cantidad en cada conjunto de animales.

1. Hay ____ animales en el conjunto siguiente.



2. Hay ____ animales en el conjunto siguiente.



3. Hay ____ animales en el conjunto siguiente.




4. Hay ____ animales en el conjunto siguiente.



5. Hay ____ animales en el conjunto siguiente.



6. Hay ____ animales en el conjunto siguiente.




Contar Animales (i) Respuestas

Cuente la cantidad en cada conjunto de animales.


1. Hay 14 animales en el conjunto siguiente.



2. Hay 7 animales en el conjunto siguiente.




3. Hay 28 animales en el conjunto siguiente.




4. Hay 2 animales en el conjunto siguiente.



5. Hay 8 animales en el conjunto siguiente.




6. Hay 7 animales en el conjunto siguiente.




Contar Animales (i)

Cuente la cantidad en cada conjunto de animales.

1. Hay _____ animales en el conjunto siguiente.




2. Hay _____ animales en el conjunto siguiente.




3. Hay _____ animales en el conjunto siguiente.



4. Hay _____ animales en el conjunto siguiente.



5. Hay _____ animales en el conjunto siguiente.




6. Hay _____ animales en el conjunto siguiente.




Contar Animales (I) Respuestas

Cuente la cantidad en cada conjunto de animales.

1. Hay 16 animales en el conjunto siguiente.




2. Hay 19 animales en el conjunto siguiente.




3. Hay 6 animales en el conjunto siguiente.



4. Hay 14 animales en el conjunto siguiente.



5. Hay 30 animales en el conjunto siguiente.



6. Hay 4 animales en el conjunto siguiente.

