


Contar Animales (D)

Cuente la cantidad en cada conjunto de animales.


1. Hay _____ animales en el conjunto siguiente.



2. Hay _____ animales en el conjunto siguiente.



3. Hay _____ animales en el conjunto siguiente.




4. Hay _____ animales en el conjunto siguiente.



5. Hay _____ animales en el conjunto siguiente.




6. Hay _____ animales en el conjunto siguiente.



Contar animales (B) Respuestas

Cuente la cantidad en cada conjunto de animales.

1. Hay 5 animales en el conjunto siguiente.



2. Hay 2 animales en el conjunto siguiente.



3. Hay 3 animales en el conjunto siguiente.



4. Hay 4 animales en el conjunto siguiente.



5. Hay 6 animales en el conjunto siguiente.



6. Hay 7 animales en el conjunto siguiente.

