



Contar Animales (H)

Cuente la cantidad en cada conjunto de animales.


1. Hay ____ animales en el conjunto siguiente.



2. Hay ____ animales en el conjunto siguiente.



3. Hay ____ animales en el conjunto siguiente.



4. Hay ____ animales en el conjunto siguiente.



5. Hay ____ animales en el conjunto siguiente.




6. Hay ____ animales en el conjunto siguiente.




Contar Animales (H) Respuestas

Cuente la cantidad en cada conjunto de animales.


1. Hay 6 animales en el conjunto siguiente.



2. Hay 7 animales en el conjunto siguiente.



3. Hay 4 animales en el conjunto siguiente.



4. Hay 3 animales en el conjunto siguiente.



5. Hay 2 animales en el conjunto siguiente.



6. Hay 5 animales en el conjunto siguiente.

