

Contar Animales (i)

Cuente la cantidad en cada conjunto de animales.

1. Hay ____ animales en el conjunto siguiente.



2. Hay ____ animales en el conjunto siguiente.




3. Hay ____ animales en el conjunto siguiente.



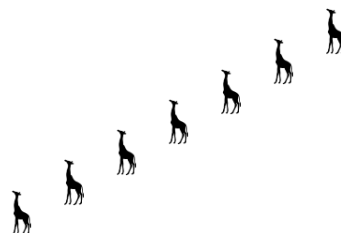
4. Hay ____ animales en el conjunto siguiente.



5. Hay ____ animales en el conjunto siguiente.



6. Hay ____ animales en el conjunto siguiente.



Contar Animales (i) Respuestas

Cuente la cantidad en cada conjunto de animales.

1. Hay 3 animales en el conjunto siguiente.



2. Hay 2 animales en el conjunto siguiente.




3. Hay 4 animales en el conjunto siguiente.



4. Hay 5 animales en el conjunto siguiente.



5. Hay 6 animales en el conjunto siguiente.



6. Hay 7 animales en el conjunto siguiente.

