


# Contar Animales (i)

Cuente la cantidad en cada conjunto de animales.

1. Hay \_\_\_\_ animales en el conjunto siguiente.



2. Hay \_\_\_\_ animales en el conjunto siguiente.



3. Hay \_\_\_\_ animales en el conjunto siguiente.



4. Hay \_\_\_\_ animales en el conjunto siguiente.



5. Hay \_\_\_\_ animales en el conjunto siguiente.




6. Hay \_\_\_\_ animales en el conjunto siguiente.




# Contar Animales (I) Respuestas

Cuente la cantidad en cada conjunto de animales.

1. Hay 4 animales en el conjunto siguiente.



2. Hay 6 animales en el conjunto siguiente.



3. Hay 2 animales en el conjunto siguiente.



4. Hay 5 animales en el conjunto siguiente.



5. Hay 3 animales en el conjunto siguiente.



6. Hay 7 animales en el conjunto siguiente.

