

Contar Animales (B)

Cuente la cantidad en cada conjunto de animales.


1. Hay _____ animales en el conjunto siguiente.



2. Hay _____ animales en el conjunto siguiente.



3. Hay _____ animales en el conjunto siguiente.



4. Hay _____ animales en el conjunto siguiente.



5. Hay _____ animales en el conjunto siguiente.



6. Hay _____ animales en el conjunto siguiente.



Contar Animales (B) Respuestas

Cuente la cantidad en cada conjunto de animales.


1. Hay 15 animales en el conjunto siguiente.




2. Hay 28 animales en el conjunto siguiente.



3. Hay 20 animales en el conjunto siguiente.



4. Hay 9 animales en el conjunto siguiente.



5. Hay 6 animales en el conjunto siguiente.



6. Hay 18 animales en el conjunto siguiente.

