

Contar Animales (i)

Cuente la cantidad en cada conjunto de animales.

1. Hay _____ animales en el conjunto siguiente.



2. Hay _____ animales en el conjunto siguiente.




3. Hay _____ animales en el conjunto siguiente.




4. Hay _____ animales en el conjunto siguiente.



5. Hay _____ animales en el conjunto siguiente.



6. Hay _____ animales en el conjunto siguiente.



Contar Animales (i) Respuestas

Cuente la cantidad en cada conjunto de animales.

1. Hay 10 animales en el conjunto siguiente.



2. Hay 24 animales en el conjunto siguiente.




3. Hay 14 animales en el conjunto siguiente.



4. Hay 15 animales en el conjunto siguiente.



5. Hay 42 animales en el conjunto siguiente.



6. Hay 36 animales en el conjunto siguiente.

